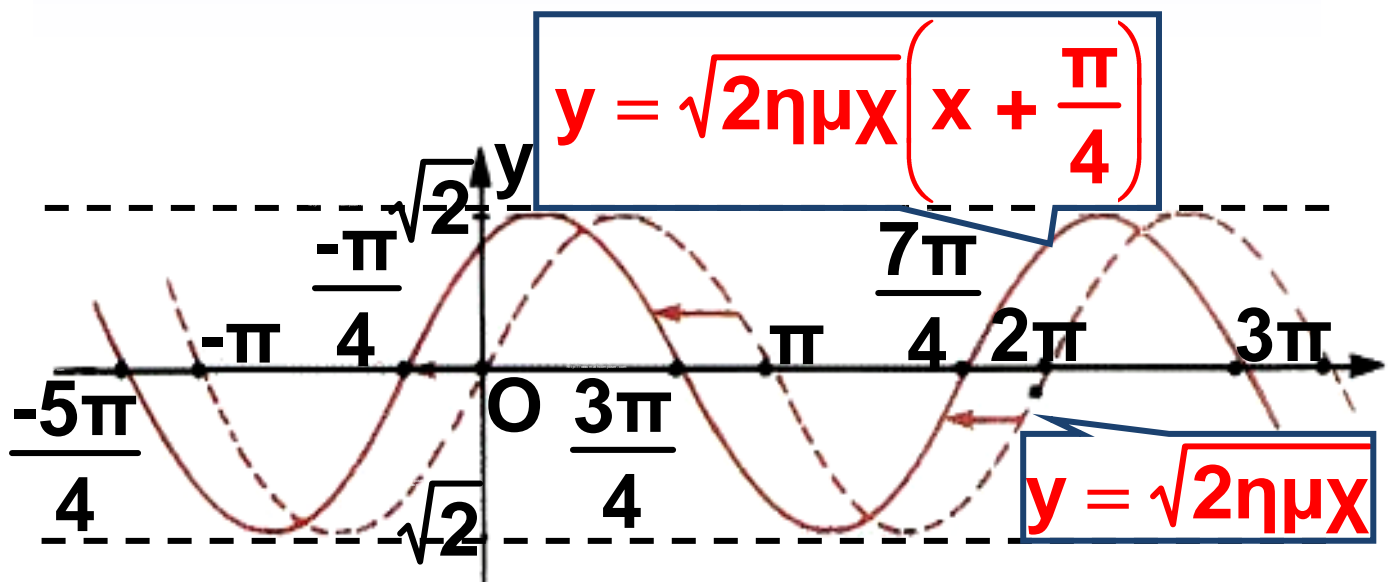


Σ. ΑΝΔΡΕΑΔΑΚΗΣ
Β. ΚΑΤΣΑΡΓΥΡΗΣ
Σ. ΠΑΠΑΣΤΑΥΡΙΔΗΣ
Γ. ΠΟΛΥΖΟΣ
Α. ΣΒΕΡΚΟΣ

ΑΛΓΕΒΡΑ

Β' ΓΕΝΙΚΟΥ ΛΥΚΕΙΟΥ



Τόμος 1ος

Μαθηματικά

Α΄ ΤΑΞΗΣ ΓΕΝΙΚΟΥ ΛΥΚΕΙΟΥ

Τόμος 1ος

ΣΥΓΓΡΑΦΕΙΣ

Ανδρεαδάκης Στυλιανός
Κατσαργύρης Βασίλειος
Παπασταυρίδης Σταύρος
Πολύζος Γεώργιος
Σβέρκος Ανδρέας

ΟΜΑΔΑ ΑΝΑΜΟΡΦΩΣΗΣ

Ανδρεαδάκης Στυλιανός
*Ομότιμος Καθηγητής
Πανεπιστημίου Αθηνών*
Κατσαργύρης Βασίλειος
*Καθηγητής Βαρβακείου
Πειραματικού Λυκείου*
Παπασταυρίδης Σταύρος
Καθηγητής Πανεπιστημίου Αθηνών
Πολύζος Γεώργιος
Μόνιμος Πάρεδρος του Π.Ι.
Σβέρκος Ανδρέας
*Καθηγητής 2ου Πειραματικού
Λυκείου Αθηνών*

ΕΠΟΠΤΕΙΑ ΤΗΣ ΑΝΑΜΟΡΦΩΣΗΣ
ΣΤΟ ΠΛΑΙΣΙΟ ΤΟΥ Π.Ι.

Σκούρας Αθανάσιος

Σύμβουλος του Π.Ι.

Πολύζος Γεώργιος

Μόνιμος Πάρεδρος του Π.Ι.

ΕΠΙΜΕΛΕΙΑ ΤΗΣ
ΑΝΑΜΟΡΦΩΜΕΝΗΣ ΕΚΔΟΣΗΣ

Ελευθερόπουλος Ιωάννης

*Καθηγητής Μαθηματικών,
Αποσπασμένος στο Π.Ι.*

Ζώτος Ιωάννης Καθηγητής

Μαθ/κών, Αποσπασμένος στο Π.Ι.

Καλλιπολίτου Ευρυδίκη Καθηγήτρια
Μαθ/κών, Αποσπασμένη στο Π.Ι.

ΠΡΟΣΑΡΜΟΓΗ ΤΟΥ ΒΙΒΛΙΟΥ ΓΙΑ
ΜΑΘΗΤΕΣ ΜΕ ΜΕΙΩΜΕΝΗ ΟΡΑΣΗ

*Ομάδα Εργασίας Υπουργείου
Παιδείας, Δια Βίου Μάθησης
και Θρησκευμάτων*

**ΥΠΟΥΡΓΕΙΟ ΠΑΙΔΕΙΑΣ ΔΙΑ ΒΙΟΥ
ΜΑΘΗΣΗΣ ΚΑΙ ΘΡΗΣΚΕΥΜΑΤΩΝ
ΠΑΙΔΑΓΩΓΙΚΟ ΙΝΣΤΙΤΟΥΤΟ**

**Σ. ΑΝΔΡΕΑΔΑΚΗΣ
Β. ΚΑΤΣΑΡΓΥΡΗΣ
Σ. ΠΑΠΑΣΤΑΥΡΙΔΗΣ
Γ. ΠΟΛΥΖΟΣ
Α. ΣΒΕΡΚΟΣ**

Μαθηματικά

Α΄ ΤΑΞΗΣ ΓΕΝΙΚΟΥ ΛΥΚΕΙΟΥ

Τόμος 1ος

Α΄ ΕΚΔΟΣΗ: 1991

ΕΠΑΝΕΚΔΟΣΕΙΣ ΜΕ ΒΕΛΤΙΩΣΕΙΣ:

**1992, 1993, 1994, 1995, 1996, 1997,
1998**

**Η προσαρμογή του βιβλίου στο νέο
αναλυτικό πρόγραμμα έγινε από
το Παιδαγωγικό Ινστιτούτο.**

ΠΡΟΛΟΓΟΣ

Το βιβλίο που κρατάτε στα χέρια σας απευθύνεται στους μαθητές της Β΄ Λυκείου και είναι η συνέχεια της νέας συγγραφικής προσπάθειας για τα μαθηματικά του Λυκείου, που άρχισε το Παιδαγωγικό Ινστιτούτο το έτος 1989-90. Η προσπάθεια αυτή έχει ως σκοπό τον εκσυγχρονισμό των μαθηματικών βιβλίων των Λυκείων της χώρας μας με βάση τις αντιλήψεις που αναπτύχθηκαν στο διεθνή επιστημονικό χώρο για τη διδασκαλία των μαθηματικών κατά τη δεκαετία 1980-1990. Το περιεχόμενο του παρόντος τεύχους έχει σε γενικές γραμμές ως εξής:

Το πρώτο κεφάλαιο αναφέρεται στην Τριγωνομετρία και είναι η συνέχεια της αντίστοιχης ενότητας

του βιβλίου της Α΄ Λυκείου. Εδώ γίνεται σαφέστερη η σύνδεση των τριγωνομετρικών μεγεθών με φαινόμενα που εμφανίζουν περιοδικότητα, καθώς και η δυνατότητα συστηματικής χρησιμοποίησης γωνιών για τον υπολογισμό μηκών.

Στο δεύτερο κεφάλαιο τίθενται οι βάσεις για μια πιο συστηματική μελέτη των πολυωνύμων και αναπτύσσονται διάφορες μέθοδοι επίλυσης πολυωνυμικών εξισώσεων.

Το τρίτο κεφάλαιο αποτελεί την εισαγωγή σε μια καινούρια για τους μαθητές και πολύ σημαντική μαθηματική έννοια, την έννοια της ακολουθίας. Εξετάζονται η αριθμητική και η γεωμετρική πρόοδος καθώς και προβλήματα ανατοκισμού και εισάγονται τα πρώτα ψήγματα της έννοιας του ορίου με το άθροισμα

των άπειρων όρων μιας γεωμετρικής προόδου με $|λ| < 1$.

Στο τέταρτο κεφάλαιο, εισάγονται δυο καινούριες και πολύ σημαντικές συναρτήσεις, η Εκθετική και η Λογαριθμική, και έτσι ολοκληρώνεται ο κατάλογος των βασικών συναρτήσεων που παρουσιάζονται στα μαθηματικά του Λυκείου.

Στο πέμπτο και τελευταίο κεφάλαιο του βιβλίου, εισάγεται μια από τις τρεις σημαντικότερες συλλήψεις των μαθηματικών της Αναγέννησης, η έννοια της Παραγώγου. (Οι άλλες δύο είναι το Ολοκλήρωμα και η Αναλυτική Γεωμετρία, που θα μελετηθούν εκτενώς στη Γ' Λυκείου). Στο κεφάλαιο αυτό τονίζεται η χρησιμότητα της παραγώγου στη μελέτη μιας συνάρτησης ως προς τη μονοτονία και τα ακρότατα, καθώς και στην εύρεση της

εφαπτομένης μιας καμπύλης σε ένα σημείο της.

Οι συγγραφείς αισθάνονται την υποχρέωση να ευχαριστήσουν:

α) Την ομάδα των κριτών, η οποία βοήθησε με τις παρατηρήσεις της την παρούσα συγγραφική προσπάθεια. Την ομάδα των κριτών αποτελούσαν οι:

Αναγνωστόπουλος Παναγιώτης, καθηγητής μαθηματικών Β/θμιας Εκπαίδευσης.

Αχτσαλωτίδης Χριστόφορος, καθηγητής μαθηματικών Β/θμιας Εκπαίδευσης.

Δικαιάκου–Μαυρουδέα Καλλιόπη, σχολική σύμβουλος μαθηματικών.

Καββαδίας Κων/νος, καθηγητής μαθηματικών Β/θμιας Εκπαίδευσης.

Κουζέλης Ανδρέας, διευθυντής Λυκείου.


**Τζιαφέτας Γεώργιος, καθηγητής
Ε.Μ. Πολυτεχνείου.**

**β) Το σύμβουλο του Π.Ι. κ. Β.
Θεοδωρακόπουλο για τις γλωσσικ-
κές παρατηρήσεις του στα δοκίμια.**

**γ) Τον διευθύνοντα σύμβουλο
του Ο.Ε.Δ.Β. κ. Κ. Τσαμαδιά για τη
βοήθεια που προσέφερε στην
εκτύπωση-διακίνηση του βιβλίου
και την υπάλληλο του Ο.Ε.Δ.Β. κ.
Αικ. Δραγώνα που είχε την
καλλιτεχνική επιμέλεια του βιβλίου.**

**Όποιος μαθητής, συνάδελφος
καθηγητής ή οποιοσδήποτε ενδια-
φέρεται για την Παιδεία στον τόπο
μας, θέλει να κάνει σχόλια, παρατη-
ρήσεις ή κρίσεις για το βιβλίο αυτό,
παρακαλείται να απευθύνεται στο
Παιδαγωγικό Ινστιτούτο, Μεσογεί-
ων 396, 153 10 Αγ. Παρασκευή.**

**Ιανουάριος 1992
Οι Συγγραφείς**

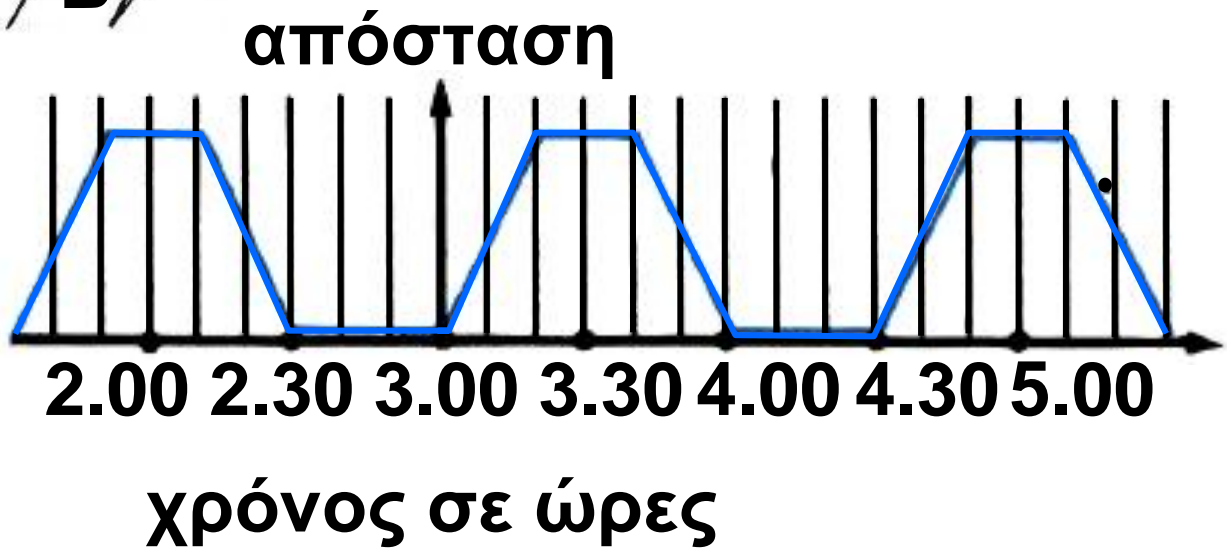
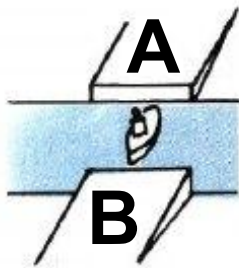


Τριγωνομετρία

1.1 Οι τριγωνομετρικές συναρτήσεις

Περιοδικές συναρτήσεις

– Έστω ότι ένα φέρι-μποτ πηγαυνοέρχεται μεταξύ δύο λιμανιών A και B και η γραφική παράσταση της απόστασής του από το λιμάνι A ως συνάρτηση του χρόνου φαίνεται στο παρακάτω σχήμα.




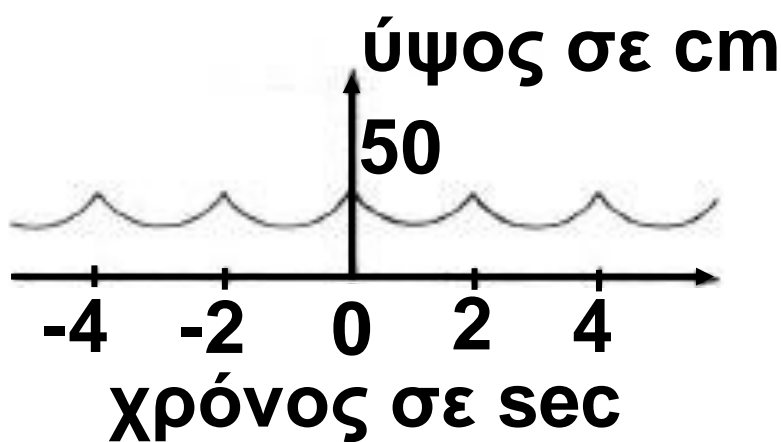
Παρατηρούμε ότι κάθε $1 \frac{1}{2}$ ώρα το φέρι-μπότ επαναλαμβάνει την ίδια ακριβώς κίνηση. Αυτό σημαίνει ότι σε όποια απόσταση βρίσκεται από το λιμάνι A σε κάποια χρονική στιγμή t , στην ίδια απόσταση θα βρίσκεται και τη χρονική στιγμή $t + 1 \frac{1}{2}$ ώρες και στην ίδια απόσταση βρισκόταν και τη χρονική

στιγμή $t - 1 \frac{1}{2}$ ώρες.

Επομένως η συνάρτηση που εκφράζει την απόσταση του φέριμπότ από το λιμάνι Α, με τη βοήθεια του χρόνου t , έχει τις ίδιες τιμές τις χρονικές στιγμές t , $t + 1 \frac{1}{2}$, $t - 1 \frac{1}{2}$.

Λέμε ότι η συνάρτηση αυτή είναι περιοδική με περίοδο $1 - \frac{1}{2}$ ώρες.

– Στο παρακάτω σχήμα φαίνεται η γραφική παράσταση του ύψους μιας κούνιας ως συνάρτηση του χρόνου t .



Παρατηρούμε ότι, όποιο ύψος έχει η κούνια σε κάποια χρονική στιγμή t , το ίδιο ύψος θα έχει και τη χρονική στιγμή $t + 2 \text{ sec}$ και το ίδιο ύψος είχε και τη χρονική στιγμή $t - 2 \text{ sec}$. Λέμε πάλι ότι η συνάρτηση (που εκφράζει το ύψος της κούνιας με τη βοήθεια του χρόνου t) είναι περιοδική με περίοδο 2 sec .
Γενικότερα:

Μια συνάρτηση f με πεδίο ορισμού το A λέγεται περιοδική, όταν υπάρχει πραγματικός αριθμός $T > 0$ τέτοιος, ώστε για κάθε $x \in A$ να ισχύει:

i) $x + T \in A, x - T \in A$

και

ii) $f(x + T) = f(x - T) = f(x)$

Ο πραγματικός αριθμός T λέγεται περίοδος της συνάρτησης f .

Τριγωνομετρικές συναρτήσεις πραγματικών αριθμών

Όπως γνωρίζουμε, για κάθε γωνία ω υπάρχει μία μόνο τιμή του $\eta\mu\omega$, με $-1 < \eta\mu\omega < 1$. Έτσι ορίζεται μια συνάρτηση με την οποία κάθε γωνία ω αντιστοιχίζεται στο ημίτονό της. Ομοίως ορίζονται και οι άλλες τριγωνομετρικές συναρτήσεις γωνιών.

Πολλές εφαρμογές όμως των τριγωνομετρικών συναρτήσεων δεν περιέχουν γωνίες, αλλά πραγματικούς αριθμούς, όπως, π.χ, ο τύπος της αρμονικής ταλάντωσης $f(t) = \alpha \cdot \eta\mu\omega t$, στον οποίο τα α και ω είναι σταθερές και t είναι ένας πραγματικός αριθμός που παριστάνει το χρόνο.

Για το λόγο αυτό ορίζουμε στη συνέχεια τριγωνομετρικές

συναρτήσεις πραγματικής μεταβλη-
τής.

Συγκεκριμένα:

– Η συνάρτηση με την οποία κάθε
πραγματικός αριθμός x αντιστοιχί-
ζεται στο $\eta\mu (x \text{ rad})$ λέγεται **συνάρ-
τηση ημίτονο** και συμβολίζεται με
 $\eta\mu$.

Ορίζουμε δηλαδή ότι

$$\eta\mu x = \eta\mu (x \text{ rad}).$$

Επειδή $\eta\mu (\omega + 360^\circ) = \eta\mu (\omega - 360^\circ)$
 $= \eta\mu\omega$, για κάθε $x \in \mathbb{R}$ θα ισχύει:

$$\eta\mu (x + 2\pi) = \eta\mu (x - 2\pi) = \eta\mu x.$$

Άρα η συνάρτηση ημίτονο είναι
περιοδική με περίοδο 2π .

– Ομοίως ορίζουμε και τη συνάρ-
τηση **συνημίτονο** που συμβολίζε-
ται με **συν**. Ορίζουμε δηλαδή ότι

$$\text{συν} x = \text{συν} (x \text{ rad}).$$

Και η συνάρτηση συνημίτονο είναι περιοδική με περίοδο 2π .

– Η συνάρτηση εφαπτομένη που συμβολίζεται με $\epsilon\phi$, ορίζεται ως εξής:

$$\epsilon\phi x = \frac{\eta\mu x}{\sigma\upsilon\nu x}$$

Είναι φανερό ότι το πεδίο ορισμού της συνάρτησης $\epsilon\phi$ είναι το σύνολο:

$$R_1 = \{x \mid \sigma\upsilon\nu x \neq 0\}$$

Επειδή για κάθε $x \in R_1$ ισχύει

$$\epsilon\phi (x + \pi) = \epsilon\phi (x - \pi) = \epsilon\phi x,$$

η συνάρτηση εφαπτομένη είναι περιοδική με περίοδο π .

– Η συνάρτηση συνεφαπτομένη, που συμβολίζεται με $\sigma\phi$, ορίζεται ως εξής:

$$\sigma\phi x = \frac{\sigma\upsilon\nu x}{\eta\mu x}$$

Είναι φανερό ότι το πεδίο ορισμού της συνάρτησης $\sigma\phi$ είναι το σύνολο:

$$\mathbb{R}_2 = \{x \mid \eta\mu x \neq 0\}$$

Και η συνάρτηση συναφρομένη είναι περιοδική με περίοδο π .

Μελέτη της συνάρτησης

$$f(x) = \eta\mu x$$

Επειδή η συνάρτηση $f(x) = \eta\mu x$ είναι περιοδική με περίοδο 2π , αρκεί να τη μελετήσουμε σε ένα διάστημα πλάτους 2π , π.χ. το $[0, 2\pi]$. Έχουμε αναφέρει όμως ότι το $\eta\mu x$ είναι η τεταγμένη του σημείου M στο οποίο η τελική πλευρά της γωνίας $x \text{ rad}$ τέμνει τον τριγωνομετρικό κύκλο. Επομένως αρκεί να εξετάσουμε πώς μεταβάλλεται η τεταγμένη του M , όταν αυτό περιφέρεται στον τριγωνομετρικό

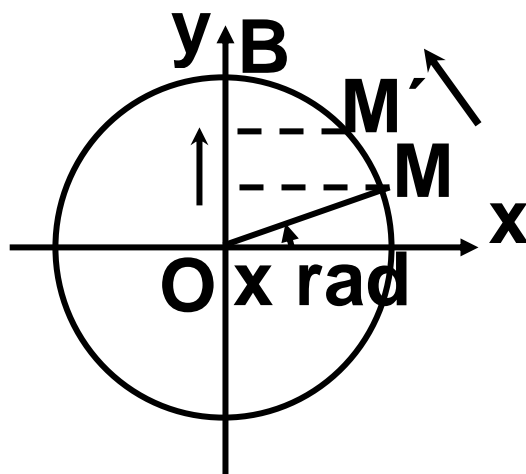
κύκλο κατά τη θετική φορά,
ξεκινώντας από το Α. Παρατηρούμε
ότι:

- Όταν το x μεταβάλλεται από το 0

μέχρι το $\frac{\pi}{2}$, το Μ κινείται από το Α

μέχρι το Β. Άρα η τεταγμένη του
αυξάνει, που σημαίνει ότι η συνάρ-
τηση $f(x) = \eta\mu x$ είναι γνησίως

αύξουσα στο διάστημα $\left[0, \frac{\pi}{2}\right]$



Ομοίως βρίσκουμε ότι η συνάρτηση
 $f(x) = \eta\mu x$ είναι:

– γνησίως φθίνουσα στο διάστημα

$\left[\frac{\pi}{2}, \pi\right]$,

– γνησίως φθίνουσα στο διάστημα

$$\left[\pi, \frac{3\pi}{2} \right],$$

– γνησίως αύξουσα στο διάστημα

$$\left[\frac{3\pi}{2}, 2\pi \right]$$

• Η συνάρτηση παρουσιάζει

– μέγιστο για $x = \frac{\pi}{2}$, το $\eta\mu \frac{\pi}{2} = 1$ και

– ελάχιστο για $x = \frac{3\pi}{2}$, το $\eta\mu \frac{3\pi}{2} = -1$.

Τα συμπεράσματα αυτά συνοψίζονται ως εξής:

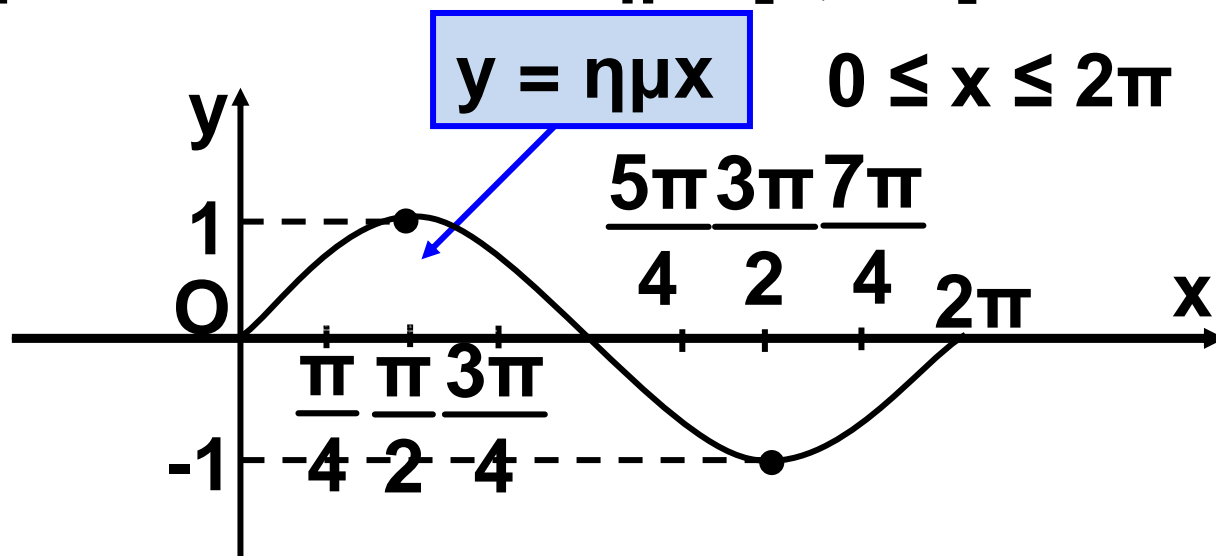
x	0	$\frac{\pi}{2}$	π	$\frac{3\pi}{2}$	2π
$\eta\mu x$	0	1 μεγ.	0	-1 ελαχ.	0

Για να κάνουμε τη γραφική παράσταση της συνάρτησης χρειαζόμαστε έναν πίνακα τιμών της. Κατά τα γνωστά έχουμε:

x	0	$\frac{\pi}{4}$	$\frac{\pi}{2}$	$\frac{3\pi}{4}$	π	$\frac{5\pi}{4}$	$\frac{3\pi}{2}$	$\frac{7\pi}{4}$	2π
$\eta\mu x$	0	$\frac{\sqrt{2}}{2} \approx 0,71$	1	$0,71$	0	$-0,71$	-1	$-0,71$	0

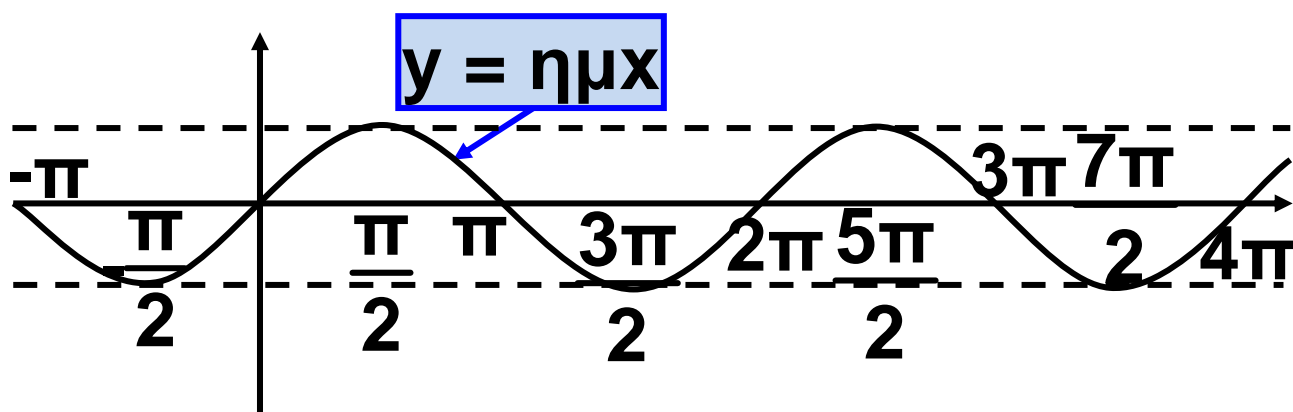
Παριστάνουμε με σημεία του επιπέδου τα ζεύγη αυτά των αντίστοιχων τιμών και τα ενώνουμε με μια συνεχή γραμμή.

Έτσι προκύπτει η παρακάτω γραφική παράσταση της συνάρτησης ημίτονο στο διάστημα $[0, 2\pi]$:



Επειδή η συνάρτηση $f(x) = \eta\mu x$ είναι περιοδική, με περίοδο 2π , η γραφική της παράσταση έχει την ίδια μορφή στα διαστήματα $[2\pi, 4\pi]$, $[4\pi, 6\pi]$ κτλ. καθώς και στα διαστήματα $[-2\pi, 0]$, $[-4\pi, -2\pi]$ κτλ.

Έτσι έχουμε την ακόλουθη γραφική παράσταση της συνάρτησης ημίτονο, η οποία λέγεται ημιτονοειδής καμπύλη.



Τέλος γνωρίζουμε ότι οι αντίθετες γωνίες έχουν αντίθετα ημίτονα. Άρα για κάθε $x \in \mathbb{R}$ ισχύει $\eta\mu(-x) = -\eta\mu x$. Αυτό σημαίνει ότι η συνάρτηση $f(x) = \eta\mu x$ είναι περιττή και επομένως η γραφική της παράσταση έχει

κέντρο συμμετρίας την αρχή $O(0,0)$ των αξόνων.

Μελέτη της συνάρτησης $f(x) = \sin x$

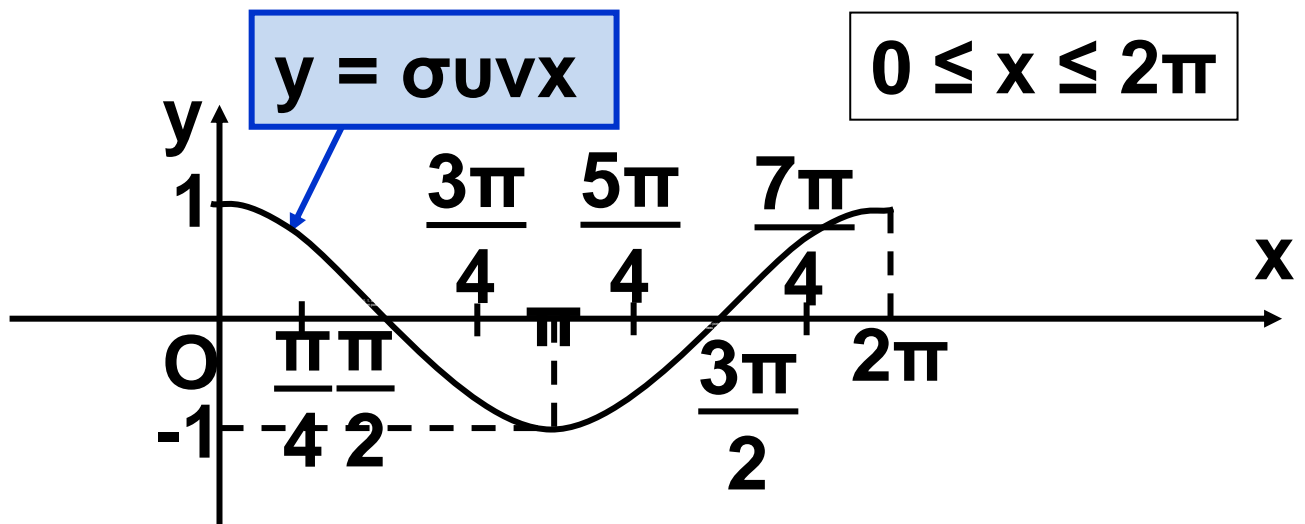
Επειδή η συνάρτηση $f(x) = \sin x$ είναι περιοδική με περίοδο 2π , αρκεί να τη μελετήσουμε σε ένα διάστημα πλάτους 2π , π.χ. το $[0, 2\pi]$. Από τη μελέτη αυτή προκύπτουν τα συμπεράσματα του επόμενου πίνακα:

x	0	$\frac{\pi}{2}$	π	$\frac{3\pi}{2}$	2π
$\sin x$	1 μεγ.	0	-1 ελαχ.	0	1 μεγ.

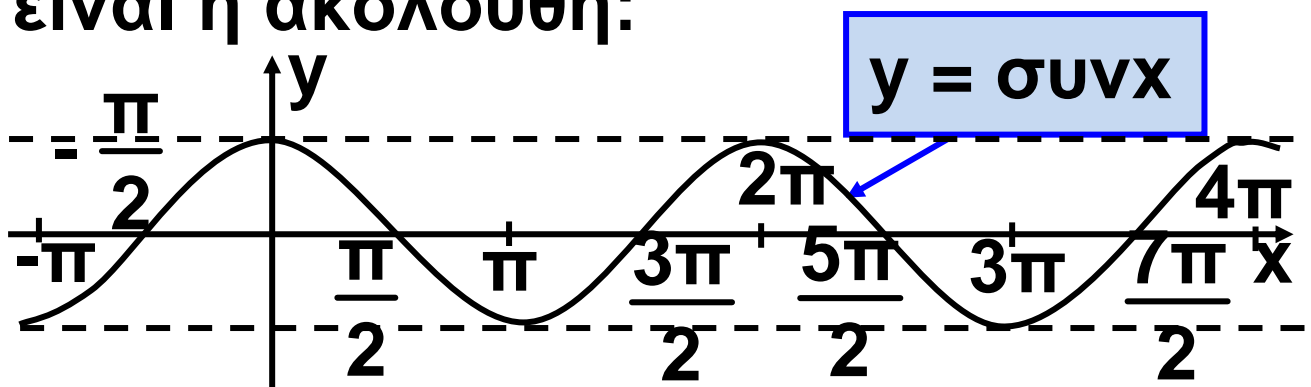
Συντάσσουμε τώρα κατά τα γνωστά και τον ακόλουθο πίνακα τιμών της συνάρτησης συνημίτονο:

x	0	$\frac{\pi}{4}$	$\frac{\pi}{2}$	$\frac{3\pi}{4}$	π	$\frac{5\pi}{4}$	$\frac{3\pi}{2}$	$\frac{7\pi}{4}$	2π
$\sigma\upsilon\nu\chi$	0	$0,71$	0	$-0,71$	-1	$-0,71$	0	$0,71$	1

Έτσι μπορούμε να σχεδιάσουμε τη γραφική παράσταση της $y = \sigma\upsilon\nu\chi$ για $0 \leq x \leq 2\pi$.



Επειδή η συνάρτηση $f(x) = \sigma\upsilon\nu\chi$ είναι περιοδική με περίοδο 2π , η γραφική της παράσταση στο \mathbb{R} είναι η ακόλουθη:



Τέλος γνωρίζουμε ότι οι αντίθετες γωνίες έχουν ίδιο συνημίτονο. Άρα για κάθε $x \in \mathbb{R}$ ισχύει $\text{συν}(-x) = \text{συν}x$. Αυτό σημαίνει ότι η συνάρτηση $f(x) = \text{συν}x$ είναι άρτια και επομένως η γραφική της παράσταση έχει άξονα συμμετρίας τον άξονα $y'y$.

Μελέτη της συνάρτησης $f(x) = \varepsilon\varphi x$

Επειδή η συνάρτηση $f(x) = \varepsilon\varphi x$ είναι περιοδική με περίοδο π , αρκεί να τη μελετήσουμε σε ένα διάστημα πλάτους π , π.χ. το $\left(-\frac{\pi}{2}, \frac{\pi}{2}\right)$, (Το διάστημα είναι ανοικτό, αφού η συνάρτηση $\varepsilon\varphi$ δεν ορίζεται στα $-\frac{\pi}{2}, \frac{\pi}{2}$).

Ας υποθέσουμε ότι η τελική πλευρά της γωνίας x rad τέμνει

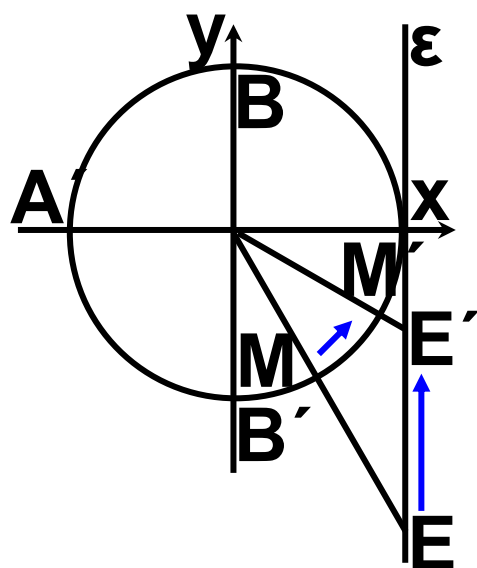
τον τριγωνομετρικό κύκλο στο M και την ευθεία των εφαπτόμενων στο σημείο E .

Όπως έχουμε αναφέρει η εφχ ισούται με την τεταγμένη του σημείου E . Επομένως:

• Όταν ο x παίρνει τιμές από $-\frac{\pi}{2}$ προς το $\frac{\pi}{2}$ το M κινείται στον

τριγωνομετρικό κύκλο κατά τη θετική φορά από το B' προς το B , οπότε η τεταγμένη του σημείου E αυξάνει. Αυτό σημαίνει ότι

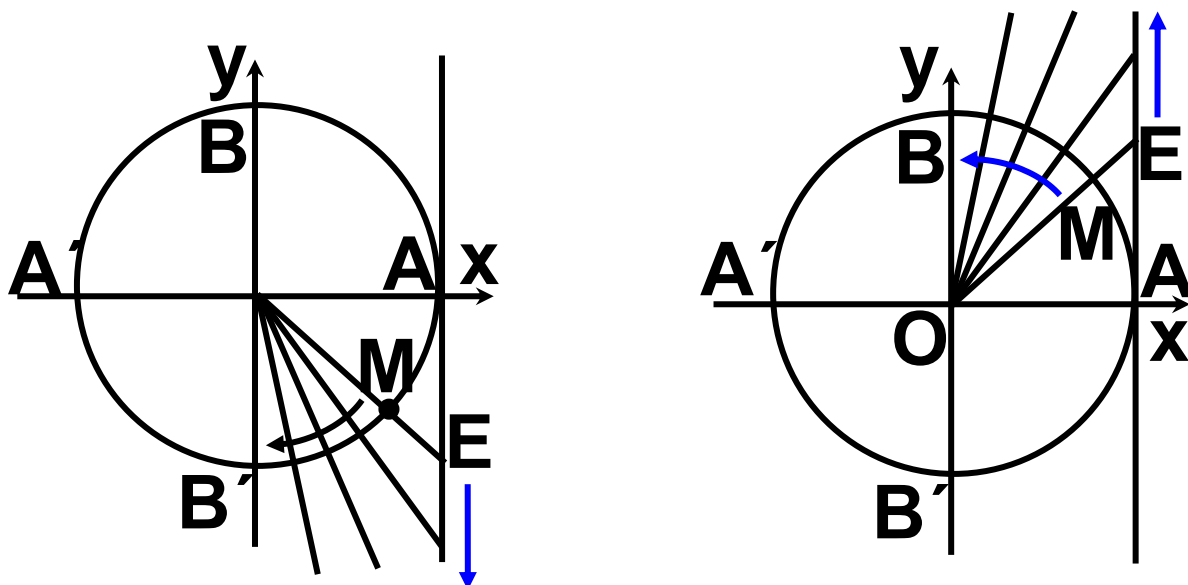
η $f(x) = \varepsilon\phi x$ είναι γνησίως αύξουσα στο διάστημα $\left(-\frac{\pi}{2}, \frac{\pi}{2}\right)$



• Όταν ο x «τείνει» στο $-\frac{\pi}{2}$ από μεγαλύτερες τιμές η $\epsilon\phi x$ «τείνει» στο $-\infty$. Γι' αυτό λέμε ότι η ευθεία $x = -\frac{\pi}{2}$ είναι κατακόρυφη

ασύμπτωτη της γραφικής παράστασης της Γ . Επίσης όταν ο x «τείνει» στο $\frac{\pi}{2}$ από μικρότερες τιμές η $\epsilon\phi x$ τείνει στο $+\infty$. Γι' αυτό λέμε ότι και η ευθεία $x = \frac{\pi}{2}$ είναι

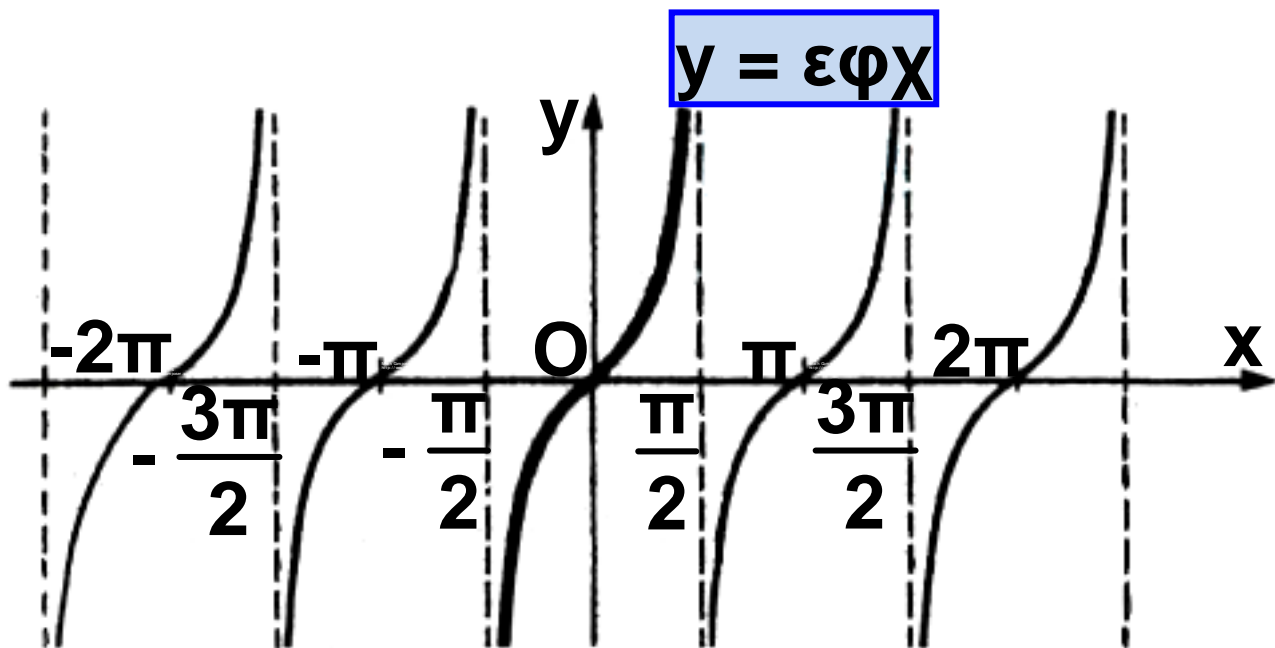
κατακόρυφη ασύμπτωτη της γραφικής παράστασης της f .



Για να κάνουμε τη γραφική παράσταση της $f(x) = \epsilon\phi x$ συντάσσουμε, με τη βοήθεια των τριγωνομετρικών πινάκων ή με επιστημονικό κομπιουτεράκι, έναν πίνακα τιμών της:

x	$-\frac{\pi}{2}$	$-\frac{\pi}{3}$	$-\frac{\pi}{4}$	$-\frac{\pi}{6}$	0	$\frac{\pi}{6}$	$\frac{\pi}{4}$	$\frac{\pi}{3}$	$\frac{\pi}{2}$
εφx	Δεν ορίζεται	$-\sqrt{3}$ $\simeq -1,7$	-1	$-\frac{\sqrt{3}}{3}$ $\simeq -0,6$	0	$-\frac{\sqrt{3}}{3}$ $\simeq -0,6$	1	$\sqrt{3}$ $\simeq 1,7$	Δεν ορίζεται

Στη συνέχεια παριστάνουμε με σημεία του επιπέδου τα ζεύγη αυτά των αντίστοιχων τιμών και τα ενώνουμε με μια συνεχή γραμμή. Η γραφική παράσταση της $f(x) = \varepsilon\varphi x$ φαίνεται στο παρακάτω σχήμα.



Είναι φανερό ότι η γραφική παράσταση της $f(x) = \epsilon\phi x$ έχει κέντρο συμμετρίας το O , αφού ($\S 5 \cdot 3 : \epsilon\phi(-x) = -\epsilon\phi x$) είναι περιττή συνάρτηση.

ΠΑΡΑΔΕΙΓΜΑΤΑ

1. Να παρασταθεί γραφικά η συνάρτηση $f(x) = 3\eta\mu x$

ΛΥΣΗ

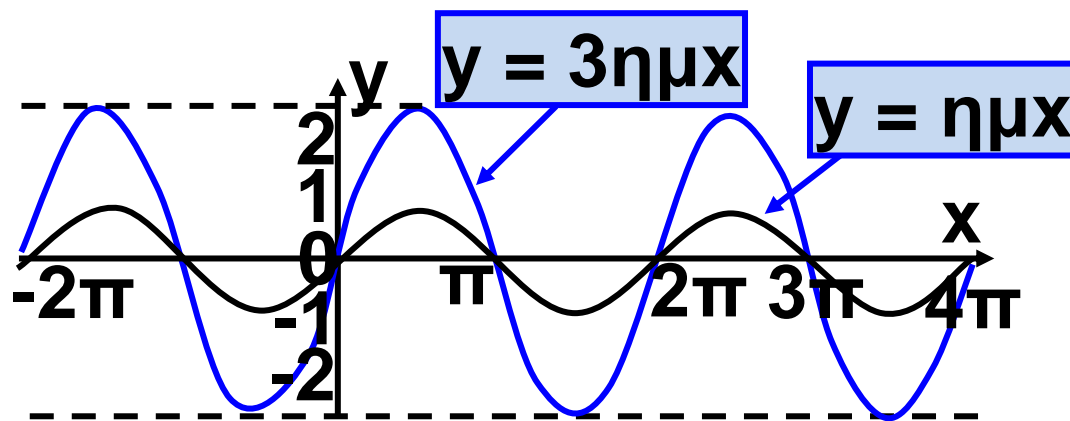
Οι τιμές της συνάρτησης $f(x) = 3\eta\mu x$ είναι προφανώς τριπλάσιες από τις αντίστοιχες τιμές της συνάρτησης $\varphi(x) = \eta\mu x$. Εξάλλου και η συνάρτηση αυτή είναι περιοδική με περίοδο 2π , αφού ισχύει:

$$\begin{aligned} f(x+2\pi) &= 3 \cdot \eta\mu(x+2\pi) = \\ &= 3 \cdot \eta\mu x = f(x), \text{ για κάθε } x \in \mathbb{R}. \end{aligned}$$

$$\begin{aligned} \text{και } f(x-2\pi) &= 3 \cdot \eta\mu(x-2\pi) = \\ &= 3 \cdot \eta\mu x = f(x), \text{ για κάθε } x \in \mathbb{R} \end{aligned}$$

Έχοντας υπόψιν τα στοιχεία αυτά και με τη βοήθεια ενός πίνακα τιμών σχεδιάζουμε τη γραφική παράσταση της $f(x) = 3\eta\mu x$.

x	0	$\frac{\pi}{2}$	π	$\frac{3\pi}{2}$	2π
$\eta\mu x$	0	1	0	-1	0
$3\eta\mu x$	0	3	0	-3	0



2. Να παρασταθεί γραφικά η συνάρτηση $f(x) = \eta\mu 2x$

ΛΥΣΗ

Κάθε τιμή της συνάρτησης $f(x) = \eta\mu 2x$ επαναλαμβάνεται, όταν το $2x$ αυξηθεί κατά 2π , που σημαίνει ότι η τιμή αυτή επαναλαμβάνεται, όταν το x αυξηθεί κατά π .

Επομένως,

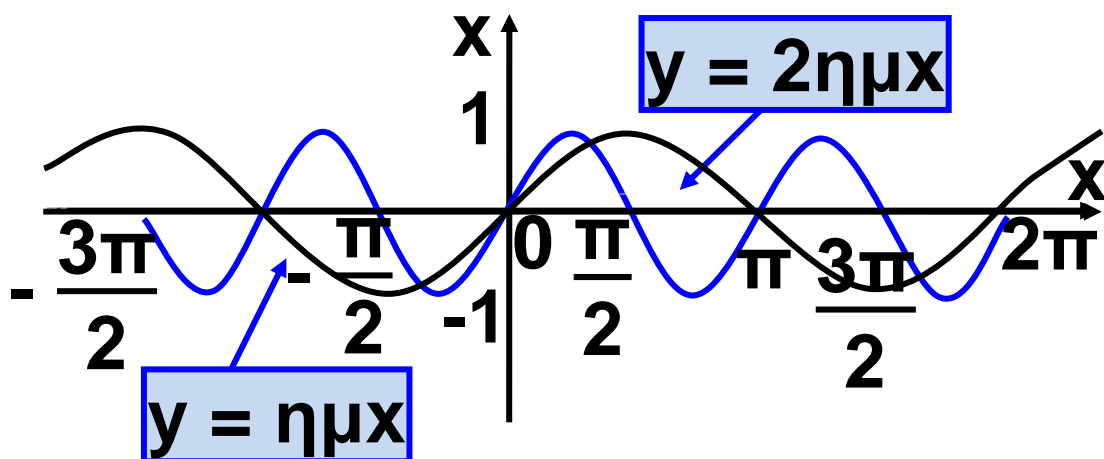
η συνάρτηση $f(x) = \eta\mu 2x$ είναι
περιοδική με περίοδο π . Πράγματι:

$$f(x + \pi) = \eta\mu 2(x + \pi) = \eta\mu(2x + 2\pi) = \\ = \eta\mu 2x = f(x), \text{ για κάθε } x \in \mathbb{R}$$

$$\text{και } f(x - \pi) = \eta\mu 2(x - \pi) = \\ = \eta\mu(2x - 2\pi) = \eta\mu 2x = f(x) \text{ για κάθε } \\ x \in \mathbb{R}$$

Έχοντας υπόψη το στοιχείο αυτό
και με τη βοήθεια ενός πίνακα
τιμών, σχεδιάζουμε τη γραφική
παράσταση της $f(x) = \eta\mu 2x$.

x	0	$\frac{3\pi}{2}$	$\frac{\pi}{2}$	$\frac{3\pi}{4}$	π
$\eta\mu 2x$	0	1	0	-1	0



3. Να παρασταθεί γραφικά η συνάρτηση $f(x) = 3\eta\mu 2x$

ΛΥΣΗ

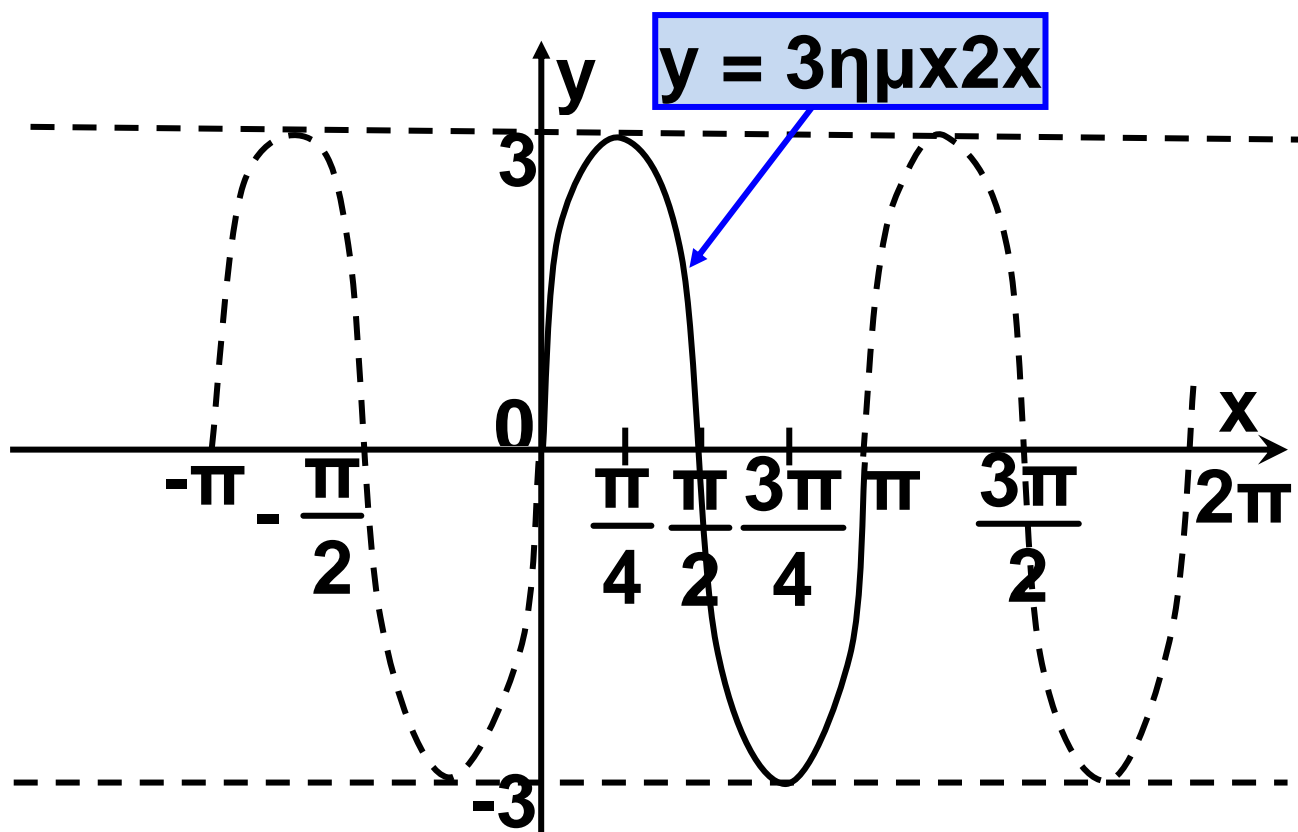
Σύμφωνα με τα προηγούμενα παραδείγματα η συνάρτηση αυτή έχει μέγιστο 3, ελάχιστο -3 και είναι περιοδική με περίοδο π .

Ένας πίνακας τιμών της συνάρτησης $f(x) = 3\eta\mu 2x$ είναι ο εξής:

x	0	$\frac{\pi}{4}$	$\frac{\pi}{2}$	$\frac{3\pi}{4}$	π
$3\eta\mu 2x$	0	3	0	-3	0

Με τη βοήθεια του πίνακα αυτού σχεδιάζουμε τη γραφική παράσταση της συνάρτησης.

Σχόλιο Από τα προηγούμενα παραδείγματα γίνεται φανερό ότι, σε μια συνάρτηση της μορφής



$f(x) = \rho \eta\mu\omega x$, όπου $\rho, \omega > 0$:

(i) Το ρ καθορίζει τη μέγιστη τιμή της, που είναι ίση με ρ και την ελάχιστη τιμή της που είναι ίση με $-\rho$.

(ii) Το ω καθορίζει την περίοδο της συνάρτησης που είναι ίση

με $\frac{2\pi}{\omega}$

Τα ίδια συμπεράσματα ισχύουν και για μια συνάρτηση της μορφής

$f(x) = \rho \sigma\upsilon\nu\omega x$, όπου $\rho, \omega > 0$

ΑΣΚΗΣΕΙΣ

Α' ΟΜΑΔΑΣ

1. Να σχεδιάσετε τις γραφικές παραστάσεις των συναρτήσεων, κάθε φορά στο ίδιο σύστημα αξόνων

i) $f(x) = 2\eta\mu x$, $g(x) = 0,5 \cdot \eta\mu x$,
 $h(x) = -2\eta\mu x$, $0 \leq x \leq 2\pi$.

ii) $f(x) = 2\sigma\upsilon\nu x$, $g(x) = 0,5 \cdot \sigma\upsilon\nu x$,
 $h(x) = -2\sigma\upsilon\nu x$, $0 \leq x \leq 2\pi$.

2. Σε ένα σύστημα αξόνων να σχεδιάσετε τη γραφική παράσταση της συνάρτησης $f(x) = \eta\mu x$ και στη συνέχεια τις γραφικές παραστάσεις των συναρτήσεων

$g(x) = 1 + \eta\mu x$ και $h(x) = -1 + \eta\mu x$

3. Να σχεδιάσετε στο ίδιο σύστημα αξόνων τις γραφικές παραστάσεις των συναρτήσεων

$$f(x) = \eta\mu x \quad \text{και} \quad g(x) = \eta\mu 3x, \\ 0 \leq x \leq 2\pi.$$

4. Ομοίως των συναρτήσεων

$$f(x) = \sigma\upsilon\nu x \quad \text{και} \quad g(x) = \sigma\upsilon\nu 3x, \\ 0 \leq x \leq 2\pi.$$

5. Έστω η συνάρτηση $f(x) = 2\eta\mu \frac{x}{2}$. Ποια είναι η μέγιστη και ποια η ελάχιστη τιμή της συνάρτησης αυτής; Ποια είναι η περίοδος της εν λόγω συνάρτησης; Να σχεδιάσετε τη γραφική παράσταση της f σε διάστημα πλάτους μιας περιόδου.

6. Ομοίως για τη συνάρτηση

$$f(x) = 2 \sigma\upsilon\nu \frac{x}{2}$$

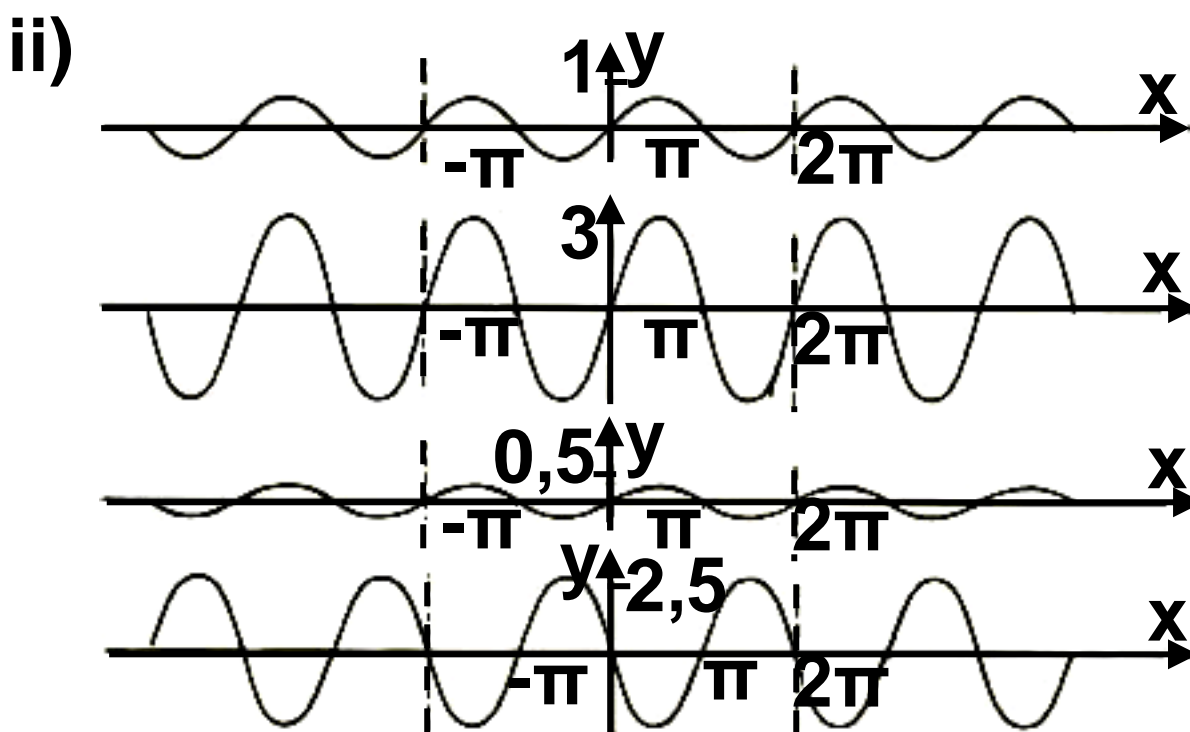
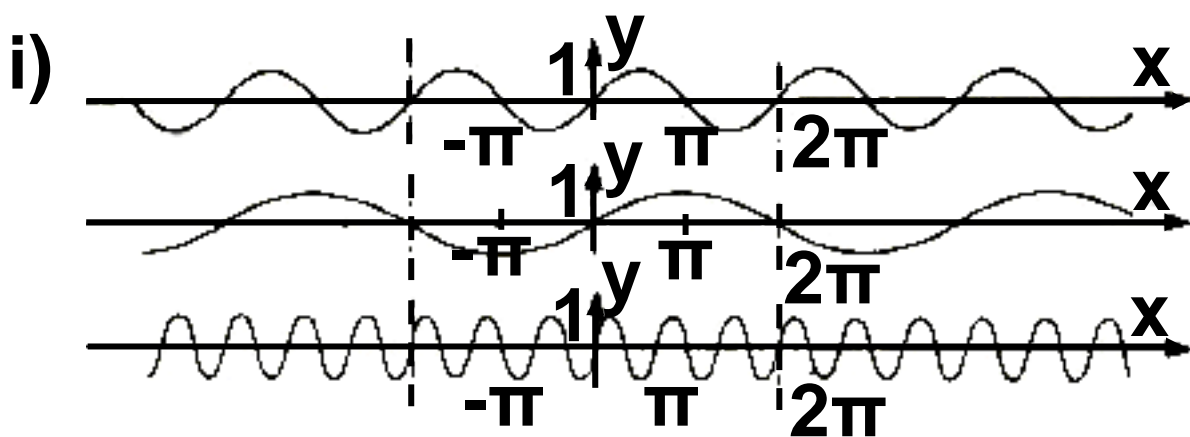
**7. Να σχεδιάσετε τις γραφικές παραστάσεις των συναρτήσεων
i) $f(x) = \varepsilon\varphi x$, ii) $g(x) = 1+\varepsilon\varphi x$ και
iii) $h(x) = -1+\varepsilon\varphi x$ στο ίδιο σύστημα αξόνων**

**8. Να μελετήσετε και να παραστήσετε γραφικά τη συνάρτηση
 $f(x) = \varepsilon\varphi 2x$.**

**9. Να μελετήσετε και να παραστήσετε γραφικά τη συνάρτηση
 $f(x) = \sigma\varphi x$.**

B' ΟΜΑΔΑΣ

1. Να βρείτε τις εξισώσεις των ημιτονοειδών καμπύλων:



2. Η παλίρροια σε μια θαλάσσια περιοχή περιγράφεται κατά προσέγγιση με τη συνάρτηση

$$y = 3 \cdot \eta\mu \left(\frac{\pi}{6} \cdot t \right), \text{ όπου } y \text{ το ύψος}$$

της στάθμης των υδάτων σε μέτρα και t ο χρόνος σε ώρες.


i) Να βρείτε την υψομετρική διαφορά ανάμεσα στην ψηλότερη πλημμυρίδα και τη χαμηλότερη άμπωτη.

ii) Να κάνετε τη γραφική παράσταση της συνάρτησης για $0 \leq t \leq 12$.

3. Ένα παιγνίδι κρέμεται με ένα ελατήριο από το ταβάνι και απέχει από το πάτωμα 1m . Όταν το παιγνίδι ανεβοκατεβαίνει, το ύψος του από το πάτωμα σε μέτρα είναι

$h = 1 + \frac{1}{3} \sin 3t$, όπου t ο χρόνος σε

δευτερόλεπτα.




i) Να υπολογίσετε τη διαφορά ανάμεσα στο μέγιστο και στο ελάχιστο ύψος.

ii) Να βρείτε την περίοδο της ταλάντωσης

iii) Να κάνετε τη γραφική παράσταση της συνάρτησης για $0 \leq t \leq 2\pi$.

4. Η απόσταση x του πιστονιού σε μέτρα από το ένα άκρο του κυλίνδρου περιγράφεται με τη συνάρτηση $x(t) = 0,1 + 0,1 \cdot \eta\mu 3t$, όπου t ο χρόνος σε δευτερόλεπτα,



i) Να υπολογίσετε το πλάτος της κίνησης του πιστονιού,

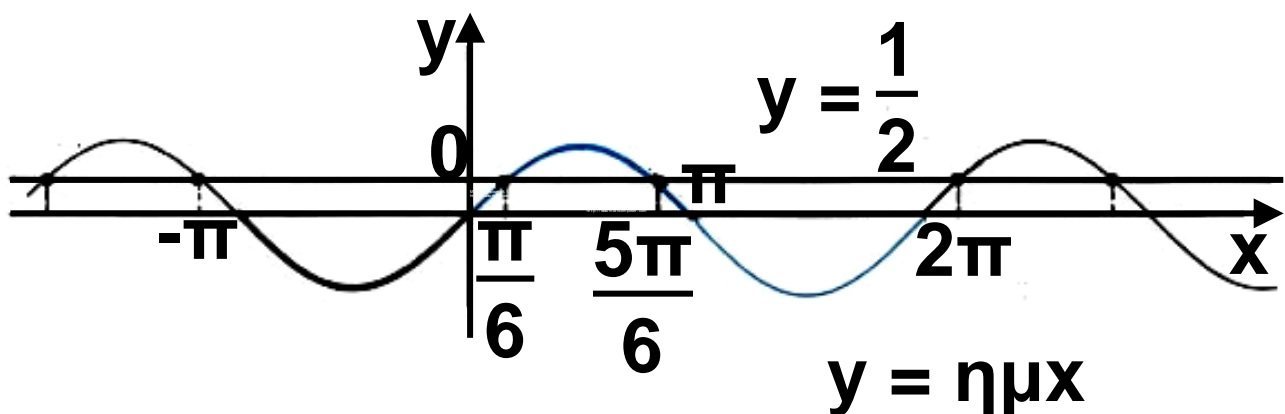
ii) Να κάνετε τη γραφική παράσταση της συνάρτησης για $0 \leq t \leq 2\pi$.

Ποιες στιγμές του χρονικού αυτού διαστήματος η απόσταση είναι $0,15\text{m}$;

1.2 Βασικές τριγωνομετρικές εξισώσεις

Η εξίσωση $\eta\mu x = \alpha$

Έστω ότι θέλουμε να λύσουμε την εξίσωση $\eta\mu x = \frac{1}{2}$. Είναι φανερό ότι ζητάμε να βρούμε τις τετμημένες των σημείων τομής της καμπύλης $y = \eta\mu x$ και της ευθείας $y = \frac{1}{2}$.



Ζητάμε δηλαδή εκείνα τα $x \in \mathbb{R}$, για τα οποία η συνάρτηση $f(x) = \eta\mu x$ παίρνει

την τιμή $\frac{1}{2}$. Επειδή η συνάρτηση αυτή είναι περιοδική με περίοδο 2π , για να βρούμε τα ζητούμενα x , που είναι άπειρα σε πλήθος (βλ. σχήμα), αρκεί να βρούμε όσα από αυτά υπάρχουν σε ένα διάστημα πλάτους 2π και σε κάθε ένα να προσθέσουμε το $k \cdot 2\pi$, όπου k ακέραιος.

Με τη βοήθεια του τριγωνομετρικού κύκλου βρίσκουμε ότι οι λύσεις

της εξίσωσης $\eta\mu x = \frac{1}{2}$ στο διάστημα

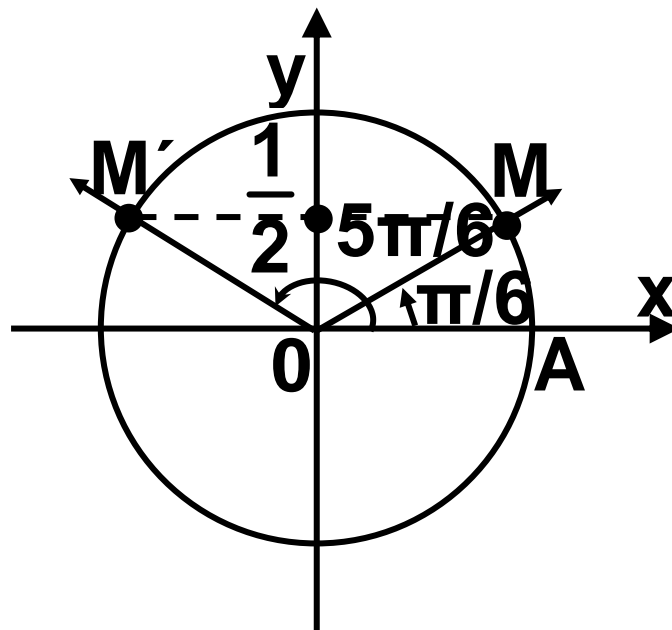
$[0, 2\pi]$, είναι οι $\frac{\pi}{6}$ και $\pi - \frac{\pi}{6} = \frac{5\pi}{6}$,

γιατί $\eta\mu \frac{\pi}{6} = \eta\mu \frac{5\pi}{6} = \frac{1}{2}$

Επομένως το σύνολο των λύσεων

της εξίσωσης $\eta\mu x = \frac{1}{2}$ δίνεται από τους τύπους

$$\left\{ \begin{array}{l} x = 2k\pi + \frac{\pi}{6} \\ \quad \quad \quad \text{ή} \\ x = 2k\pi + \frac{5\pi}{6} \end{array} \right., \quad k \in \mathbb{Z}$$



Γενικότερα, αν θ είναι μία λύση της εξίσωσης $\eta\mu x = \alpha$, αν δηλαδή ισχύει $\eta\mu\theta = \alpha$, τότε οι λύσεις της εξίσωσης δίνονται από τους τύπους:

$$\begin{array}{l} x = 2k\pi + \theta \\ \quad \quad \quad \text{ή} \\ x = 2k\pi + (\pi - \theta) \end{array}, \quad k \in \mathbb{Z}$$

ΠΑΡΑΔΕΙΓΜΑΤΑ

1. Να λυθεί η εξίσωση $\eta\mu x = -\frac{\sqrt{3}}{2}$

ΛΥΣΗ

Επειδή $\eta\mu \frac{\pi}{3} = \frac{\sqrt{3}}{2}$, ισχύει

$$\eta\mu \left(-\frac{\pi}{3}\right) = -\frac{\sqrt{3}}{2}.$$

Επομένως η εξίσωση γράφεται

$$\eta\mu x = \eta\mu \left(-\frac{\pi}{3}\right),$$

οπότε οι λύσεις της δίνονται από τους τύπους:

$$\left\{ \begin{array}{l} x = 2k\pi - \frac{\pi}{3} \\ \quad \quad \quad \text{ή} \\ x = 2k\pi + \pi + \frac{\pi}{3} \end{array} \right. , k \in \mathbb{Z}$$

2. Να λυθεί η εξίσωση

$$\eta\mu\left(2x + \frac{\pi}{4}\right) = \frac{1}{2}$$

ΛΥΣΗ

Επειδή $\eta\mu\frac{\pi}{6} = \frac{1}{2}$, έχουμε

$$\eta\mu\left(2x + \frac{\pi}{4}\right) = \eta\mu x \frac{\pi}{6}, \text{ οπότε}$$

$$\left\{ \begin{array}{l} 2x + \frac{\pi}{4} = 2k\pi + \frac{\pi}{6} \\ \quad \quad \quad \text{ή} \\ 2x + \frac{\pi}{4} = 2k\pi + \pi - \frac{\pi}{6} \end{array} \right. \quad k \in \mathbb{Z}$$

Ισχύει όμως

$$2x + \frac{\pi}{4} = 2k\pi + \frac{\pi}{6} \Leftrightarrow$$

$$\Leftrightarrow 2x = 2k\pi + \frac{\pi}{6} - \frac{\pi}{4} \Leftrightarrow x = k\pi - \frac{\pi}{24}$$

και

$$2x + \frac{\pi}{4} = 2k\pi + \left(\pi - \frac{\pi}{6}\right) \Leftrightarrow$$

$$\Leftrightarrow 2x = 2k\pi + \pi - \frac{\pi}{6} - \frac{\pi}{4} \Leftrightarrow x = k\pi + \frac{7\pi}{24}$$

Άρα οι λύσεις της εξίσωσης δίνονται από τους τύπους

$$\left\{ \begin{array}{l} x = k\pi - \frac{\pi}{24} \\ \quad \quad \quad \text{ή} \\ x = k\pi + \frac{7\pi}{24} \end{array} \right. , k \in \mathbb{Z}$$

Η εξίσωση $\sin x = \alpha$

Με ανάλογες σκέψεις όπως προηγουμένως, εργαζόμαστε για να λύσουμε π.χ. την εξίσωση

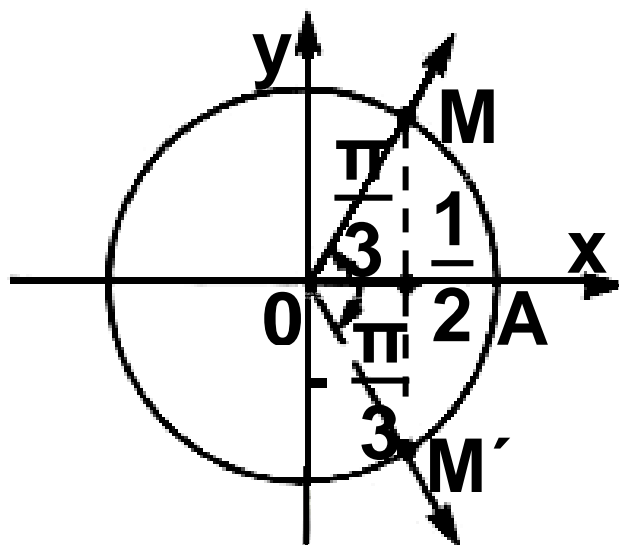
$$\sin x = \frac{1}{2}.$$

Με τη βοήθεια του τριγωνομετρικού κύκλου βρίσκουμε ότι οι λύσεις

της εξίσωσης $\sin x = \frac{1}{2}$ στο διάστημα $[-\pi, \pi]$ είναι οι $\frac{\pi}{3}$ και $-\frac{\pi}{3}$ γιατί $\sin \frac{\pi}{3} = \sin \left(-\frac{\pi}{3}\right) = \frac{1}{2}$

Επομένως το σύνολο των λύσεων της εξίσωσης $\sin x = \frac{1}{2}$ δίνεται από τους τύπους

$$\begin{cases} x = 2k\pi + \frac{\pi}{3} \\ \text{ή} \\ x = 2k\pi - \frac{\pi}{3} \end{cases}, k \in \mathbb{Z}$$



Γενικότερα, αν θ είναι μία λύση της εξίσωση $\sin x = \alpha$, αν δηλαδή ισχύει $\sin \theta = \alpha$, τότε οι λύσεις της εξίσωσης αυτής δίνονται από τους τύπους

$$x = 2k\pi + \theta$$

$$\text{ή} \quad , \quad k \in \mathbb{Z}$$

$$x = 2k\pi - \theta$$

ΠΑΡΑΔΕΙΓΜΑΤΑ

1. Να λυθεί η εξίσωση $\sin x = \frac{\sqrt{2}}{2}$

ΛΥΣΗ

Επειδή $\sin \frac{\pi}{4} = \frac{\sqrt{2}}{2}$, έχουμε

$\sin x = \sin \frac{\pi}{4}$, οπότε οι λύσεις

της εξίσωσης αυτής δίνονται από τους τύπους:

$$\begin{cases} x = 2k\pi + \frac{\pi}{4} \\ \quad \quad \quad \text{ή} \\ x = 2k\pi - \frac{\pi}{4} \end{cases}, \quad k \in \mathbb{Z}$$

2. Να λυθεί η εξίσωση

$$\text{συν}2x = -\frac{\sqrt{3}}{2}$$

ΛΥΣΗ

Επειδή $\text{συν} \frac{\pi}{6} = \frac{\sqrt{3}}{2}$, ισχύει

$$\text{συν} \left(\pi - \frac{\pi}{6} \right) = -\frac{\sqrt{3}}{2} \text{ δηλαδή}$$

$$\text{συν} \frac{5\pi}{6} = -\frac{\sqrt{3}}{2}. \text{ Έχουμε επομένως}$$

$$\text{συν}2x = \text{συν} \frac{5\pi}{6}, \text{ οπότε}$$

$$\left\{ \begin{array}{l} x = 2k\pi + \frac{5\pi}{6} \\ \quad \quad \quad \text{ή} \\ x = 2k\pi - \frac{5\pi}{6} \end{array} \right., \quad k \in \mathbb{Z}$$

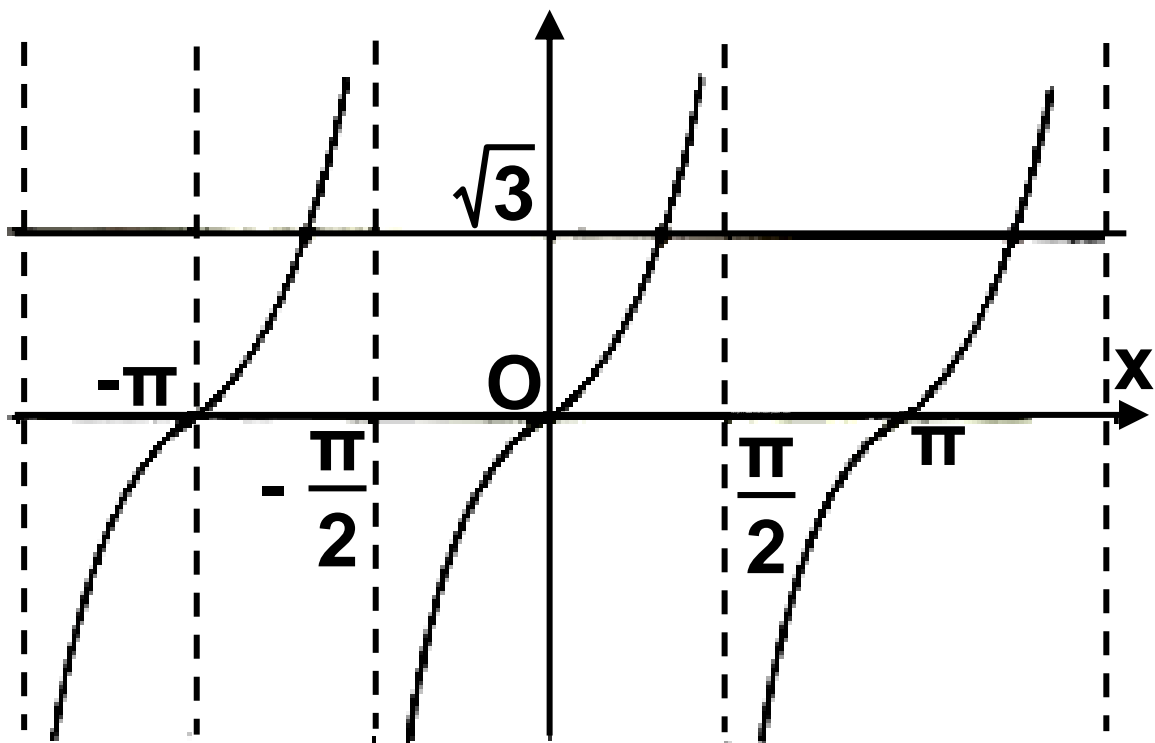
ή ισοδύναμα

$$\left\{ \begin{array}{l} x = k\pi + \frac{5\pi}{12} \\ \quad \quad \quad \text{ή} \\ x = k\pi - \frac{5\pi}{12} \end{array} \right., \quad k \in \mathbb{Z}$$

Η εξίσωση $\varepsilon\varphi x = \alpha$

Έστω η εξίσωση $\varepsilon\varphi x = \sqrt{3}$. Όπως γνωρίζουμε η συνάρτηση $\varepsilon\varphi$ είναι περιοδική με περίοδο π . Επομένως, για να λύσουμε την εξίσωση, αρκεί να βρούμε

τις λύσεις της σε ένα διάστημα πλάτους π , π.χ. το $\left(-\frac{\pi}{2}, \frac{\pi}{2}\right)$ και να προσθέσουμε σε αυτές το $k\pi$, $k \in \mathbb{Z}$. Όπως φαίνεται όμως και στο σχήμα, μια μόνο λύση της εξίσωσης $\varepsilon\varphi x = \sqrt{3}$ υπάρχει στο διάστημα αυτό. Η λύση αυτή είναι η $\frac{\pi}{3}$, γιατί $\varepsilon\varphi \frac{\pi}{3} = \sqrt{3}$.



Επομένως οι λύσεις της εξίσωσης $\varepsilon\varphi x = \sqrt{3}$ είναι: $x = k\pi + \frac{\pi}{3}$, $k \in \mathbb{Z}$.

Γενικότερα, αν θ είναι μια λύση της εξίσωσης $\epsilon\phi x = \alpha$, αν δηλαδή ισχύει $\epsilon\phi x = \epsilon\phi \theta$, τότε οι λύσεις της εξίσωσης αυτής είναι:

$$x = k\pi + \theta, \quad k \in \mathbb{Z}$$

Ο ίδιος τύπος λύσεων ισχύει και για την εξίσωση $\sigma\phi x = \alpha$

ΠΑΡΑΔΕΙΓΜΑΤΑ

1. Να λυθεί η εξίσωση $\epsilon\phi x = -1$

ΛΥΣΗ

Επειδή $\epsilon\phi \frac{\pi}{4} = 1$, ισχύει $\epsilon\phi \left(-\frac{\pi}{4}\right) = -1$.

Έχουμε επομένως $\epsilon\phi x = \epsilon\phi \left(-\frac{\pi}{4}\right)$,

οπότε

$$x = k\pi - \frac{\pi}{4}, \quad k \in \mathbb{Z}$$

2. Να λυθεί η εξίσωση $\sigma\varphi x = \sqrt{3}$

ΛΥΣΗ

Επειδή $\sigma\varphi \frac{\pi}{6} = \sqrt{3}$, έχουμε

$\sigma\varphi x = \sigma\varphi \frac{\pi}{6}$, οπότε οι λύσεις της εξίσωσης είναι

$$x = k\pi + \frac{\pi}{6}, \quad k \in \mathbb{Z}$$

ΑΣΚΗΣΕΙΣ

Α' ΟΜΑΔΑΣ

1. Να λύσετε τις εξισώσεις

i) $\eta\mu x = 0$ ii) $\eta\mu x = \frac{\sqrt{2}}{2}$

iii) $\sigma\upsilon\nu x = 0$ iv) $\sigma\upsilon\nu x = \frac{\sqrt{2}}{2}$

2. Να λύσετε τις εξισώσεις

i) $\eta\mu x = -\frac{1}{2}$

ii) $\eta\mu x = -1$

iii) $\sigma\upsilon\nu x = -\frac{\sqrt{2}}{2}$

iv) $\sigma\upsilon\nu x = -1$

3. Να λύσετε τις εξισώσεις

i) $\epsilon\phi x = 0$

ii) $\epsilon\phi x = \frac{\sqrt{3}}{3}$

iii) $\sigma\phi x = 1$

iv) $\sigma\phi x = \sqrt{3}$

4. Να λύσετε τις εξισώσεις

i) $\epsilon\phi x = -\frac{\sqrt{3}}{3}$

ii) $\sigma\phi x = -\frac{\sqrt{3}}{3}$

5. Να λύσετε τις εξισώσεις

i) $(1 - \eta\mu x)(2\eta\mu x - \sqrt{3}) = 0$

ii) $(2\eta\mu x + \sqrt{2})(1 - \sigma\upsilon\nu x) = 0$

6. Να λύσετε τις εξισώσεις

i) $(\sqrt{3} + \epsilon\phi x)(1 - \epsilon\phi x) = 0$

$$\text{ii) } (2\sigma\upsilon\upsilon\chi + 1)(\epsilon\phi^2\chi - 3)\sigma\phi\chi = 0$$

7. Χρησιμοποιώντας τριγωνομετρικούς πίνακες ή επιστημονικό κομπιουτεράκι να λύσετε τις εξισώσεις

$$\text{i) } \eta\mu\chi = 0,951$$

$$\text{ii) } \sigma\upsilon\upsilon\chi = -0,809$$

$$\text{iii) } \epsilon\phi\chi = 28,636$$

8. Να λύσετε τις εξισώσεις

$$\text{i) } 2\eta\mu 3\chi = \sqrt{3}$$

$$\text{ii) } \sigma\upsilon\upsilon\frac{\chi}{5} + 1 = 0$$

$$\text{iii) } 3\epsilon\phi\frac{2\chi}{7} - \sqrt{3} = 0$$

9. Να λύσετε τις εξισώσεις

$$\text{i) } \eta\mu\left(\chi + \frac{\pi}{3}\right) = -1$$

$$\text{ii) } 2\sigma\upsilon\upsilon\left(3\chi - \frac{\pi}{4}\right) = 1$$

$$\text{iii) } \epsilon\phi\left(\frac{\pi}{4} - 5\chi\right) = \sqrt{3}$$

10. Να λύσετε τις εξισώσεις

i) $2\eta\mu^2\omega + \eta\mu\omega - 1 = 0$

ii) $2\sigma\upsilon\nu^2\chi + 3\sigma\upsilon\nu\chi - 2 = 0$

iii) $3\epsilon\phi^2 t = 3 + 2\sqrt{3}\epsilon\phi t$

11. Να λύσετε τις εξισώσεις

i) $\eta\mu^2\chi + 5\sigma\upsilon\nu^2\chi = 4$

ii) $\epsilon\phi\chi \cdot \sigma\phi 2\chi = 1$

12. Να βρείτε για ποιες τιμές του χ , καθεμιά από τις επόμενες συναρτήσεις έχει τη μέγιστη και για ποιες την ελάχιστη τιμή της:

i) $f(\chi) = 3\eta\mu\left(\chi - \frac{\pi}{2}\right), 0 \leq \chi \leq 2\pi,$

ii) $g(\chi) = 7\sigma\upsilon\nu\left(\chi - \frac{\pi}{2}\right), 0 \leq \chi \leq 2\pi,$

13. Οι μηνιαίες πωλήσεις ενός εποχιακού προϊόντος (σε χιλιάδες

κομμάτια) δίνονται κατά προσέγγιση από τον τύπο

$$S = 75 + 50 \cdot \eta\mu \frac{\pi t}{6} \quad \text{όπου } t \text{ ο χρόνος}$$

σε μήνες και με $t = 1$ να αντιστοιχεί στον Ιανουάριο.

i) Να βρείτε ποιους μήνες οι πωλήσεις φτάνουν τις 100000 κομμάτια,

ii) Να βρείτε ποιο μήνα έχουμε το μεγαλύτερο αριθμό πωλήσεων και πόσες είναι αυτές.

B' ΟΜΑΔΑΣ

1. Να λύσετε τις εξισώσεις

$$\text{i) } \eta\mu x + \sigma\upsilon\nu \left(\frac{\pi}{4} - x \right) = 0$$

$$\text{ii) } \epsilon\phi 2x - \sigma\phi \left(\frac{\pi}{3} + 3x \right) = 0$$

2. Να λύσετε τις εξισώσεις

i) $\epsilon\phi\chi \cdot \eta\mu\chi + 1 = \eta\mu\chi + \epsilon\phi\chi$

ii) $\frac{1}{\sigma\upsilon\nu^2\chi} - 2\epsilon\phi\chi = 4$

3. Να βρείτε τις λύσεις της εξίσωσης $\epsilon\phi\chi = 1$ στο διάστημα $(3\pi, 4\pi)$.

*** 4. Να λύσετε την εξίσωση $1 + \sigma\upsilon\nu\chi = \eta\mu\chi$ στο διάστημα $[0, 2\pi)$.**

5. Να λύσετε την εξίσωση:

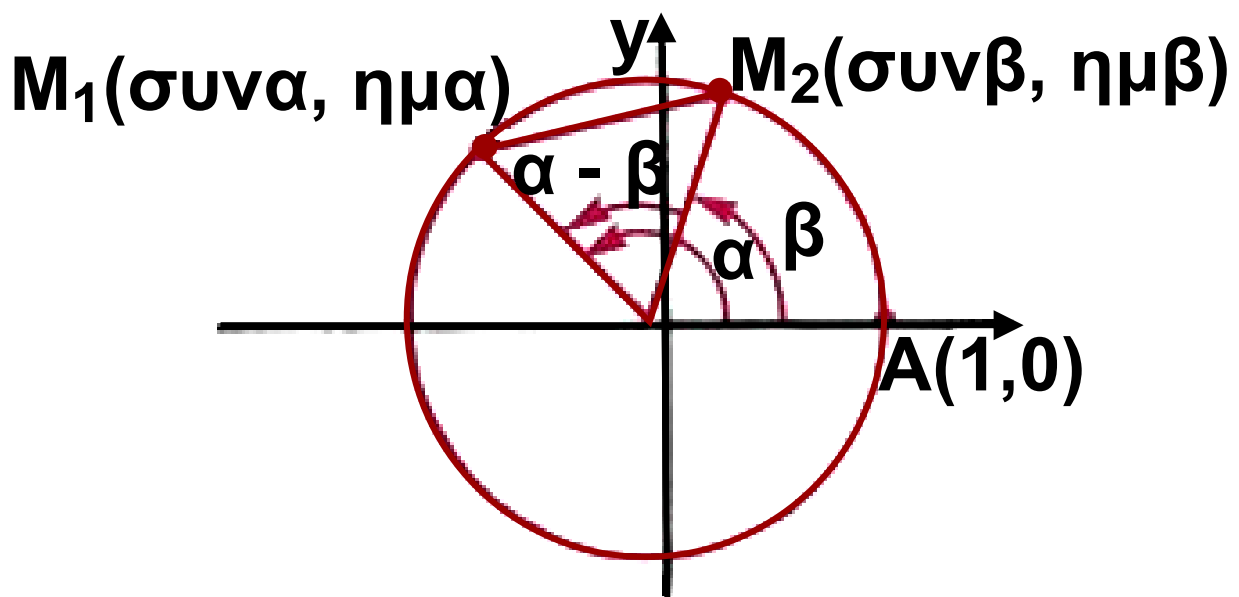
$\epsilon\phi\chi = \sigma\phi\left(\frac{\pi}{3} + \chi\right)$ στο διάστημα

$[0, 2\pi)$.

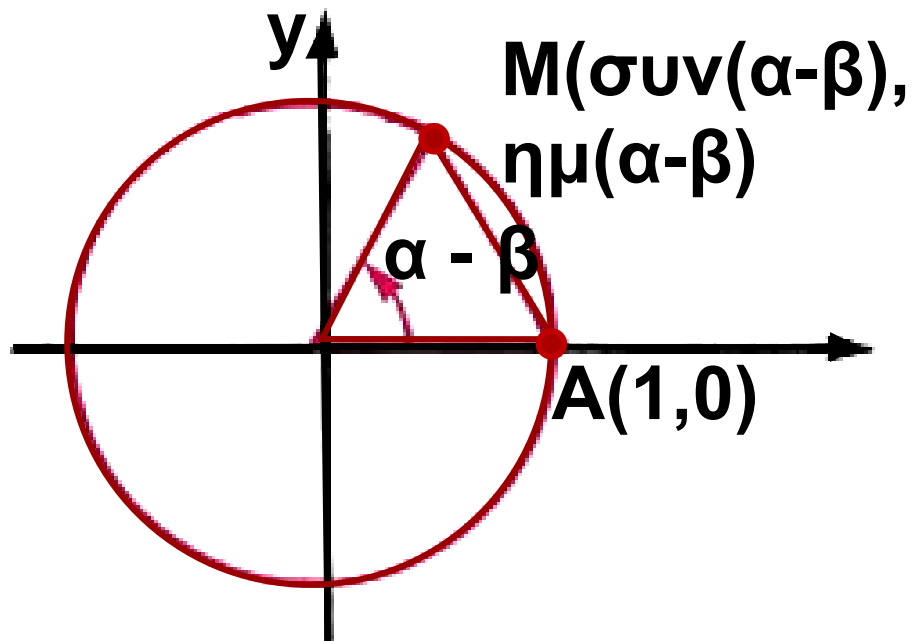
1.3 Τριγωνομετρικοί αριθμοί αθροίσματος γωνιών Συνημίτονο αθροίσματος και διαφοράς γωνιών

Ας θεωρήσουμε δυο γωνίες α , β που οι τελικές τους πλευρές τέμνουν τον τριγωνομετρικό κύκλο στα σημεία M_1 , M_2 αντιστοίχως (Σχ. 1).

Έστω επιπλέον και η γωνία $\alpha - \beta$, που η τελική της πλευρά τέμνει τον τριγωνομετρικό κύκλο στο σημείο M . (Σχ. 2).



Σχ.(1)



Σχ.2

Όπως είναι γνωστό, τα σημεία M_1 , M_2 , A και M έχουν συντεταγμένες:

το M_1 : τετμημένη $\sigma\upsilon\alpha$ και
τεταγμένη $\eta\mu\alpha$

το M_2 : τετμημένη $\sigma\upsilon\nu\beta$ και
τεταγμένη $\eta\mu\beta$

το A : τετμημένη 1 και
τεταγμένη 0

το M : τετμημένη $\sigma\upsilon\nu(\alpha - \beta)$ και
τεταγμένη $\eta\mu(\alpha - \beta)$

Επειδή $\widehat{M_2OM_1} = \widehat{AOM} = \alpha - \beta$, θα είναι και $(M_2M_1) = (AM)$.

Άρα:

$$(M_2M_1)^2 = (AM)^2$$

Αν τώρα χρησιμοποιήσουμε το γνωστό μας τύπο:

$$(P_1P_2) = \sqrt{(x_2 - x_1)^2 + (y_2 - y_1)^2}$$

που δίνει την απόσταση δυο σημείων $P_1(x_1, y_1)$ και $P_2(x_2, y_2)$, έχουμε:

$$\begin{aligned} \bullet (M_2M_1)^2 &= (\sigma\upsilon\alpha - \sigma\upsilon\upsilon\beta)^2 + \\ &+ (\eta\mu\alpha - \eta\mu\beta)^2 \\ &= \sigma\upsilon\alpha^2 + \sigma\upsilon\upsilon\beta^2 - 2\sigma\upsilon\alpha\sigma\upsilon\upsilon\beta + \\ &+ \eta\mu^2\alpha + \eta\mu^2\beta - 2\eta\mu\alpha\eta\mu\beta \\ &= 2 - 2(\sigma\upsilon\alpha\sigma\upsilon\upsilon\beta + \eta\mu\alpha\eta\mu\beta) \quad \text{και} \end{aligned}$$

$$\begin{aligned}
\bullet (AM)^2 &= [\sigma\upsilon\nu(\alpha - \beta) - 1]^2 + \\
&+ [\eta\mu(\alpha - \beta) - 0]^2 \\
&= \sigma\upsilon\nu^2(\alpha - \beta) + 1 - 2\sigma\upsilon\nu(\alpha - \beta) + \\
&+ \eta\mu^2(\alpha - \beta) \\
&= 2 - 2\sigma\upsilon\nu(\alpha - \beta).
\end{aligned}$$

Έτσι η σχέση $(M_2M_1)^2 = (AM)^2$
γράφεται

$$\begin{aligned}
2 - 2(\sigma\upsilon\nu\alpha\sigma\upsilon\nu\beta + \eta\mu\alpha\eta\mu\beta) &= \\
= 2 - 2\sigma\upsilon\nu(\alpha - \beta)
\end{aligned}$$

$$\eta\sigma\upsilon\nu\alpha\sigma\upsilon\nu\beta + \eta\mu\alpha\eta\mu\beta = \sigma\upsilon\nu(\alpha - \beta)$$

Επομένως:

$$\sigma\upsilon\nu(\alpha - \beta) = \sigma\upsilon\nu\alpha\sigma\upsilon\nu\beta + \eta\mu\alpha\eta\mu\beta \quad (1)$$

Η ισότητα αυτή, που αποδείξαμε για γωνίες α, β με $0 \leq \beta < \alpha < 360^\circ$, ισχύει και για οποιεσδήποτε γωνίες α, β .

Αν στην παραπάνω ισότητα αντικαταστήσουμε το β με το $-\beta$, έχουμε:

$$\begin{aligned} \text{συν}(\alpha - (-\beta)) &= \\ &= \text{συνασυν}(-\beta) + \eta\mu\alpha\eta\mu(-\beta) = \\ &= \text{συνασυν}\beta - \eta\mu\alpha\eta\mu\beta \\ \text{Επομένως:} \end{aligned}$$

$$\text{συν}(\alpha + \beta) = \text{συνασυν}\beta - \eta\mu\alpha\eta\mu\beta \quad (2)$$

Με τη βοήθεια των τύπων (1) και (2) μπορούμε να υπολογίσουμε το συνημίτονο ορισμένων γωνιών, χωρίς να χρησιμοποιήσουμε τριγωνομετρικούς πίνακες ή υπολογιστικές μηχανές. Για παράδειγμα, έχουμε:

- $$\begin{aligned} \bullet \text{συν } 15^\circ &= \text{συν}(45^\circ - 30^\circ) \\ &= \text{συν } 45^\circ \text{συν}30^\circ + \eta\mu45^\circ\eta\mu30^\circ \\ &= \frac{\sqrt{2}}{2} \cdot \frac{\sqrt{3}}{2} + \frac{\sqrt{2}}{2} \cdot \frac{1}{2} = \frac{\sqrt{2}(\sqrt{3} + 1)}{4} \end{aligned}$$
- $$\begin{aligned} \bullet \text{συν}75^\circ &= \text{συν}(45^\circ + 30^\circ) = \\ &= \text{συν } 45^\circ \text{συν}30^\circ - \eta\mu45^\circ\eta\mu30^\circ = \end{aligned}$$

$$= \frac{\sqrt{2}}{2} \cdot \frac{\sqrt{3}}{2} - \frac{\sqrt{2}}{2} \cdot \frac{1}{2} = \frac{\sqrt{2}(\sqrt{3}-1)}{4}$$

Ημίτονο αθροίσματος και διαφοράς γωνιών

Με τη βοήθεια του τύπου (1), που βρήκαμε προηγουμένως, θα υπολογίσουμε τώρα το ημίτονο του αθροίσματος δυο γωνιών.

$$\text{Επειδή } \sin\left(\frac{\pi}{2} - x\right) = \eta\mu x$$

$$\text{και } \eta\mu\left(\frac{\pi}{2} - x\right) = \sigma\upsilon\nu x, \text{ έχουμε:}$$

$$\eta\mu(\alpha+\beta) = \sigma\upsilon\nu\left(\frac{\pi}{2} - (\alpha + \beta)\right) =$$

$$= \sigma\upsilon\nu\left(\left(\frac{\pi}{2} - \alpha\right) - \beta\right) =$$

$$= \sigma\upsilon\nu\left(\frac{\pi}{2} - \alpha\right)\sigma\upsilon\nu\beta + \eta\mu\left(\frac{\pi}{2} - \alpha\right)\eta\mu\beta =$$

$$= \eta\mu\alpha\sigma\upsilon\nu\beta + \sigma\upsilon\nu\alpha\eta\mu\beta$$

Επομένως:

$$\eta\mu(\alpha+\beta) = \eta\mu\alpha\sigma\upsilon\nu\beta + \sigma\upsilon\nu\alpha\eta\mu\beta \quad (3)$$

Αν στην παραπάνω ισότητα αντικαταστήσουμε το β με $-\beta$ βρίσκουμε ότι:

$$\eta\mu(\alpha - \beta) = \eta\mu\alpha\sigma\upsilon\nu\beta - \sigma\upsilon\nu\alpha\eta\mu\beta \quad (4)$$

Σύμφωνα με τους τύπους αυτούς για παράδειγμα, έχουμε:

$$\bullet \eta\mu 15^\circ = \eta\mu (45^\circ - 30^\circ)$$

$$= \eta\mu 45^\circ \sigma\upsilon\nu 30^\circ - \sigma\upsilon\nu 45^\circ \eta\mu 30^\circ$$

$$= \frac{\sqrt{2}}{2} \cdot \frac{\sqrt{3}}{2} - \frac{\sqrt{2}}{2} \cdot \frac{1}{2} = \frac{\sqrt{2}(\sqrt{3} - 1)}{4}$$

$$\bullet \eta\mu 75^\circ = \eta\mu (45^\circ + 30^\circ) =$$

$$= \eta\mu 45^\circ \sigma\upsilon\nu 30^\circ + \sigma\upsilon\nu 45^\circ \eta\mu 30^\circ =$$

$$= \frac{\sqrt{2}}{2} \cdot \frac{\sqrt{3}}{2} + \frac{\sqrt{2}}{2} \cdot \frac{1}{2} = \frac{\sqrt{2}(\sqrt{3} + 1)}{4}$$

Εφαπτομένη αθροίσματος και διαφοράς γωνιών

Με τη βοήθεια των προηγούμενων τύπων θα υπολογίσουμε την εφαπτομένη του αθροίσματος $\alpha + \beta$ δυο γωνιών α, β , αν γνωρίζουμε την εφαπτομένη καθεμιάς.

Όπως ξέρουμε, για να ορίζονται οι: $\epsilon\phi(\alpha+\beta)$, $\epsilon\phi\alpha$ και $\epsilon\phi\beta$, πρέπει $\sigma\upsilon\nu(\alpha+\beta) \neq 0$, $\sigma\upsilon\nu\alpha \neq 0$ και $\sigma\upsilon\nu\beta \neq 0$. Με την προϋπόθεση αυτή έχουμε:

$$\begin{aligned}\epsilon\phi(\alpha+\beta) &= \frac{\eta\mu(\alpha+\beta)}{\sigma\upsilon\nu(\alpha+\beta)} \left[\text{Διαιρούμε με} \right. \\ &\quad \left. \sigma\upsilon\nu\alpha\sigma\upsilon\nu\beta \neq 0 \right] \\ &= \frac{\eta\mu\alpha\sigma\upsilon\nu\beta + \sigma\upsilon\nu\alpha\eta\mu\beta}{\sigma\upsilon\nu\alpha\eta\mu\beta - \eta\mu\alpha\sigma\upsilon\nu\beta} = \\ &= \frac{\frac{\eta\mu\alpha\sigma\upsilon\nu\beta}{\sigma\upsilon\nu\alpha\sigma\upsilon\nu\beta} + \frac{\sigma\upsilon\nu\alpha\eta\mu\beta}{\sigma\upsilon\nu\alpha\sigma\upsilon\nu\beta}}{\frac{\sigma\upsilon\nu\alpha\sigma\upsilon\nu\beta}{\sigma\upsilon\nu\alpha\sigma\upsilon\nu\beta} - \frac{\eta\mu\alpha\eta\mu\beta}{\sigma\upsilon\nu\alpha\sigma\upsilon\nu\beta}} =\end{aligned}$$

$$= \frac{\epsilon\varphi\alpha + \epsilon\varphi\beta}{1 - \epsilon\varphi\alpha\epsilon\varphi\beta}$$

Επομένως έχουμε:

$$\epsilon\varphi(\alpha + \beta) = \frac{\epsilon\varphi\alpha + \epsilon\varphi\beta}{1 - \epsilon\varphi\alpha\epsilon\varphi\beta} \quad (5)$$

Αν τώρα στην παραπάνω ισότητα αντικαταστήσουμε το β με το $-\beta$, βρίσκουμε ότι:

$$\epsilon\varphi(\alpha - \beta) = \frac{\epsilon\varphi\alpha - \epsilon\varphi\beta}{1 + \epsilon\varphi\alpha\epsilon\varphi\beta} \quad (6)$$

Τέλος με ανάλογο τρόπο αποδεικνύεται ότι:

$$\sigma\varphi(\alpha + \beta) = \frac{\sigma\varphi\alpha\sigma\varphi\beta - 1}{\sigma\varphi\beta + \sigma\varphi\alpha} \quad (7)$$

$$\sigma\varphi(\alpha - \beta) = \frac{\sigma\varphi\alpha\sigma\varphi\beta + 1}{\sigma\varphi\beta - \sigma\varphi\alpha} \quad (8)$$

Σύμφωνα με τους παραπάνω τύπους για παράδειγμα, έχουμε:

$$\begin{aligned} \bullet \quad \varepsilon\varphi 15^\circ &= \varepsilon\varphi(45^\circ - 30^\circ) = \\ &= \varepsilon\varphi 45^\circ - \varepsilon\varphi 30^\circ = \\ &= \frac{\varepsilon\varphi 45^\circ - \varepsilon\varphi 30^\circ}{1 + \varepsilon\varphi 45^\circ \varepsilon\varphi 30^\circ} = \frac{1 - \frac{\sqrt{3}}{3}}{1 + \frac{\sqrt{3}}{3}} = \\ &= \frac{3 - \sqrt{3}}{3 + \sqrt{3}} = \frac{(3 - \sqrt{3})(3 - \sqrt{3})}{(3 + \sqrt{3})(3 - \sqrt{3})} = \\ &= \frac{12 - 6\sqrt{3}}{6} = 2 - \sqrt{3} \end{aligned}$$

$$\begin{aligned} \bullet \quad \varepsilon\varphi 75^\circ &= \varepsilon\varphi(45^\circ + 30^\circ) = \\ &= \frac{\varepsilon\varphi 45^\circ + \varepsilon\varphi 30^\circ}{1 - \varepsilon\varphi 45^\circ \varepsilon\varphi 30^\circ} = \frac{1 + \frac{\sqrt{3}}{3}}{1 - \frac{\sqrt{3}}{3}} = \frac{3 + \sqrt{3}}{3 - \sqrt{3}} = \\ &= \frac{(3 + \sqrt{3})(3 + \sqrt{3})}{(3 - \sqrt{3})(3 - \sqrt{3})} = \frac{12 + 6\sqrt{3}}{6} = 2 + \sqrt{3} \end{aligned}$$

ΠΑΡΑΔΕΙΓΜΑΤΑ – ΕΦΑΡΜΟΓΕΣ

1ο Αν $\eta\mu\alpha = -\frac{3}{5}$, με $\frac{3\pi}{2} < \alpha < 2\pi$
και $\sigma\upsilon\nu\beta = \frac{12}{13}$, με $\pi < \beta < \frac{3\pi}{2}$,

να υπολογιστούν οι τριγωνομετρικοί αριθμοί του $\alpha + \beta$.

ΛΥΣΗ

Επειδή $\eta\mu(\alpha + \beta) =$

$= \eta\mu\alpha\sigma\upsilon\nu\beta + \sigma\upsilon\nu\alpha\eta\mu\beta$ και

$\sigma\upsilon\nu(\alpha + \beta) = \sigma\upsilon\nu\alpha\sigma\upsilon\nu\beta - \eta\mu\alpha\eta\mu\beta$

αρκεί να υπολογίσουμε το $\sigma\upsilon\nu\alpha$ και το $\eta\mu\beta$. Έχουμε λοιπόν:

$$\sigma\upsilon\nu^2\alpha = 1 - \eta\mu^2\alpha = 1 - \frac{9}{25} = \frac{16}{25},$$

$$\text{οπότε } \sigma\upsilon\nu\alpha = \sqrt{\frac{16}{25}} = \frac{4}{5},$$

αφού $\frac{3\pi}{2} < \alpha < 2\pi$ και

$$\eta\mu^2 \beta = 1 - \sigma\upsilon\nu^2 \beta = 1 - \frac{144}{169} = \frac{25}{169},$$

$$\text{οπότε } \eta\mu\beta = -\sqrt{\frac{25}{169}} = -\frac{5}{13},$$

αφού $\pi < \beta < \frac{3\pi}{2}$

Επομένως

$$\eta\mu(\alpha+\beta) = \left(-\frac{3}{5}\right)\left(-\frac{12}{13}\right) + \frac{4}{5}\left(-\frac{5}{13}\right) = \frac{16}{65}$$

$$\sigma\upsilon\nu(\alpha+\beta) = \frac{4}{5}\left(-\frac{12}{13}\right) - \left(-\frac{3}{5}\right)\left(-\frac{5}{13}\right) = -\frac{63}{65},$$

οπότε:

$$\epsilon\phi(\alpha+\beta) = -\frac{16}{63} \text{ και } \sigma\phi(\alpha+\beta) = -\frac{63}{16}$$

2ο Να αποδειχθεί ότι:
 $\eta\mu(\alpha + \beta) \cdot \eta\mu(\alpha - \beta) =$
 $= \eta\mu^2\alpha - \eta\mu^2\beta$

ΑΠΟΔΕΙΞΗ

$$\begin{aligned}\eta\mu(\alpha + \beta)\eta\mu(\alpha - \beta) &= \\ &= (\eta\mu\alpha\sigma\upsilon\nu\beta + \sigma\upsilon\nu\alpha\eta\mu\beta) \\ &(\eta\mu\alpha\sigma\upsilon\nu\beta - \sigma\upsilon\nu\alpha\eta\mu\beta) \\ &= \eta\mu^2\alpha\sigma\upsilon\nu^2\beta - \sigma\upsilon\nu^2\alpha\eta\mu^2\beta \\ &= \eta\mu^2\alpha(1 - \eta\mu^2\beta) - (1 - \eta\mu^2\alpha)\eta\mu^2\beta \\ &= \eta\mu^2\alpha - \eta\mu^2\alpha\eta\mu^2\beta - \eta\mu^2\beta + \\ &+\eta\mu^2\alpha\eta\mu^2\beta = \eta\mu^2\alpha - \eta\mu^2\beta\end{aligned}$$

3ο Να λυθεί η εξίσωση:

$$2 \sigma\upsilon\nu x = \eta\mu\left(x + \frac{\pi}{6}\right)$$

ΛΥΣΗ

$$2\sigma\upsilon\nu x = \eta\mu\left(x + \frac{\pi}{6}\right)$$

$$\Leftrightarrow 2\sigma\upsilon\nu x = \eta\mu x \sigma\upsilon\nu \frac{\pi}{6} + \sigma\upsilon\nu x \eta\mu \frac{\pi}{6}$$

$$\Leftrightarrow 2\sigma\upsilon\nu\chi = \frac{\sqrt{3}}{2} \eta\mu\chi + \frac{1}{2} \sigma\upsilon\nu\chi$$

$$\Leftrightarrow 4\sigma\upsilon\nu\chi = \sqrt{3} \eta\mu\chi + \sigma\upsilon\nu\chi \cdot 3$$

$$\Leftrightarrow 3\sigma\upsilon\nu\chi = \sqrt{3} \eta\mu\chi$$

$$\Leftrightarrow \varepsilon\varphi\chi = \sqrt{3} \quad [\alpha\text{φού } \sigma\upsilon\nu\chi \neq 0]$$

$$\Leftrightarrow \varepsilon\varphi\chi = \varepsilon\varphi \frac{\pi}{3}$$

$$\Leftrightarrow \chi = \kappa\pi + \frac{\pi}{3} \quad \kappa \in \mathbb{Z}$$

4ο Να αποδειχθεί ότι σε κάθε μη ορθογώνιο τρίγωνο ΑΒΓ ισχύει:
 $\varepsilon\varphi A + \varepsilon\varphi B + \varepsilon\varphi\Gamma = \varepsilon\varphi A \varepsilon\varphi B \varepsilon\varphi\Gamma$

ΑΠΟΔΕΙΞΗ

Αφού το τρίγωνο δεν είναι ορθογώνιο, ορίζονται οι $\varepsilon\varphi A$, $\varepsilon\varphi B$, $\varepsilon\varphi\Gamma$.
Επειδή επιπλέον $A+B = \pi - \Gamma \neq \frac{\pi}{2}$,

ορίζεται η $\varepsilon\varphi(A+B)$ και έχουμε
διαδοχικά:

$$\varepsilon\varphi(A+B) = \varepsilon\varphi(\pi - \Gamma)$$

$$\frac{\varepsilon\varphi A + \varepsilon\varphi B}{1 - \varepsilon\varphi A \varepsilon\varphi B} = -\varepsilon\varphi \Gamma$$

$$\varepsilon\varphi A + \varepsilon\varphi B = -\varepsilon\varphi \Gamma + \varepsilon\varphi A \varepsilon\varphi B \varepsilon\varphi \Gamma$$

$$\varepsilon\varphi A + \varepsilon\varphi B + \varepsilon\varphi \Gamma = \varepsilon\varphi A \varepsilon\varphi B \varepsilon\varphi \Gamma$$

5ο Θεωρούμε έναν αγωγό από τον οποίο διέρχονται τρία εναλλασσόμενα ρεύματα της ίδιας κυκλικής συχνότητας ω με στιγμιαίες εντά-

$$\text{σεις } I_1 = \eta\mu\omega t, I_2 = \eta\mu(\omega t + \frac{2\pi}{3})$$

$$\text{και } I_3 = \eta\mu(\omega t + \frac{4\pi}{3}). \text{ Να αποδει-}$$

χθεί ότι η ολική ένταση

$I = I_1 + I_2 + I_3$ του ρεύματος που διέρχεται από τον αγωγό είναι μηδέν.

ΑΠΟΔΕΙΞΗ

Είναι $I =$

$$\begin{aligned} &= \eta\mu\omega t + \eta\mu\left(\omega t + \frac{2\pi}{3}\right) + \eta\mu\left(\omega t + \frac{4\pi}{3}\right) = \\ &= \eta\mu\omega t + \eta\mu\omega t \cos\frac{2\pi}{3} + \sigma\upsilon\nu\omega t \eta\mu\frac{2\pi}{3} + \\ &+ \eta\mu\omega t \cos\frac{4\pi}{3} + \sigma\upsilon\nu\omega t \eta\mu\frac{4\pi}{3} \\ &= \eta\mu\omega t + \eta\mu\omega t\left(-\frac{1}{2}\right) + \sigma\upsilon\nu\omega t\left(\frac{\sqrt{3}}{2}\right) + \\ &+ \eta\mu\omega t\left(-\frac{1}{2}\right) + \sigma\upsilon\nu\omega t\left(-\frac{\sqrt{3}}{2}\right) \\ &= \eta\mu\omega t - \frac{1}{2}\eta\mu\omega t - \frac{1}{2}\eta\mu\omega t = 0 \end{aligned}$$

ΑΣΚΗΣΕΙΣ

Α' ΟΜΑΔΑΣ

1. Να υπολογίσετε, χωρίς τη χρήση υπολογιστών τσέπης, την τιμή των παραστάσεων:

$$\text{i) } \cos \frac{\pi}{12} \cos \frac{\pi}{4} - \sin \frac{\pi}{12} \sin \frac{\pi}{4}$$

$$\text{ii) } \cos 170^\circ \cos 50^\circ + \sin 170^\circ \sin 50^\circ$$

$$\text{iii) } \sin 110^\circ \sin 70^\circ - \cos 110^\circ \cos 70^\circ$$

$$\text{iv) } \cos \frac{7\pi}{12} \cos \frac{\pi}{12} + \sin \frac{7\pi}{12} \sin \frac{\pi}{12}$$

2. Να γράψετε σε απλούστερη μορφή τις παραστάσεις:

$$\text{i) } \cos 3x \cos(-2x) - \sin 3x \sin(-2x)$$

$$\text{ii) } \cos \left(x + \frac{\pi}{4} \right) + \cos x + \sin \left(x + \frac{\pi}{4} \right) \sin x$$

3. Να αποδείξετε ότι:

$$\text{i) } \cos \left(x + \frac{\pi}{4} \right) + \cos \left(x - \frac{\pi}{4} \right) = \sqrt{2} \cos x$$

$$\text{ii) } \cos^2 \left(x - \frac{\pi}{4} \right) - \cos^2 \left(x + \frac{\pi}{4} \right) = 2 \sin x \cos x$$

4. Να υπολογίσετε, χωρίς τη χρήση υπολογιστών τσέπης, την τιμή των παραστάσεων:

i) $\eta\mu \frac{17\pi}{18} \sigma\upsilon\nu \frac{4\pi}{9} - \sigma\upsilon\nu \frac{17\pi}{18} \eta\mu \frac{4\pi}{9}$

ii) $\eta\mu 70^\circ \sigma\upsilon\nu 20^\circ + \sigma\upsilon\nu 70^\circ \eta\mu 20^\circ$

iii)
$$\frac{\epsilon\varphi \frac{7\pi}{12} - \epsilon\varphi \frac{\pi}{4}}{1 + \epsilon\varphi \frac{7\pi}{12} \epsilon\varphi \frac{\pi}{4}}$$

iv)
$$\frac{\epsilon\varphi 165^\circ + \epsilon\varphi 15^\circ}{1 - \epsilon\varphi 165^\circ \epsilon\varphi 15^\circ}$$

5. Να γράψετε σε απλούστερη μορφή τις παραστάσεις:

i) $\eta\mu 2\chi \sigma\upsilon\nu \chi + \sigma\upsilon\nu 2\chi \eta\mu \chi$

ii) $\eta\mu \left(\chi + \frac{\pi}{6} \right) \sigma\upsilon\nu \chi - \sigma\upsilon\nu \left(\chi + \frac{\pi}{6} \right) \eta\mu \chi$

$$\text{iii)} \frac{\epsilon\varphi x - \epsilon\varphi 2x}{1 + \epsilon\varphi x \epsilon\varphi 2x}$$

$$\text{iv)} \frac{\epsilon\varphi \left(\frac{\pi}{3} + 2x \right) + \epsilon\varphi \left(\frac{\pi}{6} - x \right)}{1 - \epsilon\varphi \left(\frac{\pi}{3} + 2x \right) \epsilon\varphi \left(\frac{\pi}{6} - x \right)}$$

6. Να αποδείξετε ότι:

$$\text{i)} \eta\mu \left(x + \frac{\pi}{3} \right) + \eta\mu \left(x - \frac{\pi}{3} \right) = \eta\mu x$$

$$\text{ii)} (\eta\mu\alpha + \sigma\upsilon\nu\alpha)(\eta\mu\beta + \sigma\upsilon\nu\beta) = \\ = \eta\mu(\alpha + \beta) + \sigma\upsilon\nu(\alpha - \beta)$$

7. Να υπολογίσετε, χωρίς τη χρήση υπολογιστών τσέπης, τους τριγωνομετρικούς αριθμούς των 105° και 195° .

8. Να αποδείξετε ότι:

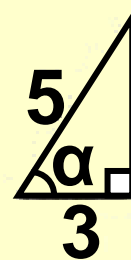
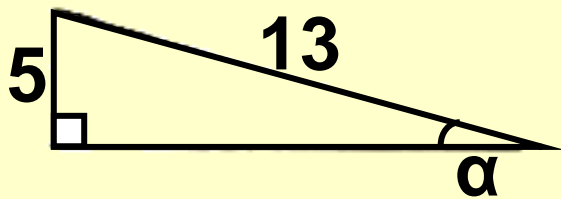
$$\text{i) } \varepsilon\varphi\alpha + \varepsilon\varphi\beta = \frac{\eta\mu(\alpha+\beta)}{\sigma\upsilon\nu\alpha\sigma\upsilon\nu\beta)}$$

$$\text{ii) } \sigma\varphi\alpha + \sigma\varphi\beta = \frac{\eta\mu(\alpha+\beta)}{\eta\mu\alpha\eta\mu\beta)}$$

9. Να αποδείξετε ότι για τις γωνίες α , β του διπλανού σχήματος ισχύει:

$$\text{i) } \eta\mu(\alpha+\beta) = \frac{63}{65}$$

$$\text{ii) } \sigma\upsilon\nu(\alpha+\beta) = \frac{16}{65}$$



10. Να υπολογίσετε τους τριγωνομετρικούς αριθμούς της γωνίας $\alpha+\beta$, αν:

$$\text{i) } \eta\mu\alpha = \frac{3}{5}, \quad \sigma\upsilon\nu\beta = -\frac{3}{13},$$

$$0 < \alpha < \frac{\pi}{2} \quad \text{και} \quad \frac{\pi}{2} < \beta < \pi$$

$$\text{ii) } \sigma\upsilon\nu\alpha = -\frac{3}{5}, \quad \eta\mu\beta = -\frac{4}{5},$$

$$\pi < \alpha < \frac{3\pi}{2} \quad \text{και} \quad \frac{3\pi}{2} < \beta < 2\pi$$

11. Να λύσετε τις εξισώσεις:

$$\text{i) } \eta\mu x = \sigma\upsilon\nu\left(x + \frac{\pi}{6}\right)$$

$$\text{ii) } \varepsilon\varphi x + \varepsilon\varphi\left(\frac{\pi}{4} + x\right) = -2$$

$$\text{iii) } \varepsilon\varphi x(x - \alpha) = -2, \quad \text{αν } \varepsilon\varphi\alpha = -3$$

B' ΟΜΑΔΑΣ

1. Να αποδείξετε ότι

$$\frac{\eta\mu(\alpha - \beta)}{\sigma\upsilon\upsilon\alpha\sigma\upsilon\upsilon\beta} + \frac{\eta\mu(\beta - \gamma)}{\sigma\upsilon\upsilon\beta\sigma\upsilon\upsilon\gamma} + \frac{\eta\mu(\gamma - \alpha)}{\sigma\upsilon\upsilon\gamma\sigma\upsilon\upsilon\alpha} = 0$$

2. Αν $\sigma\upsilon\upsilon\upsilon(\alpha+\beta) = 0$, να αποδείξετε ότι: $\eta\mu(\alpha+2\beta) = \eta\mu\alpha$

**3. Αν $\epsilon\phi\alpha = -3$, να λύσετε στο $[0,2\pi]$ την εξίσωση:
 $\eta\mu(x - \alpha) = -2 \eta\mu(x+\alpha)$**

4. Αν $\alpha+\beta = \frac{\pi}{4}$, να αποδείξετε ότι:

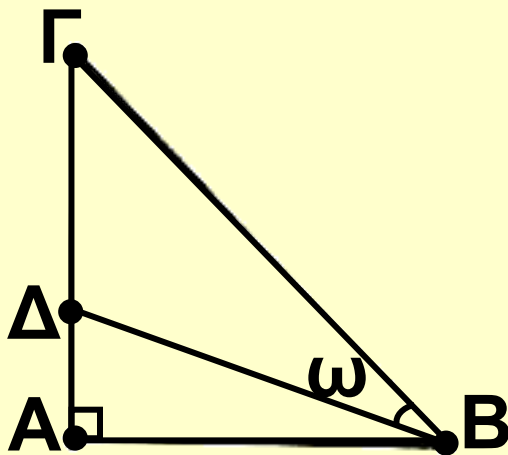
$$(1+\epsilon\phi\alpha)(1+\epsilon\phi\beta) = 2$$

5. Αν στο διπλανό σχήμα είναι $A\Gamma = 3 \cdot A\Delta$, να αποδείξετε ότι:

$$i) \varepsilon\varphi\omega = \frac{2\varepsilon\varphi B}{3+\varepsilon\varphi^2 B}, \text{ όπου } B = \hat{A}B\Gamma$$

όπου $B = \hat{A}B\Gamma$

ii) Η ΒΔ είναι διχοτόμος της γωνίας Β, αν $B = 60^\circ$



6. Αν σε ένα τρίγωνο ΑΒΓ ισχύει

$$\frac{\eta\mu A + \eta\mu(B - \Gamma)}{\sigma\upsilon\nu(B - \Gamma)} = \varepsilon\varphi B,$$

να αποδείξετε ότι $A = \frac{\pi}{2}$
και αντιστρόφως.

*** 7. Να αποδείξετε ότι σε κάθε τρίγωνο ΑΒΓ ισχύει:**

i) $\sigma\phi A \sigma\phi B + \sigma\phi B \sigma\phi \Gamma + \sigma\phi \Gamma \sigma\phi A = 1,$

ii) $\frac{\sigma\upsilon\nu A}{\eta\mu B \eta\mu \Gamma} + \frac{\sigma\upsilon\nu B}{\eta\mu \Gamma \eta\mu A} + \frac{\sigma\upsilon\nu \Gamma}{\eta\mu A \eta\mu B} = 2$

8. Να λυθεί στο διάστημα $[0, \pi]$ η εξίσωση:

$$\varepsilon\varphi\left(\frac{\pi}{4} + x\right) - \varepsilon\varphi\left(\frac{\pi}{4} - x\right) = 2\sqrt{3}$$

*** 9. Αν $0 < x, y, z < \frac{\pi}{2}$ με $\varepsilon\varphi x = \frac{1}{2}$,**

$\varepsilon\varphi y = \frac{1}{5}$ και $\varepsilon\varphi z = \frac{1}{8}$, να αποδείξετε

ότι: $x + y + z = \frac{\pi}{4}$

1.4 Τριγωνομετρικοί αριθμοί της γωνίας 2α

Οι τύποι που εκφράζουν τους τριγωνομετρικούς αριθμούς της γωνίας 2α , ως συνάρτηση των τριγωνομετρικών αριθμών της γωνίας α , είναι ειδικές περιπτώσεις των τύπων της προηγούμενης παραγράφου. Συγκεκριμένα, αν στους τύπους του $\eta\mu(\alpha+\beta)$, του $\sigma\upsilon\nu(\alpha+\beta)$ και της $\epsilon\varphi(\alpha+\beta)$ αντικαταστήσουμε το β με το α , έχουμε:

- $\eta\mu 2\alpha = \eta\mu(\alpha+\alpha) = \eta\mu\alpha\sigma\upsilon\nu\alpha + \sigma\upsilon\nu\alpha\eta\mu\alpha = 2\eta\mu\alpha\sigma\upsilon\nu\alpha$

Επομένως:

$$\eta\mu 2\alpha = 2\eta\mu\alpha\sigma\upsilon\nu\alpha \quad (1)$$

- $\sigma\upsilon\nu 2\alpha = \sigma\upsilon\nu(\alpha+\alpha) = \sigma\upsilon\nu\alpha\sigma\upsilon\nu\alpha - \eta\mu\alpha\eta\mu\alpha = \sigma\upsilon\nu^2\alpha - \eta\mu^2\alpha$
 $= \sigma\upsilon\nu^2\alpha - (1 - \sigma\upsilon\nu^2\alpha) = 2\sigma\upsilon\nu^2\alpha - 1$

Επίσης $\sigma\upsilon\nu 2\alpha = \sigma\upsilon\nu^2\alpha - \eta\mu^2\alpha$
 $= (1 - \eta\mu^2\alpha) - \eta\mu^2\alpha = 1 - 2\eta\mu^2\alpha$

Επομένως:

$$\begin{aligned} \sigma\upsilon\nu 2\alpha &= \sigma\upsilon\nu^2\alpha - \eta\mu^2\alpha \\ &= 2\sigma\upsilon\nu^2\alpha - 1 \\ &= 1 - 2\eta\mu^2\alpha \end{aligned} \quad (2)$$

- $\epsilon\varphi 2\alpha = \frac{\epsilon\varphi\alpha + \epsilon\varphi\alpha}{1 - \epsilon\varphi\alpha\epsilon\varphi\alpha} = \frac{2\epsilon\varphi\alpha}{1 - \epsilon\varphi^2\alpha}$

Επομένως:

$$\epsilon\varphi 2\alpha = \frac{2\epsilon\varphi\alpha}{1 - \epsilon\varphi\alpha^2\alpha} \quad (3)$$

Από τους τύπους (2) μπορούμε να υπολογίσουμε τους τριγωνομετρικούς αριθμούς της γωνίας α , αν γνωρίζουμε το $\sin 2\alpha$.

Πράγματι, έχουμε:

$$\bullet \sin 2\alpha = 2\sin^2 \alpha - 1$$

$$\Leftrightarrow 1 + \sin 2\alpha = 2\sin^2 \alpha$$

$$\Leftrightarrow \sin^2 \alpha = \frac{1 + \sin 2\alpha}{2}$$

$$\bullet \sin 2\alpha = 1 - 2\eta\mu^2 \alpha$$

$$\Leftrightarrow 2\eta\mu^2 \alpha = 1 - \sin 2\alpha$$

$$\Leftrightarrow \eta\mu^2 \alpha = \frac{1 - \sin 2\alpha}{2}$$

$$\varepsilon\varphi^2 \alpha = \frac{\eta\mu^2 \alpha}{\sin^2 \alpha} = \frac{\frac{1 - \sin 2\alpha}{2}}{\frac{1 + \sin 2\alpha}{2}}$$

$$= \frac{1 - \sin 2\alpha}{1 + \sin 2\alpha}$$

Επομένως:

$$\eta\mu^2\alpha = \frac{1 - \sigma\upsilon\nu 2\alpha}{2} \quad (4)$$

$$\sigma\upsilon\nu^2\alpha = \frac{1 + \sigma\upsilon\nu 2\alpha}{2} \quad (5)$$

$$\varepsilon\varphi^2\alpha = \frac{1 - \sigma\upsilon\nu 2\alpha}{1 + \sigma\upsilon\nu 2\alpha} \quad (6)$$

Με τη βοήθεια των παραπάνω τύπων μπορούμε να υπολογίσουμε τους τριγωνομετρικούς αριθμούς του μισού μιας γωνίας, αν γνωρίζουμε τους τριγωνομετρικούς αριθμούς της γωνίας αυτής. Για παράδειγμα οι τριγωνομετρικοί

αριθμοί της γωνίας $22,5^\circ = \frac{45^\circ}{2}$
υπολογίζονται ως εξής:

$$\eta\mu^2 22,5^\circ = \frac{1 - \sigma\upsilon\nu 45^\circ}{2}$$

$$= \frac{1 - \frac{\sqrt{2}}{2}}{2} = \frac{2 - \sqrt{2}}{4},$$

$$\text{οπότε } \eta\mu 22,5^\circ = \frac{\sqrt{2 - \sqrt{2}}}{2}$$

$$\sigma\upsilon\nu^2 22,5^\circ = \frac{1 + \sigma\upsilon\nu 45^\circ}{2}$$

$$= \frac{1 + \frac{\sqrt{2}}{2}}{2} = \frac{2 + \sqrt{2}}{4},$$

$$\text{οπότε } \sigma\upsilon\nu 22,5^\circ = \frac{\sqrt{2 + \sqrt{2}}}{2}$$

Επομένως

$$\varepsilon\varphi 22,5^\circ = \frac{\sqrt{2 - \sqrt{2}}}{\sqrt{2 + \sqrt{2}}} = \sqrt{2 - 1} \quad \text{και}$$

$$\sigma\varphi 22,5^\circ = \frac{\sqrt{2 + \sqrt{2}}}{\sqrt{2 - \sqrt{2}}} = \sqrt{2 + 1}$$

ΠΑΡΑΔΕΙΓΜΑΤΑ - ΕΦΑΡΜΟΓΕΣ

1ο Να αποδειχθεί ότι:

i) $\eta\mu 3\alpha = 3\eta\mu\alpha - 4\eta\mu^3\alpha$

ii) $\sigma\upsilon\nu 3\alpha = 4\sigma\upsilon\nu^3\alpha - 3\sigma\upsilon\nu\alpha$

ΑΠΟΔΕΙΞΗ

Έχουμε:

i) $\eta\mu 3\alpha = \eta\mu(2\alpha + \alpha) =$

$= \eta\mu 2\alpha \sigma\upsilon\nu\alpha + \sigma\upsilon\nu 2\alpha \eta\mu\alpha =$

$= 2\eta\mu\alpha \sigma\upsilon\nu^2\alpha + (1 - 2\eta\mu^2\alpha)\eta\mu\alpha =$

$$\begin{aligned}
&= 2\eta\mu\alpha(1 - \eta\mu^2\alpha) + (1 - 2\eta\mu^2\alpha)\eta\mu\alpha = \\
&= 2\eta\mu\alpha - 2\eta\mu^3\alpha + \eta\mu\alpha - 2\eta\mu^3\alpha = \\
&= 3\eta\mu\alpha - 4\eta\mu^3\alpha
\end{aligned}$$

$$\begin{aligned}
\text{ii) } \sigma\upsilon\nu 3\alpha &= \sigma\upsilon\nu(2\alpha + \alpha) \\
&= \sigma\upsilon\nu 2\alpha \sigma\upsilon\nu\alpha - \eta\mu 2\alpha \eta\mu\alpha \\
&= (2\sigma\upsilon\nu^2\alpha - 1)\sigma\upsilon\nu\alpha - 2\eta\mu^2\alpha \sigma\upsilon\nu\alpha \\
&= (2\sigma\upsilon\nu^2\alpha - 1)\sigma\upsilon\nu\alpha - 2(1 - \sigma\upsilon\nu^2\alpha)\sigma\upsilon\nu\alpha \\
&= 2\sigma\upsilon\nu^3\alpha - \sigma\upsilon\nu\alpha - 2\sigma\upsilon\nu\alpha + 2\sigma\upsilon\nu^3\alpha \\
&= 4\sigma\upsilon\nu^3\alpha - 3\sigma\upsilon\nu\alpha
\end{aligned}$$

2ο Να αποδείξετε ότι για κάθε γωνία α με $\sigma\upsilon\nu\alpha \neq 0$ ισχύει:

$$\text{i) } \eta\mu 2\alpha = \frac{2\varepsilon\varphi\alpha}{1 + \varepsilon\varphi^2\alpha}$$

$$\text{ii) } \sigma\upsilon\nu 2\alpha = \frac{1 - \varepsilon\varphi^2\alpha}{1 + \varepsilon\varphi^2\alpha}$$

ΑΠΟΔΕΙΞΗ

Αν $\sigma\upsilon\nu\alpha \neq 0$, έχουμε:

i) $\eta\mu 2\alpha = 2\eta\mu\alpha\sigma\upsilon\nu\alpha$

$$\begin{aligned} &= \frac{2\eta\mu\alpha\sigma\upsilon\nu\alpha}{\sigma\upsilon\nu^2\alpha + \eta\mu^2\alpha} = \frac{\frac{2\eta\mu\alpha\sigma\upsilon\nu\alpha}{\sigma\upsilon\nu^2\alpha}}{\frac{\sigma\upsilon\nu^2\alpha}{\sigma\upsilon\nu^2\alpha} + \frac{\eta\mu^2\alpha}{\sigma\upsilon\nu^2\alpha}} = \\ &= \frac{2\varepsilon\varphi\alpha}{1 + \varepsilon\varphi^2\alpha} \end{aligned}$$

ii) $\sigma\upsilon\nu 2\alpha = \sigma\upsilon\nu^2\alpha - \eta\mu^2\alpha$

$$\begin{aligned} &= \frac{\sigma\upsilon\nu^2\alpha - \eta\mu^2\alpha}{\sigma\upsilon\nu^2\alpha + \eta\mu^2\alpha} = \frac{\frac{\sigma\upsilon\nu^2\alpha}{\sigma\upsilon\nu^2\alpha} - \frac{\eta\mu^2\alpha}{\sigma\upsilon\nu^2\alpha}}{\frac{\sigma\upsilon\nu^2\alpha}{\sigma\upsilon\nu^2\alpha} + \frac{\eta\mu^2\alpha}{\sigma\upsilon\nu^2\alpha}} = \\ &= \frac{1 - \varepsilon\varphi^2\alpha}{1 + \varepsilon\varphi^2\alpha} \end{aligned}$$

3ο Αν $\varepsilon\varphi 2\alpha = \frac{3}{4}$ και $\frac{\pi}{2} < \alpha < \pi$,
να βρεθεί η $\varepsilon\varphi\alpha$.

ΛΥΣΗ

Από τον τύπο (3) έχουμε:

$$\frac{3}{4} = \frac{\varepsilon\varphi\alpha}{1 - \varepsilon\varphi^2\alpha} \Leftrightarrow 8\varepsilon\varphi\alpha = 3 - 3\varepsilon\varphi^2\alpha$$

$$\Leftrightarrow 3\varepsilon\varphi^2\alpha + 8\varepsilon\varphi\alpha - 3 = 0$$

$$\Leftrightarrow \varepsilon\varphi\alpha = \frac{-8 \pm 10}{6} \quad [\text{αφού } \Delta = 100]$$

$$\Leftrightarrow \varepsilon\varphi\alpha = \frac{1}{3} \quad \text{ή } \varepsilon\varphi = -3$$

Από τις τιμές της $\varepsilon\varphi\alpha$ που βρήκαμε
δεκτή είναι μόνο η -3 ,

αφού $\frac{\pi}{2} < \alpha < \pi$.

4ο Να αποδειχθεί ότι

$$\varepsilon\varphi^2\left(\frac{\pi}{4} - x\right) = \frac{1 - \eta\mu 2x}{1 + \eta\mu 2x}$$

ΑΠΟΔΕΙΞΗ

Επειδή $\varepsilon\varphi^2\alpha = \frac{1 - \sigma\upsilon\nu 2\alpha}{1 + \sigma\upsilon\nu 2\alpha}$, έχουμε:

$$\varepsilon\varphi^2\left(\frac{\pi}{4} - x\right) = \frac{1 - \sigma\upsilon\nu\left(\frac{\pi}{2} - 2x\right)}{1 + \sigma\upsilon\nu\left(\frac{\pi}{2} - 2x\right)} =$$

$$= \frac{1 - \eta\mu 2x}{1 + \eta\mu 2x},$$

αφού $\sigma\upsilon\nu\left(\frac{\pi}{2} - 2x\right) = \eta\mu 2x$

5ο Να λυθεί η εξίσωση:

$$2 - \eta\mu 2x = 2\sigma\upsilon\nu^2 \frac{x}{2}$$

ΛΥΣΗ

Σύμφωνα με τον τύπο (5) έχουμε:

$$2 - \eta\mu^2 x = 2\sigma\upsilon\nu^2 \frac{x}{2}$$

$$\Leftrightarrow 2 - \eta\mu^2 x = 1 + \sigma\upsilon\nu x$$

$$\Leftrightarrow 2 - (1 - \sigma\upsilon\nu^2 x) = 1 + \sigma\upsilon\nu x$$

$$\Leftrightarrow \sigma\upsilon\nu^2 x - \sigma\upsilon\nu x = 0$$

$$\Leftrightarrow \sigma\upsilon\nu x (\sigma\upsilon\nu x - 1) = 0$$

$$\Leftrightarrow \sigma\upsilon\nu x = 0 \quad \text{ή} \quad \sigma\upsilon\nu x = 1$$

$$\Leftrightarrow x = 2\kappa\pi \pm \frac{\pi}{2} \quad \text{ή} \quad x = 2\kappa\pi, \quad \kappa \in \mathbb{Z}$$

6ο Να εκφρασθεί το $8\sigma\upsilon\nu^4 a$ ως συνάρτηση του $\sigma\upsilon\nu 2a$ και του $\sigma\upsilon\nu 4a$

ΑΠΟΔΕΙΞΗ

Σύμφωνα με τον τύπο (5) έχουμε:

$$\begin{aligned}8\sigma\upsilon\nu^4\alpha &= 8(\sigma\upsilon\nu^2\alpha)^2 \\ &= 8\left(\frac{1 + \sigma\upsilon\nu 2\alpha}{2}\right)^2 \\ &= 8 \cdot \frac{1 + 2\sigma\upsilon\nu 2\alpha + \sigma\upsilon\nu^2\alpha}{4} \\ &= 2 + 4\sigma\upsilon\nu 2\alpha + 2\sigma\upsilon\nu^2 2\alpha \\ &= 2 + 4\sigma\upsilon\nu 2\alpha + 1 + \sigma\upsilon\nu 4\alpha \\ &= 3 + 4\sigma\upsilon\nu 2\alpha + \sigma\upsilon\nu 4\alpha\end{aligned}$$

ΑΣΚΗΣΕΙΣ

Α' ΟΜΑΔΑΣ

1. Να υπολογίσετε την τιμή των παραστάσεων:

$$\text{i) } 2\eta\mu \frac{3\pi}{4} \sigma\upsilon\nu \frac{3\pi}{4} \quad \text{ii) } 1 - 2\eta\mu^2 \frac{\pi}{12}$$

$$\text{iii) } 2\sigma\upsilon\nu^2 135^\circ - 1$$

$$\text{iv) } \frac{2\epsilon\varphi 75^\circ}{1 - \epsilon\varphi^2 75^\circ}$$

2. Να γράψετε σε απλούστερη μορφή τις παραστάσεις:

$$\text{i) } 2\eta\mu 2\alpha \sigma\upsilon\nu 2\alpha$$

$$\text{ii) } 2\sigma\upsilon\nu^2 \left(\frac{\pi}{4} - \alpha \right) - 1$$

$$\text{iii) } \frac{2\epsilon\varphi 3\alpha}{1 - \epsilon\varphi^2 3\alpha}$$

3. Να αποδείξετε ότι:

$$\text{i) } \eta\mu^2 \alpha + \sigma\upsilon\nu 2\alpha = \sigma\upsilon\nu^2 \alpha$$

$$\text{ii) } \frac{\eta\mu 2\alpha}{1 - \eta\mu^2 \alpha} = 2\epsilon\varphi \alpha$$

$$\text{iii) } \sigma\varphi\alpha - \varepsilon\varphi\alpha = 2\sigma\varphi 2\alpha$$

$$\text{iv) } \varepsilon\varphi\alpha + \sigma\varphi\alpha = \frac{2}{\eta\mu 2\alpha}$$

4. Να υπολογίσετε τους τριγωνομετρικούς αριθμούς του 2α , αν:

$$\text{i) } \sigma\upsilon\alpha\alpha = -\frac{4}{5} \quad \text{και} \quad \pi < \alpha < \frac{3\pi}{2}$$

$$\text{ii) } \eta\mu\alpha = \frac{3}{5} \quad \text{και} \quad \frac{\pi}{2} < \alpha < \pi$$

5. Να υπολογίσετε την $\varepsilon\varphi(\alpha + 2\beta)$,

$$\text{αν } \varepsilon\varphi\alpha = \frac{1}{4} \quad \text{και} \quad \varepsilon\varphi\beta = \frac{1}{3}$$

6. Να αποδείξετε ότι:

$$\text{i) } \eta\mu^3\alpha\sigma\upsilon\alpha\alpha + \sigma\upsilon\upsilon\eta\mu^3\alpha\eta\mu\alpha = \frac{1}{2}\eta\mu 2\alpha$$

$$\text{ii) } \eta\mu 2\alpha \epsilon\phi\alpha + 2\sigma\upsilon\nu^2\alpha = 2$$

$$\text{iii) } \frac{\eta\mu 2\alpha}{1 + \sigma\upsilon\nu\alpha} = \epsilon\phi\alpha$$

$$\text{iv) } \frac{1 - \sigma\upsilon\nu 2\alpha + \eta\mu 2\alpha}{1 + \sigma\upsilon\nu 2\alpha + \eta\mu 2\alpha} = \epsilon\phi\alpha$$

7. Να λύσετε τις εξισώσεις:

$$\text{i) } \sigma\upsilon\nu 2x - \eta\mu x - 1 = 0$$

$$\text{ii) } \eta\mu 2x - 2\sigma\upsilon\nu x + \eta\mu x - 1 = 0$$

8. Να υπολογίσετε τους τριγωνομετρικούς αριθμούς της γωνίας $\frac{\pi}{16}$

9. Να υπολογίσετε τους τριγωνομετρικούς αριθμούς του $\frac{\alpha}{2}$, αν:

$$\text{i) } \sigma\upsilon\nu\alpha = \frac{\pi}{13} \text{ και } 0 < \alpha < \frac{\pi}{2}$$

$$\sigma\upsilon\upsilon\alpha = \frac{3}{5} \quad \text{και} \quad \frac{3\pi}{2} < \alpha < 2\pi$$

10. Να λύσετε τις εξισώσεις:

$$\text{i) } \sigma\upsilon\upsilon 2\chi + 2\sigma\upsilon\upsilon^2 \frac{\chi}{2} = 0$$

$$\text{ii) } \sigma\upsilon\upsilon\chi - 2\eta\mu^2 \frac{\chi}{2} = 0$$

$$\text{iii) } 2 - \sigma\upsilon\upsilon^2\chi = 4\eta\mu^2 \frac{\chi}{2}$$

$$\text{iv) } \sigma\upsilon\upsilon^2\chi - 1 = 2\sigma\upsilon\upsilon^2 \frac{\chi}{2}$$

B' ΟΜΑΔΑΣ

1. Αν $0 \leq \alpha < \frac{\pi}{4}$, να αποδείξετε ότι:

$$\sigma\upsilon\upsilon\alpha - \eta\mu\alpha = \sqrt{1 - \eta\mu^2\alpha}.$$

2. Να αποδείξετε ότι

$$\frac{\eta\mu^2\alpha + 1 - \sigma\upsilon\upsilon^2\alpha}{\eta\mu\alpha(1 + \sigma\upsilon\upsilon\alpha)} = 2\varepsilon\varphi \frac{\alpha}{2}$$

3. Να αποδείξετε ότι:

$$\eta\mu^2 \frac{\pi}{8} - \sigma\upsilon\nu^4 \frac{3\pi}{8} = \frac{1}{8}$$

4. Να αποδείξετε ότι:

i)
$$\frac{1 + \epsilon\phi\alpha\epsilon\phi 2\alpha}{\epsilon\phi\alpha + \sigma\phi\alpha} = \frac{2\epsilon\phi\alpha}{2}$$

ii)
$$\frac{3 - 4\sigma\upsilon\nu 2\alpha + \sigma\upsilon\nu 4\alpha}{3 + 4\sigma\upsilon\nu 2\alpha + \sigma\upsilon\nu 4\alpha} = \epsilon\phi^4 \alpha$$

5. Να αποδείξετε ότι:

$$\begin{aligned} \epsilon\phi(45^\circ - \alpha) &= \frac{\sigma\upsilon\nu 2\alpha}{1 + \eta\mu 2\alpha} \\ &= \frac{1}{\sigma\upsilon\nu 2\alpha} - \epsilon\phi 2\alpha \end{aligned}$$

και με τη βοήθεια αυτού του τύπου να υπολογίσετε την $\epsilon\phi 15^\circ$

6. Να λυθούν οι εξισώσεις:

i) $\varepsilon\varphi 2x = 2\sigma\upsilon\nu x$

ii) $\varepsilon\varphi\chi\varepsilon\varphi 2x = -3$

7. Να αποδείξετε ότι:

$$\sigma\upsilon\nu 4\alpha = 8\sigma\upsilon\nu^4 \alpha - 8\sigma\upsilon\nu^2 \alpha + 1$$

8. Να αποδείξετε ότι:

i) $\sigma\upsilon\nu^4 \frac{\pi}{8} + \sigma\upsilon\nu^4 \frac{3\pi}{8} = \frac{3}{4}$

ii) $\eta\mu^4 \frac{\pi}{8} + \eta\mu^4 \frac{3\pi}{8} = \frac{3}{4}$

iii) $8\eta\mu^2 \alpha \sigma\upsilon\nu^2 \alpha = 1 - \sigma\upsilon\nu 4\alpha$

9. Αν $\sigma\upsilon\nu x = \frac{\alpha}{\beta + \gamma}$, $\sigma\upsilon\nu y = \frac{\beta}{\gamma + \alpha}$

και $\sigma\upsilon\nu z = \frac{\gamma}{\alpha + \beta}$, να αποδείξετε

ότι: $\varepsilon\varphi^2 \frac{x}{2} + \varepsilon\varphi^2 \frac{y}{2} + \varepsilon\varphi^2 \frac{z}{2} = 1$

* 1.5 Μετασχηματισμοί τριγωνομετρικών παραστάσεων

Σε αρκετές εφαρμογές της Τριγωνομετρίας χρειάζεται το γινόμενο τριγωνομετρικών αριθμών να μετασχηματισθεί σε άθροισμα ή αντιστρόφως το άθροισμα σε γινόμενο.

Στην παράγραφο αυτή θα αναζητήσουμε τύπους, με τους οποίους γίνονται οι παραπάνω μετασχηματισμοί.

Μετασχηματισμός γινομένου σε άθροισμα

Από τις γνωστές μας ισότητες:

$$\eta\mu(\alpha + \beta) = \eta\mu\alpha\sigma\upsilon\nu\beta + \sigma\upsilon\nu\alpha\eta\mu\beta$$

$$\eta\mu(\alpha - \beta) = \eta\mu\alpha\sigma\upsilon\nu\beta - \sigma\upsilon\nu\alpha\eta\mu\beta$$

με πρόσθεση κατά μέλη βρίσκουμε
ότι:

$\eta\mu(\alpha + \beta) + \eta\mu(\alpha - \beta) = 2\eta\mu\alpha\sigma\upsilon\nu\beta$
δηλαδή:

$$2\eta\mu\alpha\sigma\upsilon\nu\beta = \eta\mu(\alpha+\beta)+\eta\mu(\alpha-\beta) \quad (1)$$

ενώ από τις:

$$\sigma\upsilon\nu(\alpha - \beta) = \sigma\upsilon\nu\alpha\sigma\upsilon\nu\beta + \eta\mu\alpha\eta\mu\beta$$

$$\sigma\upsilon\nu(\alpha + \beta) = \sigma\upsilon\nu\alpha\sigma\upsilon\nu\beta - \eta\mu\alpha\eta\mu\beta$$

με πρόσθεση και αφαίρεση κατά μέλη βρίσκουμε ότι:

$$2\sigma\upsilon\nu\alpha\sigma\upsilon\nu\beta = \sigma\upsilon\nu(\alpha - \beta) + \sigma\upsilon\nu(\alpha + \beta) \quad (2)$$

$$2\eta\mu\alpha\eta\mu\beta = \sigma\upsilon\nu(\alpha - \beta) - \sigma\upsilon\nu(\alpha + \beta) \quad (3)$$

Μετασχηματισμός αθροίσματος σε γινόμενο

Με τη βοήθεια των προηγούμενων τριών τύπων μπορούμε να

μετασχηματίσουμε το άθροισμα
τριγωνομετρικών αριθμών σε
γινόμενο. Πράγματι, αν θέσουμε

$$\alpha + \beta = A \quad \text{και} \quad \alpha - \beta = B,$$

τότε έχουμε

$$A + B = \alpha + \beta + \alpha - \beta = 2\alpha,$$

$$\text{οπότε} \quad \alpha = \frac{A + B}{2}$$

$$A - B = \alpha + \beta - \alpha + \beta = 2\beta,$$

$$\text{οπότε} \quad \beta = \frac{A - B}{2}$$

Έτσι ο παραπάνω τύπος (1)

$$\text{γράφεται } 2 \eta\mu \frac{A + B}{2} \sigma\upsilon\nu \frac{A - B}{2} =$$

$$= \eta\mu A + \eta\mu B.$$

Δηλαδή έχουμε:

$$\begin{aligned} \eta\mu A + \eta\mu B &= & (4) \\ &= 2 \eta\mu \frac{A + B}{2} \sigma\upsilon\nu \frac{A - B}{2} \end{aligned}$$

Αν τώρα στον τύπο (4)
αντικαταστήσουμε το Β με - Β,
βρίσκουμε:

$$\begin{aligned} \eta\mu A - \eta\mu B &= \\ &= 2 \eta\mu \frac{A - B}{2} \sigma\upsilon\nu \frac{A + B}{2} \end{aligned} \quad (5)$$

Ομοίως, από τον τύπο (2),
βρίσκουμε:

$$\begin{aligned} \sigma\upsilon\nu A + \sigma\upsilon\nu B &= \\ &= 2 \sigma\upsilon\nu \frac{A + B}{2} \sigma\upsilon\nu \frac{A - B}{2} \end{aligned} \quad (6)$$

ενώ από τον τύπο (3) βρίσκουμε

$$\begin{aligned} 2\eta\mu \frac{A + B}{2} \eta\mu \frac{A - B}{2} &= \\ &= \sigma\upsilon\nu B - \sigma\upsilon\nu A, \text{ οπότε} \end{aligned}$$

$$\begin{aligned} \sin A - \sin B &= \\ &= -2\eta\mu \frac{A - B}{2} 2\eta\mu \frac{A + B}{2} \quad (7) \end{aligned}$$

ΠΑΡΑΔΕΙΓΜΑΤΑ - ΕΦΑΡΜΟΓΕΣ

1ο Να λυθεί η εξίσωση: (1)
 $\eta\mu 6x \sin 3x = \eta\mu 5x \sin 4x$

ΛΥΣΗ

$$\begin{aligned} \text{Έχουμε: } (1) &\Leftrightarrow 2\eta\mu 6x \sin 3x = \\ &= 2\eta\mu 5x \sin 4x \\ &\Leftrightarrow \eta\mu 9x + \eta\mu 3x = \\ &= \eta\mu 9x + \eta\mu x \\ &\Leftrightarrow \eta\mu 3x = \eta\mu x \end{aligned}$$

$$\Leftrightarrow \begin{cases} 3x = 2k\pi + x \\ \quad \text{ή} \\ 3x = 2k\pi + \pi - x \end{cases} , k \in \mathbb{Z}$$

$$\Leftrightarrow \begin{cases} x = k\pi \\ \text{ή} \\ x = \frac{2k\pi + \pi}{4} \end{cases}, k \in \mathbb{Z}$$

2ο Να λυθεί η εξίσωση:
 $\sin 3x + \sin x = \eta\mu 2x$ (1)

ΛΥΣΗ

Έχουμε:

$$(1) \Leftrightarrow 2\sin \frac{3x + x}{2} \cos \frac{3x - x}{2}$$

$$= 2\eta\mu x \cos x$$

$$\Leftrightarrow 2\sin 2x \cos x = 2\eta\mu x \cos x$$

$$\Leftrightarrow \sin 2x \cos x - \eta\mu x \cos x = 0$$

$$\Leftrightarrow \cos x (\sin 2x - \eta\mu x) = 0$$

$$\Leftrightarrow \cos x = 0 \quad (2)$$

$$\text{ή} \quad \sin 2x = \eta\mu x \quad (3) \quad (2)$$

Αλλά $(2) \Leftrightarrow \cos x = \cos \frac{\pi}{2}$

$$\Leftrightarrow x = 2k\pi \pm \frac{\pi}{2}, \quad k \in \mathbb{Z}$$

$$\text{και (3)} \Leftrightarrow \sigma\upsilon\nu 2x = \sigma\upsilon\nu \left(\frac{\pi}{2} - x \right)$$

$$\Leftrightarrow \begin{cases} 2x = 2k\pi + \left(\frac{\pi}{2} - x \right) \\ \text{ή} \\ 2x = 2k\pi - \left(\frac{\pi}{2} - x \right) \end{cases}, k \in \mathbb{Z}$$

$$\Leftrightarrow \begin{cases} 3x = 2k\pi + \frac{\pi}{2} \\ \text{ή} \\ x = 2k\pi - \frac{\pi}{2} \end{cases}, k \in \mathbb{Z}$$

3ο Να αποδειχθεί ότι σε κάθε τρίγωνο ΑΒΓ ισχύει:

$$\begin{aligned} \eta_{\mu A} + \eta_{\mu B} + \eta_{\mu \Gamma} &= \\ &= 4\sigma\upsilon\nu \frac{A}{2} \sigma\upsilon\nu \frac{B}{2} \sigma\upsilon\nu \frac{\Gamma}{2} \end{aligned}$$

ΑΠΟΔΕΙΞΗ

$$\begin{aligned} & \eta\mu A + \eta\mu B + \eta\mu\Gamma = \\ & = 2\eta\mu \frac{A+B}{2} \sigma\upsilon\nu \frac{A-B}{2} + \\ & + 2\eta\mu \frac{\Gamma}{2} \sigma\upsilon\nu \frac{\Gamma}{2} \\ & = 2\sigma\upsilon\nu \frac{\Gamma}{2} \sigma\upsilon\nu \frac{A-B}{2} + \boxed{\text{γιατί}} \\ & + 2\sigma\upsilon\nu \frac{A+B}{2} \sigma\upsilon\nu \frac{\Gamma}{2} \left(\frac{A+B}{2} + \frac{\Gamma}{2} = \frac{\pi}{2} \right) \end{aligned}$$

$$= 2\sigma\upsilon\nu \frac{\Gamma}{2} \left[\begin{array}{l} \sigma\upsilon\nu \frac{A-B}{2} + \\ + \sigma\upsilon\nu \frac{A+B}{2} \end{array} \right]$$

$$\begin{aligned} & = 2\sigma\upsilon\nu \frac{\Gamma}{2} 2\sigma\upsilon\nu \frac{A}{2} \sigma\upsilon\nu \frac{B}{2} = \\ & = 4\sigma\upsilon\nu \frac{A}{2} \sigma\upsilon\nu \frac{B}{2} \sigma\upsilon\nu \frac{\Gamma}{2} \end{aligned}$$

ΑΣΚΗΣΕΙΣ

Α' ΟΜΑΔΑΣ

1. Να υπολογίσετε, χωρίς τη χρήση υπολογιστών τσέπης, τα γινόμενα:

i) $\sin 75^\circ \sin 15^\circ$,

ii) $\eta\mu 105^\circ \sin 15^\circ$,

iii) $\eta\mu \frac{13\pi}{12} \sin \frac{\pi}{12}$

iv) $\eta\mu \frac{11\pi}{12} \eta\mu \frac{7\pi}{12}$

2. Να μετατρέψετε σε αθροίσματα τριγωνομετρικών αριθμών τα παρακάτω γινόμενα:

i) $2\eta\mu x \sin 2x$

ii) $2\eta\mu 4x \eta\mu 2x$

iii) $2\sin 3x \sin 5x$

iv) $\sin 6x \eta\mu 2x$

v) $\eta\mu \left(\frac{\pi}{4} - x \right) \eta\mu \left(\frac{\pi}{4} + x \right)$

3. Να λύσετε τις εξισώσεις:

i) $\eta\mu 3\chi \sigma\upsilon\nu\chi = \eta\mu 6\chi \sigma\upsilon\nu 2\chi$

ii) $\sigma\upsilon\nu 3\chi \sigma\upsilon\nu 2\chi = \eta\mu 2\chi \eta\mu\chi$

4. Να υπολογίσετε, χωρίς τη χρήση υπολογιστών τσέπης, τα αθροίσματα:

i) $\eta\mu 75^\circ + \eta\mu 15^\circ$

ii) $\eta\mu \frac{11\pi}{12} - \eta\mu \frac{5\pi}{12}$

iv) $\sigma\upsilon\nu 40^\circ + \sigma\upsilon\nu 80^\circ + \sigma\upsilon\nu 160^\circ$

5. Να μετατρέψετε σε γινόμενα τριγωνομετρικών αριθμών τα παρακάτω αθροίσματα:

i) $\eta\mu 4\chi + \eta\mu 2\chi$

ii) $\sigma\upsilon\nu 5\chi - \sigma\upsilon\nu 3\chi$

iv) $\sigma\upsilon\nu 3\chi + \sigma\upsilon\nu\chi$

iv) $1 + \eta\mu\chi$

v) $1 + \sigma\upsilon\nu\chi$

6. Αν Β και Γ είναι οι οξείες γωνίες ενός ορθογωνίου τριγώνου ΑΒΓ,

να αποδείξετε ότι:

i) $\eta\mu 2B + \eta\mu 2\Gamma = 2\sigma\upsilon\nu(B - \Gamma)$,

ii) $\eta\mu B - \eta\mu\Gamma = \sqrt{2\eta\mu} \frac{B - \Gamma}{2}$

7. Να αποδείξετε ότι:

i) $\frac{\sigma\upsilon\nu 3\alpha - \sigma\upsilon\nu 5\alpha}{\eta\mu 3\alpha + \eta\mu 5\alpha} = \epsilon\phi\alpha$

ii) $\frac{\eta\mu\alpha + \eta\mu 3\alpha + \eta\mu 5\alpha}{\sigma\upsilon\nu\alpha + \sigma\upsilon\nu 3\alpha + \sigma\upsilon\nu 5\alpha} = \epsilon\phi 3\alpha$

iii) $\frac{\eta\mu\alpha\eta\mu 2\alpha + \eta\mu 3\alpha\eta\mu 6\alpha}{\eta\mu\alpha\sigma\upsilon\nu 2\alpha + \eta\mu 3\alpha\sigma\upsilon\nu 6\alpha} = \epsilon\phi 5\alpha$

8. Να λύσετε τις εξισώσεις:

i) $\eta\mu 3x - \eta\mu x = \sigma\upsilon\nu 2x$

ii) $\sigma\upsilon\nu 5x - \sigma\upsilon\nu x = \eta\mu 3x$

iii) $\eta\mu 3x + \eta\mu 6x + \eta\mu 9x = 0$

B' ΟΜΑΔΑΣ

1. Να αποδείξετε ότι:

i) $2\eta\mu 50^\circ - \frac{1}{2\sigma\upsilon\nu 20^\circ} = 1$

ii) $2\eta\mu 52^\circ \eta\mu 68^\circ -$

$- 2\eta\mu 47^\circ \sigma\upsilon\nu 77^\circ \sigma\upsilon\nu 81^\circ = 1$

2. Αν για τις οξείες γωνίες Β και Γ ενός ορθογωνίου τριγώνου ΑΒΓ ισχύει $4\eta\mu Β \sigma\upsilon\nu Γ = 1$, να αποδείξετε ότι $B = 30^\circ$.

3. Να αποδείξετε ότι:

i) $\eta\mu\alpha\eta\mu\beta \leq \eta\mu^2\left(\frac{\alpha + \beta}{2}\right)$

ii) $\sigma\upsilon\nu\alpha\sigma\upsilon\nu\beta \leq \sigma\upsilon\nu^2\left(\frac{\alpha + \beta}{2}\right)$

4. Να αποδείξετε ότι:

i) $\frac{(\eta\mu\alpha + \eta\mu\beta)}{2} \leq \eta\mu\left(\frac{\alpha + \beta}{2}\right)$,

για οποιαδήποτε $\alpha, \beta \in [0, \pi]$

ii) $\frac{(\sigma\upsilon\nu\alpha + \sigma\upsilon\nu\beta)}{2} \leq \sigma\upsilon\nu\left(\frac{\alpha + \beta}{2}\right)$,

για οποιαδήποτε $\alpha, \beta \in \left[-\frac{\pi}{2}, \frac{\pi}{2} \right]$

5. Να αποδείξετε ότι σε κάθε τρίγωνο ΑΒΓ ισχύει:

i) $\eta\mu A + \eta\mu(B - \Gamma) = 2\eta\mu B \sigma\upsilon\nu\Gamma$

ii) $\sigma\upsilon\nu(B - \Gamma) - \sigma\upsilon\nu A = 2\sigma\upsilon\nu B \sigma\upsilon\nu\Gamma$

iv) $\sigma\upsilon\nu A + \sigma\upsilon\nu B + \sigma\upsilon\nu\Gamma =$

$$= 1 + 4\eta\mu\frac{A}{2} \eta\mu\frac{B}{2} \eta\mu\frac{\Gamma}{2}$$

6. Να αποδείξετε ότι για τις οξείες γωνίες Β, Γ ενός ορθογωνίου τριγώνου ΑΒΓ ισχύει:

$$2\sqrt{2}\sigma\upsilon\nu\frac{B}{2} \sigma\upsilon\nu\frac{\Gamma}{2} - 1 =$$

$$= \sqrt{2}\sigma\upsilon\nu\frac{B - \Gamma}{2}$$

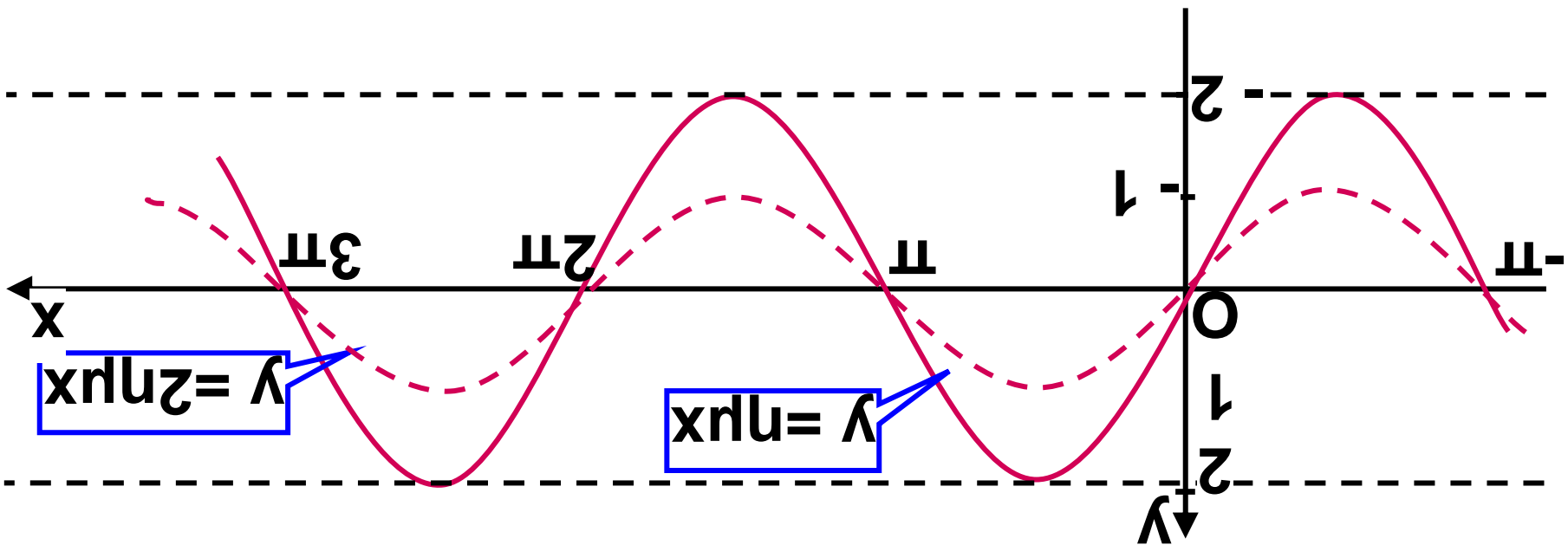
7. Αν για τις γωνίες A, B, Γ ενός τριγώνου $AB\Gamma$ ισχύει $\eta\mu A = \sigma\upsilon\nu B + \sigma\upsilon\nu \Gamma$, να αποδείξετε ότι $B=90^\circ$ ή $\Gamma = 90^\circ$ και αντιστρόφως.

1.6 Η συνάρτηση

$$f(x) = \alpha\eta\mu x + \beta\sigma\upsilon\nu x$$

Στην προηγούμενη τάξη είδαμε ότι μια συνάρτηση της μορφής $f(x) = \rho\eta\mu x$, $\rho > 0$ είναι περιοδική με περίοδο 2π και έχει μέγιστο ίσο με ρ και ελάχιστο ίσο με $-\rho$. Η γραφική της παράσταση είναι μια ημιτονοειδής καμπύλη.

Μια τέτοια συνάρτηση είναι, π.χ., και η $f(x) = 2\eta\mu x$, της οποίας η γραφική παράσταση φαίνεται στο παρακάτω σχήμα:



Η συνάρτηση $f(x) = \rho\eta\mu(x+\varphi)$

Έστω για παράδειγμα η συνάρτηση

$$f(x) = 2\eta\mu\left(x + \frac{\pi}{4}\right). \text{ Παρατηρούμε ότι}$$

η συνάρτηση αυτή προκύπτει από την $g(x) = 2\eta\mu x$ αν, όπου x , θέσουμε

$$x + \frac{\pi}{4}, \text{ δηλαδή ισχύει}$$

$$f(x) = g\left(x + \frac{\pi}{4}\right)$$

Αυτό σημαίνει ότι η γραφική παράσταση της f προκύπτει από μια οριζόντια μετατόπιση της γραφικής παράστασης της f κατά $\frac{\pi}{4}$ μονάδες, προς τα αριστερά.

Όμως η συνάρτηση $g(x) = 2\eta\mu x$ έχει περίοδο 2π , μέγιστο ίσο με 2 και ελάχιστο ίσο με -2 .

Επομένως η συνάρτηση f είναι περιοδική με περίοδο 2π και έχει

μέγιστο ίσο με 2 και ελάχιστο ίσο με -2.

Ο σταθερός αριθμός $\frac{\pi}{4}$ λέγεται

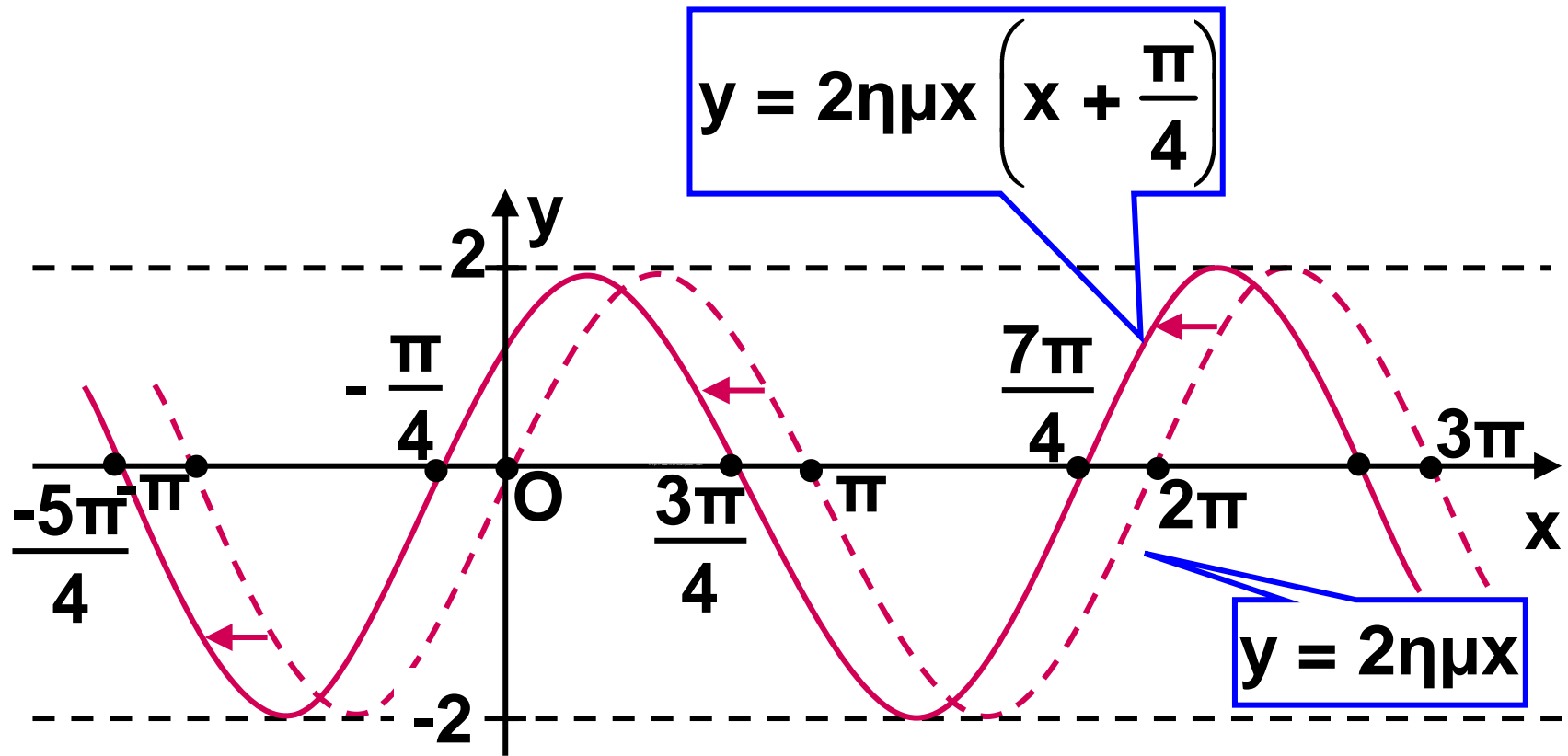
διαφορά φάσεως των καμπυλών

$$y = 2\eta\mu x \left(x + \frac{\pi}{4} \right) \text{ και } y = 2\eta\mu x.$$

Οι καμπύλες αυτές φαίνονται στο παρακάτω σχήμα:

Γενικότερα, η γραφική παράσταση της συνάρτησης $f(x) = \rho\eta\mu(x+\varphi)$, $\rho > 0$ προκύπτει από μια οριζόντια μετατόπιση της γραφικής παράστασης της συνάρτησης $g(x) = \rho\eta\mu x$. Επομένως:

Η συνάρτηση $f(x) = \rho\eta\mu(x + \varphi)$ είναι περιοδική με περίοδο 2π και έχει μέγιστο ίσο με ρ και ελάχιστο ίσο με $-\rho$.



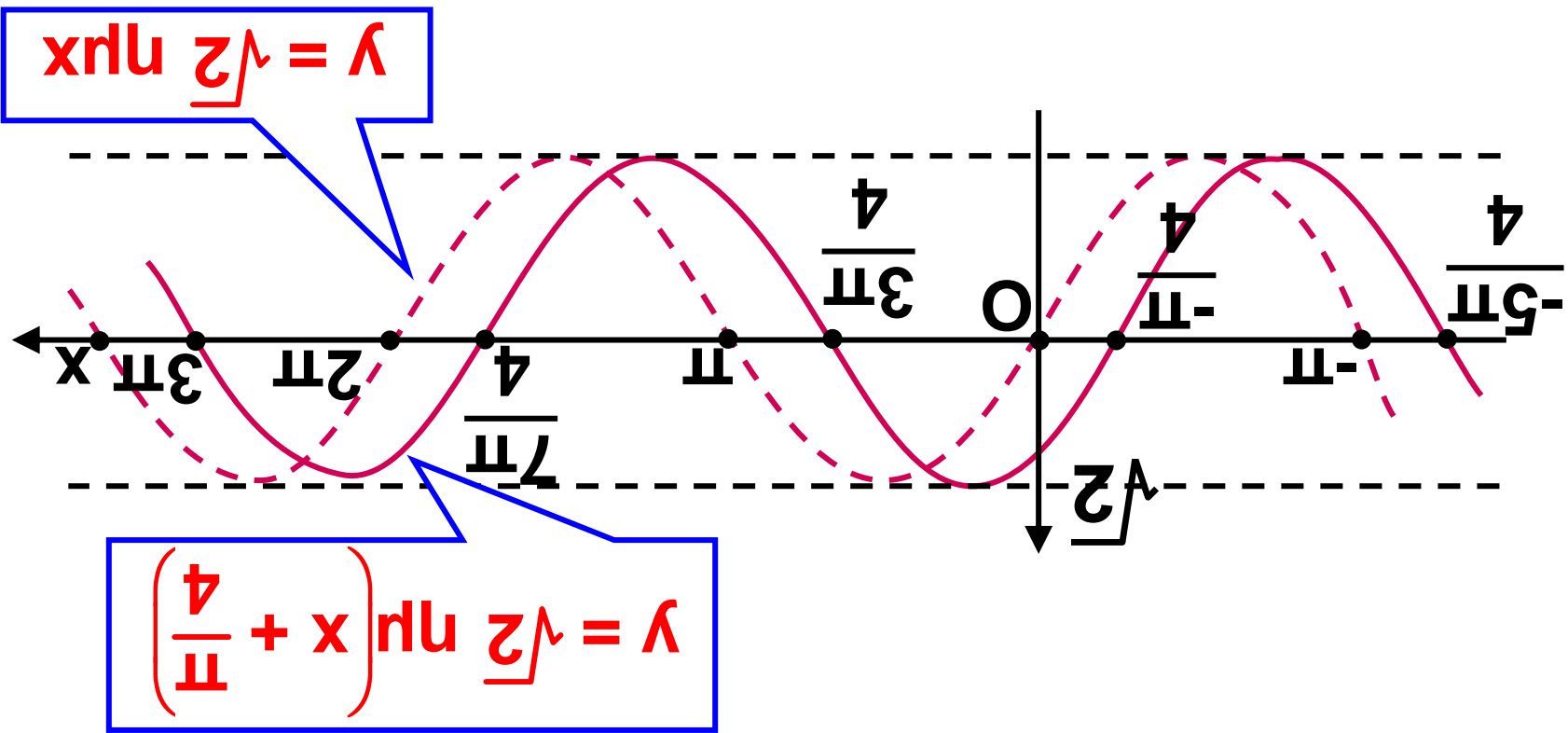
Η συνάρτηση $f(x) = \alpha \eta\mu x + \beta \sigma\upsilon\nu x$,
 $\alpha, \beta \neq 0$

Έστω για παράδειγμα η συνάρτηση $f(x) = \eta\mu x + \sigma\upsilon\nu x$. Για να τη μελετήσουμε θα προσπαθήσουμε να τη μετατρέψουμε σε άλλη συνάρτηση γνωστής μορφής. Έχουμε:

$$\begin{aligned} \eta\mu x + \sigma\upsilon\nu x &= \eta\mu x + \varepsilon\varphi\frac{\pi}{4} \sigma\upsilon\nu x = \\ &= \eta\mu x + \frac{\eta\mu\frac{\pi}{4}}{\sigma\upsilon\nu\frac{\pi}{4}} \sigma\upsilon\nu x = \\ &= \frac{\eta\mu x \sigma\upsilon\nu\frac{\pi}{4} + \sigma\upsilon\nu x \eta\mu\frac{\pi}{4}}{\sigma\upsilon\nu\frac{\pi}{4}} = \\ &= \eta\mu x + \frac{\eta\mu\left(x + \frac{\pi}{4}\right)}{\frac{\sqrt{2}}{2}} = \sqrt{2}\eta\mu\left(x + \frac{\pi}{4}\right) \end{aligned}$$

$$\text{Επομένως } f(x) = \sqrt{2} \eta\mu x \left(x + \frac{\pi}{4} \right)$$

Αυτό σημαίνει ότι η συνάρτηση f είναι περιοδική με περίοδο 2π και έχει μέγιστο ίσο με $\sqrt{2}$ και ελάχιστο ίσο με $-\sqrt{2}$. Η γραφική παράσταση της f προκύπτει από μια οριζόντια μετατόπιση της γραφικής παράστασης της συνάρτησης $g(x) = \sqrt{2}\eta\mu x$ κατά $\frac{\pi}{4}$ μονάδες προς τα αριστερά, όπως φαίνεται στο παρακάτω σχήμα:



Γενικότερα θα αποδείξουμε ότι:

ΘΕΩΡΗΜΑ Αν $\alpha, \beta \neq 0$, τότε για κάθε $x \in \mathbb{R}$ ισχύει:

$$\alpha \eta \mu x + \beta \sigma \upsilon \nu x = \rho \eta \mu (x + \varphi)$$

$$\text{όπου } \rho = \sqrt{\alpha^2 + \beta^2}$$

και $\varphi \in \mathbb{R}$ με

$$\left\{ \begin{array}{l} \sigma \upsilon \nu \varphi = \frac{\alpha}{\rho} \\ \eta \mu \varphi = \frac{\beta}{\rho} \end{array} \right.$$

Έστω το σημείο $M(\alpha, \beta)$ και φ μια από τις γωνίες με αρχική πλευρά Ox και τελική πλευρά OM . Τότε έχουμε:

$$\rho = (OM) = \sqrt{\alpha^2 + \beta^2}$$

$$\text{και } \left\{ \begin{array}{l} \sigma \upsilon \nu \varphi = \frac{\alpha}{\rho} \quad \text{ή} \quad \alpha = \rho \sigma \upsilon \nu \varphi \\ \eta \mu \varphi = \frac{\beta}{\rho} \quad \text{ή} \quad \beta = \rho \eta \mu \varphi \end{array} \right.$$

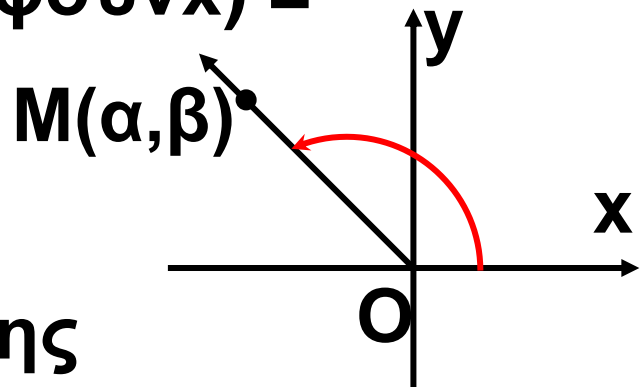
Επομένως

$$αημχ + βσυνχ =$$

$$= ρσυνφημχ + ρημφσυνχ =$$

$$= ρ(συνφημχ + ημφσυνχ) =$$

$$= ρημ(χ + φ)$$



Η μελέτη λοιπόν της συνάρτησης $φ(χ) = αημχ + βσυνχ$, $α, β \neq 0$ μπορεί να γίνει με τη μελέτη της συνάρτησης $f(χ) = ρημ(χ + φ)$.

ΠΑΡΑΔΕΙΓΜΑΤΑ

1ο i) Να παρασταθεί γραφικά

η συνάρτηση $f(x) = ημ2x \left(2x - \frac{\pi}{3} \right)$

ii) Ομοίως η συνάρτηση

$$f(x) = ημ2x - \sqrt{3} σιν2x .$$

ΛΥΣΗ

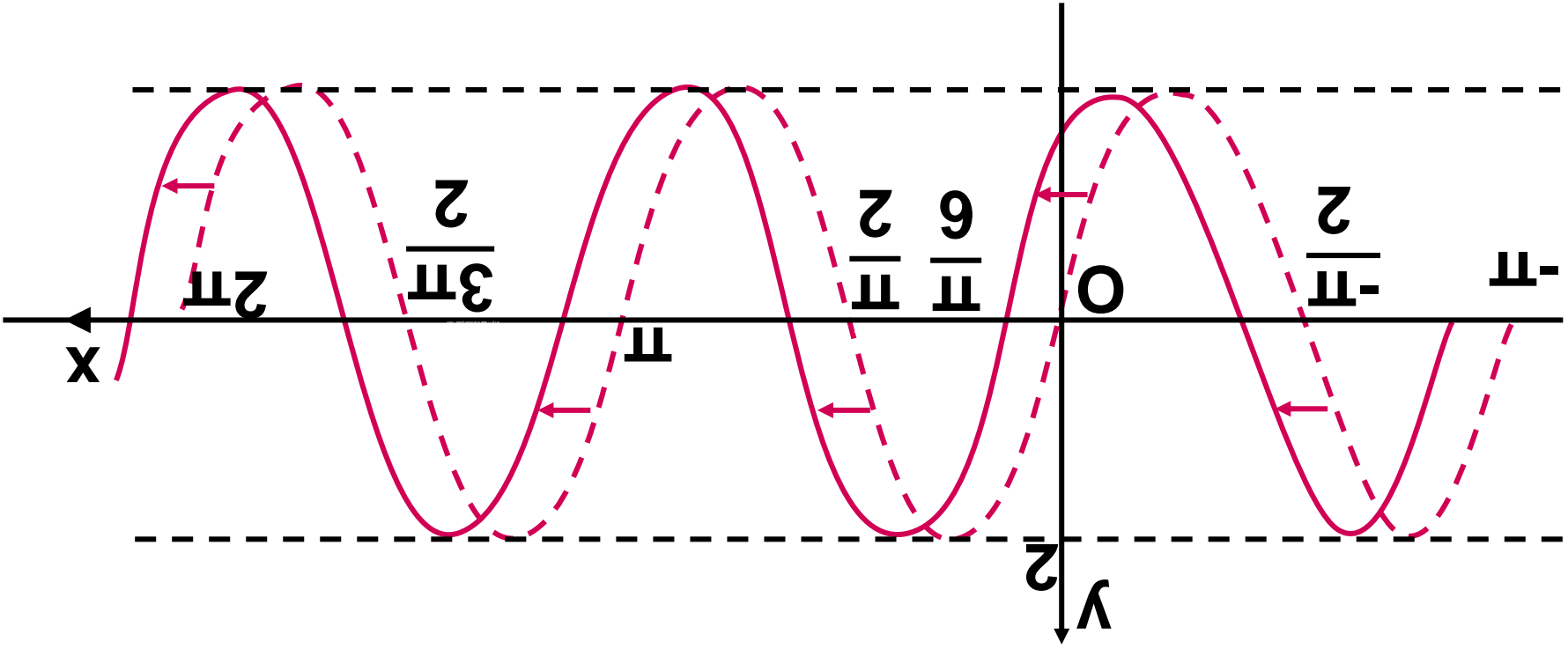
i) Η συνάρτηση f γράφεται

$f(x) = 2\eta\mu\left(2x - \frac{\pi}{3}\right)$. Παρατηρούμε ότι η συνάρτηση αυτή προκύπτει από τη συνάρτηση $g(x) = 2\eta\mu 2x$ αν, όπου x , θέσουμε $x - \frac{\pi}{6}$.

Αυτό σημαίνει ότι η γραφική παράσταση της f προκύπτει από μία οριζόντια μετατόπιση της γραφικής παράστασης της g κατά $\frac{\pi}{6}$ μονάδες προς τα δεξιά.

Όμως η συνάρτηση $g(x) = 2\eta\mu 2x$ έχει περίοδο $\frac{2\pi}{2} = \pi$, μέγιστο 2 και ελάχιστο -2.

Άρα και η f είναι περιοδική με περίοδο π , μέγιστο 2 και ελάχιστο -2.



Οι γραφικές παραστάσεις των f και g φαίνονται στο παρακάτω σχήμα.

ii) Η παράσταση $\eta\mu 2x - \sqrt{3}\sigma\upsilon\nu 2x$ είναι της μορφής $\alpha\eta\mu t + \beta\sigma\upsilon\nu t$ με $\alpha=1$, $\beta = -\sqrt{3}$ και όπου t το $2x$.
Επομένως παίρνει τη μορφή $\rho\eta\mu(2x+\varphi)$.

$$\text{Έχουμε } \rho = \sqrt{1^2 + (-\sqrt{3})^2} = \sqrt{4} = 2$$

$$\text{και } \begin{cases} \sigma\upsilon\nu\varphi = \frac{1}{2} \\ \eta\mu\varphi = -\frac{\sqrt{3}}{2} \end{cases}, \text{ οπότε ένα } \varphi = -\frac{\pi}{3}$$

Άρα

$$f(x) = \eta\mu 2x - \sqrt{3}\sigma\upsilon\nu 2x = 2\eta\mu\left(2x - \frac{\pi}{3}\right)$$

Τη συνάρτηση αυτή όμως τη μελετήσαμε προηγουμένως.

2ο Ναλυθεί η εξίσωση
 $\sqrt{3}\eta\mu 4x + \sigma\upsilon\nu 4x = \sqrt{2}$

ΛΥΣΗ

Το 1ο μέλος της εξίσωσης είναι της μορφής $a\eta\mu t + \beta\sigma\upsilon\nu t$ με $\alpha = \sqrt{3}$, $\beta=1$ και όπου t το $4x$. Επομένως παίρνει τη μορφή $\rho\eta\mu(4x+\varphi)$.

$$\text{Έχουμε } \rho = \sqrt{(\sqrt{3})^2 + 1^2} = \sqrt{4} = 2$$

$$\text{και } \left\{ \begin{array}{l} \sigma\upsilon\nu\varphi = \frac{\sqrt{3}}{2} \\ \eta\mu\varphi = \frac{1}{2} \end{array} \right. , \text{ οπότε ένα } \varphi = \frac{\pi}{6}$$

$$\text{Άρα } \sqrt{3}\eta\mu 4x + \sigma\upsilon\nu 4x = 2\eta\mu\left(4x + \frac{\pi}{6}\right)$$

και η εξίσωση γίνεται

$$2\eta\mu\left(4x + \frac{\pi}{6}\right) = \sqrt{2} \Leftrightarrow \eta\mu\left(4x + \frac{\pi}{6}\right) = \frac{\sqrt{2}}{2}$$
$$\Leftrightarrow \eta\mu\left(4x + \frac{\pi}{6}\right) = \eta\mu \frac{\pi}{4}$$

$$\Leftrightarrow \begin{cases} \eta\mu 4x + \frac{\pi}{6} = 2\kappa\pi + \frac{\pi}{4} \\ \text{ή} \\ 4x + \frac{\pi}{6} = 2\kappa\pi + \left(\pi - \frac{\pi}{4}\right) \end{cases}, \kappa \in \mathbb{R}$$

$$\Leftrightarrow \begin{cases} x = \kappa \frac{\pi}{2} + \frac{\pi}{48} \\ \text{ή} \\ x = \kappa \frac{\pi}{2} + \frac{7\pi}{48} \end{cases}$$

3ο Δυο ρεύματα με την ίδια κυκλική συχνότητα ω και με εντά-

σεις $I_1 = 2\eta\mu\omega t$ και

$I_2 = 2\eta\mu\left(\omega t + \frac{2\pi}{3}\right)$ διαρρέουν

έναν αγωγό. Να δειχθεί ότι το άθροισμά τους έχει την ίδια κυκλική συχνότητα.

ΛΥΣΗ

$$\begin{aligned} \text{Έχουμε } I_{o\lambda} &= I_1 + I_2 = \\ &= 2\eta\mu\omega t + 2\eta\mu\left(\omega t + \frac{2\pi}{3}\right) \\ &= 2\eta\mu\omega t + \\ &+ 2\left(\eta\mu\omega t \cos\frac{2\pi}{3} + \sigma\upsilon\nu\omega t \eta\mu\frac{2\pi}{3}\right) \\ &= 2\eta\mu\omega t + \\ &+ 2\left(-\frac{1}{2}\eta\mu\omega t + \frac{\sqrt{3}}{2}\sigma\upsilon\nu\omega t\right) \\ &= \eta\mu\omega t + \sqrt{3}\sigma\upsilon\nu\omega t \\ &= 2\eta\mu\left(\omega t + \frac{\pi}{3}\right), \end{aligned}$$

που σημαίνει ότι το $I_{o\lambda}$ έχει την ίδια κυκλική συχνότητα ω .

ΑΣΚΗΣΕΙΣ

Α' ΟΜΑΔΑΣ

1. Να βρείτε την περίοδο, τη μέγιστη τιμή και την ελάχιστη τιμή των παρακάτω συναρτήσεων και στη συνέχεια να τις παραστήσετε γραφικά:

i) $f(x) = 2\eta\mu\left(x + \frac{\pi}{3}\right)$

ii) $f(x) = \eta\mu\left(x - \frac{\pi}{3}\right)$

2. Να γράψετε στη μορφή $f(x) = \rho\eta\mu(x+\varphi)$ τις συναρτήσεις:

i) $f(x) = \sqrt{3}\eta\mu x - \sigma\upsilon\nu x$

ii) $f(x) = -\eta\mu x + \sigma\upsilon\nu x$

iii) $f(x) = -\eta\mu x - \sqrt{3}\sigma\upsilon\nu x$

iv) $f(x) = \eta\mu x - \sigma\upsilon\nu x$

3. Να μελετήσετε και να παραστήσετε γραφικά τις συναρτήσεις της άσκησης 2.

4. Να λύσετε τις εξισώσεις:

i) $\sqrt{3}\eta\mu\chi - \sigma\upsilon\eta\chi = 2$,

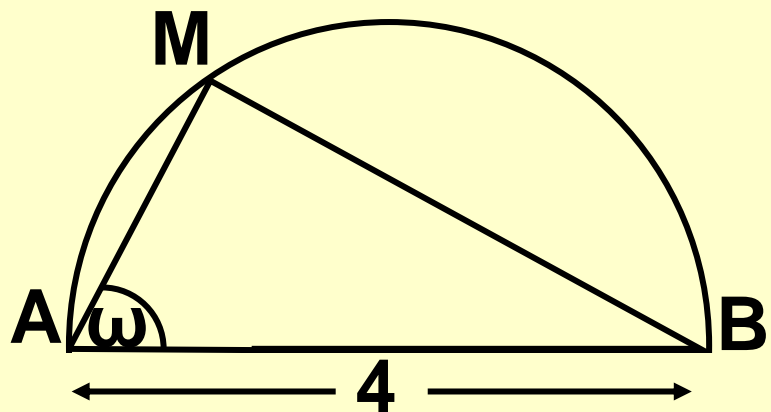
ii) $\sigma\upsilon\eta\chi - \eta\mu\chi = 1$,

iii) $\sqrt{2}\eta\mu\chi + \sqrt{6}\sigma\upsilon\eta\chi + 2 = 0$

B' ΟΜΑΔΑΣ

1. Να υπολογίσετε τη γωνία ω του παρακάτω σχήματος, έτσι ώστε να ισχύει:

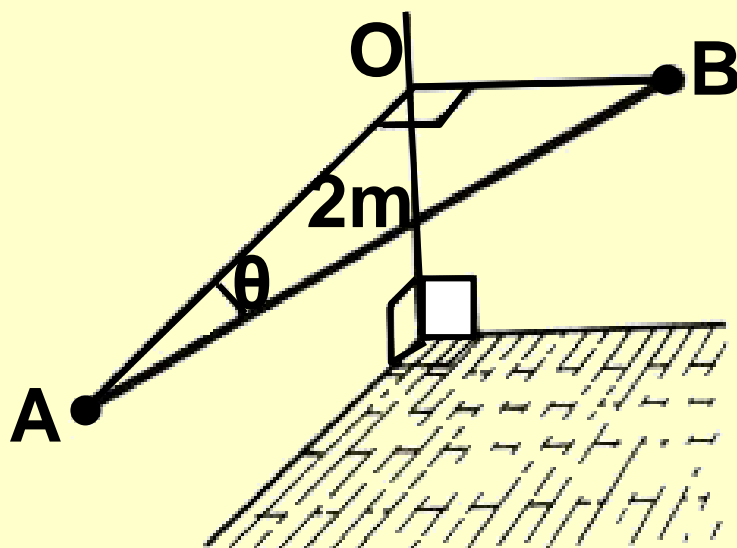
$$\begin{aligned} (MA) + (MB) &= \\ &= 2\sqrt{6}\eta\mu\chi \end{aligned}$$



2. Μια μπάρα AB μήκους 2m τοποθετείται οριζόντια μεταξύ δυο κάθετων τοίχων. Για μεγαλύτερη αντοχή πρέπει να τοποθετηθεί, έτσι ώστε το $(OA)+(OB)$ να γίνει μέγιστο.

i) Να εκφράσετε το $(OA)+(OB)$ ως συνάρτηση του θ .

ii) Να βρείτε την τιμή του θ για την οποία το $(OA)+(OB)$ γίνεται μέγιστο και να προσδιορίσετε το μέγιστο αυτό.



3. Να βρείτε τη μέγιστη και την ελάχιστη τιμή των συναρτήσεων:

i) $f(x) = 5\eta\mu x + 12\sigma\upsilon\nu x + 3,$

ii) $f(x) = 4\sigma\upsilon\nu x(\eta\mu x + \sigma\upsilon\nu x)$

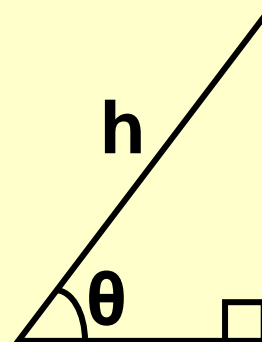
4. Να λύσετε την εξίσωση:

$$2\eta\mu\chi(\sqrt{3}\sigma\upsilon\nu - \eta\mu\chi) = \sqrt{2} - 1$$

5. Με συρματοπλέγμα μήκους 40m περιφράσσουμε τμήμα γης σχήματος ορθογωνίου τριγώνου. Αν η υποτείνουσα είναι h m και η μια οξεία γωνία θ rad (Σχήμα)

i) Να αποδείξετε ότι:

$$h = \frac{40}{\eta\mu\theta + \sigma\upsilon\nu\theta + 1}$$

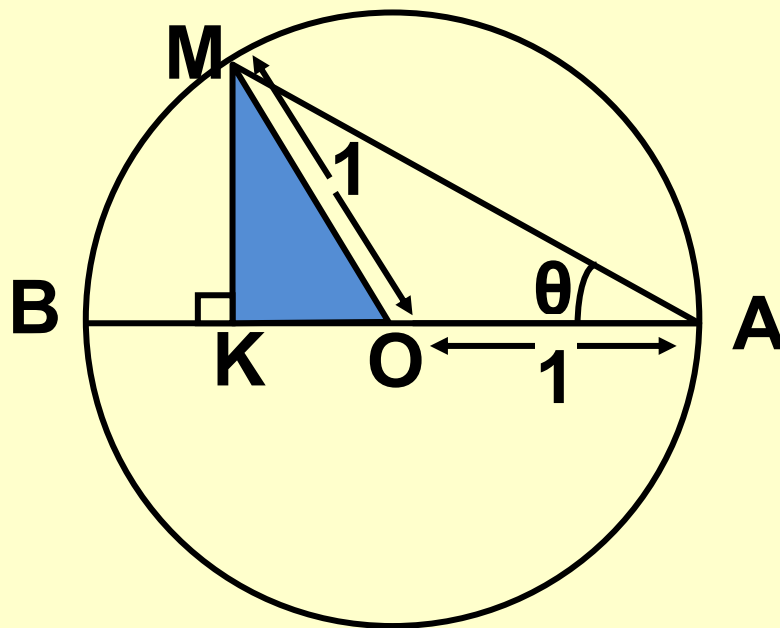


ii) Για ποια τιμή του θ το h παίρνει τη μικρότερη τιμή και ποια είναι αυτή;

6. Στο παρακάτω σχήμα:

i) Να δείξετε ότι η περίμετρος P του τριγώνου MKO ισούται με $P = 1 + \eta\mu 2\theta + \sigma\upsilon\nu 2\theta$.

ii) Για ποια τιμή του θ το P παίρνει τη μεγαλύτερη τιμή και ποια είναι αυτή;



1.7 Επίλυση τριγώνου

Το κλασικό πρόβλημα της Τριγωνομετρίας, από το οποίο πήρε και το όνομα της, είναι η επίλυση τριγώνου, δηλαδή ο υπολογισμός των άγνωστων κύριων στοιχείων

ενός τριγώνου, όταν δίνονται επαρκή στοιχεία του.

Η επίλυση τριγώνου μπορεί να γίνει με τη βοήθεια των παρακάτω δυο βασικών θεωρημάτων, που είναι γνωστά το ένα ως νόμος των ημίτονων και το άλλο ως νόμος των συνημίτονων.

Νόμος των ημίτονων

ΘΕΩΡΗΜΑ Σε κάθε τρίγωνο ΑΒΓ ισχύει:

$$\frac{\alpha}{\eta\mu A} = \frac{\beta}{\eta\mu B} = \frac{\gamma}{\eta\mu \Gamma} = 2R$$

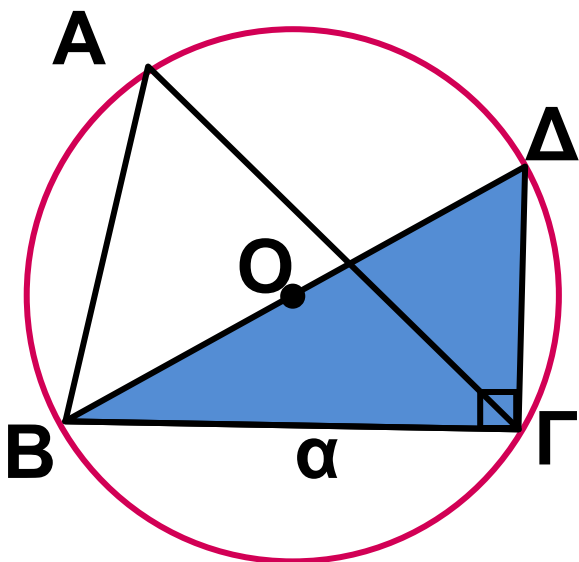
όπου R, η ακτίνα του περιγεγραμμένου κύκλου του τριγώνου.

ΑΠΟΔΕΙΞΗ

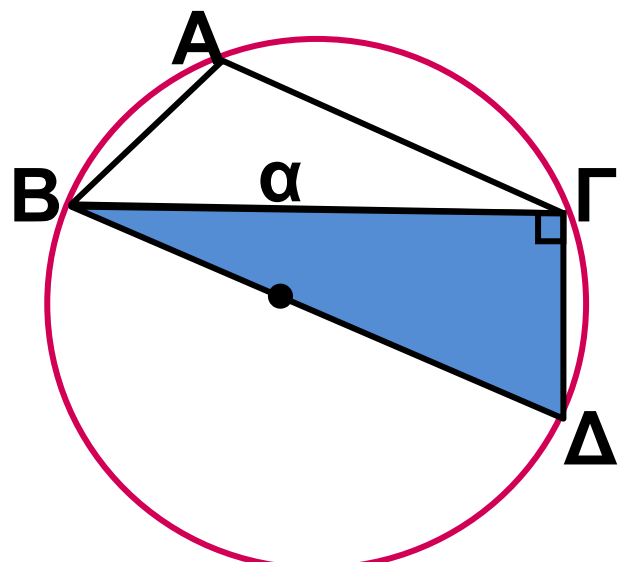
Έστω (Ο,Κ.) ο περιγεγραμμένος κύκλος του τριγώνου ΑΒΓ.

Αν φέρουμε τη διάμετρο ΒΔ και τη χορδή ΓΔ, τότε σχηματίζεται τρίγωνο ΓΒΔ που είναι ορθογώνιο στο Γ. Επομένως έχουμε:

$$\eta\mu\Delta = \frac{(B\Gamma)}{(B\Delta)} = \frac{\alpha}{2R}, \text{ οπότε } \frac{\alpha}{\eta\mu\Delta} = 2R \quad (1)$$



Σχήμα 1



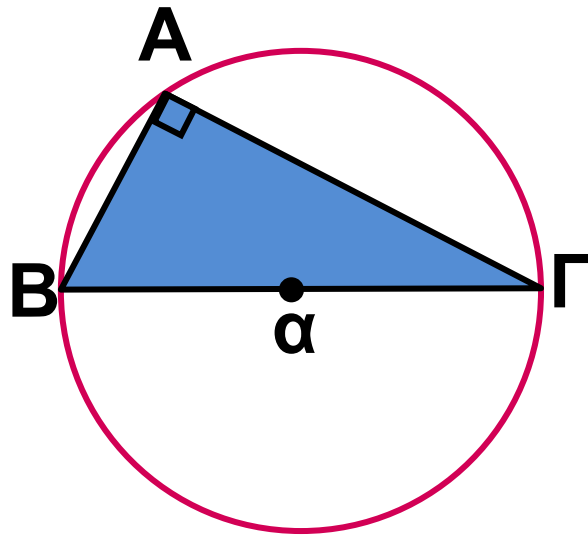
Σχήμα 2

Είναι όμως $\Delta = A$ (Σχ. 1) ή $\Delta + A = 180^\circ$ (Σχ. 2), οπότε $\eta\mu\Delta = \eta\mu A$. Επομένως η (1) γράφεται

$$\frac{\alpha}{\eta\mu A} = 2R$$

Αν $A = 90^\circ$, τότε έχουμε: $\eta\mu A = 1$
 και $\alpha = 2R$. (Σχ. 3). Επομένως και
 στην περίπτωση αυτή ισχύει
 ισότητα

$$\frac{\alpha}{\eta\mu A} = 2R$$



Σχ.(3)

Ομοίως αποδεικνύεται ότι: βB

$$\frac{\beta}{\eta\mu B} = 2R \quad \text{και} \quad \frac{\gamma}{\eta\mu \Gamma} = 2R$$

$$\text{Επομένως: } \frac{\alpha}{\eta\mu A} = \frac{\beta}{\eta\mu B} = \frac{\gamma}{\eta\mu \Gamma}$$

Σχόλιο. Με το νόμο των ημίτονων
 μπορούμε εύκολα να επιλύσουμε
 ένα τρίγωνο, όταν δίνονται:

- i) Μια πλευρά και δυο γωνίες του ή
ii) Δυο πλευρές και μια από τις μη
περιεχόμενες γωνίες του.

ΠΑΡΑΔΕΙΓΜΑΤΑ – ΕΦΑΡΜΟΓΕΣ

1ο Να επιλυθεί το τρίγωνο ΑΒΓ με
 $a = 15$, $A = 43^\circ$ και $B = 82^\circ$

ΛΥΣΗ

Επειδή $A+B+\Gamma = 180^\circ$, έχουμε:

$$\Gamma = 180^\circ - A - B = 180^\circ - 43^\circ - 82^\circ = 55^\circ$$

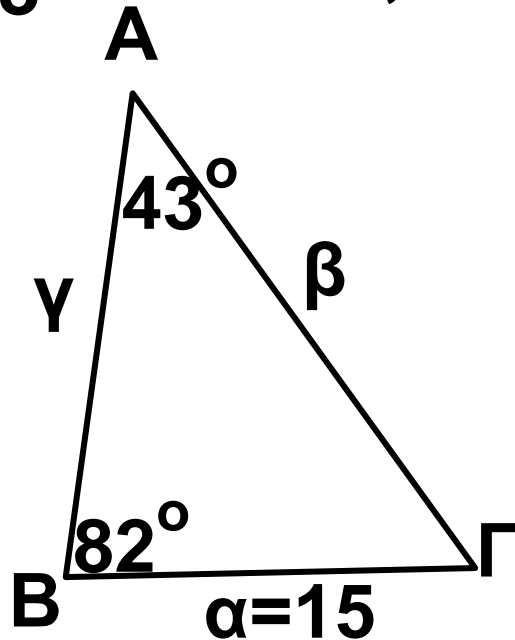
Έτσι, σύμφωνα με το νόμο των ημίτονων έχουμε:

$$\frac{15}{\eta\mu 43^\circ} = \frac{\beta}{\eta\mu 82^\circ} = \frac{\gamma}{\eta\mu 55^\circ}$$

οπότε:

$$\beta = \frac{15 \cdot \eta\mu 82^\circ}{\eta\mu 43^\circ} \approx \frac{15 \cdot 0,9903}{0,6820} \approx 22$$

$$\gamma = \frac{15 \cdot \eta\mu 55^\circ}{\eta\mu 43^\circ} \approx \frac{15 \cdot 0,8192}{0,6820} \approx 18$$



2ο Να επιλυθεί το τρίγωνο ΑΒΓ με $\alpha = 23$, $\beta = 31$ και $B = 35^\circ$

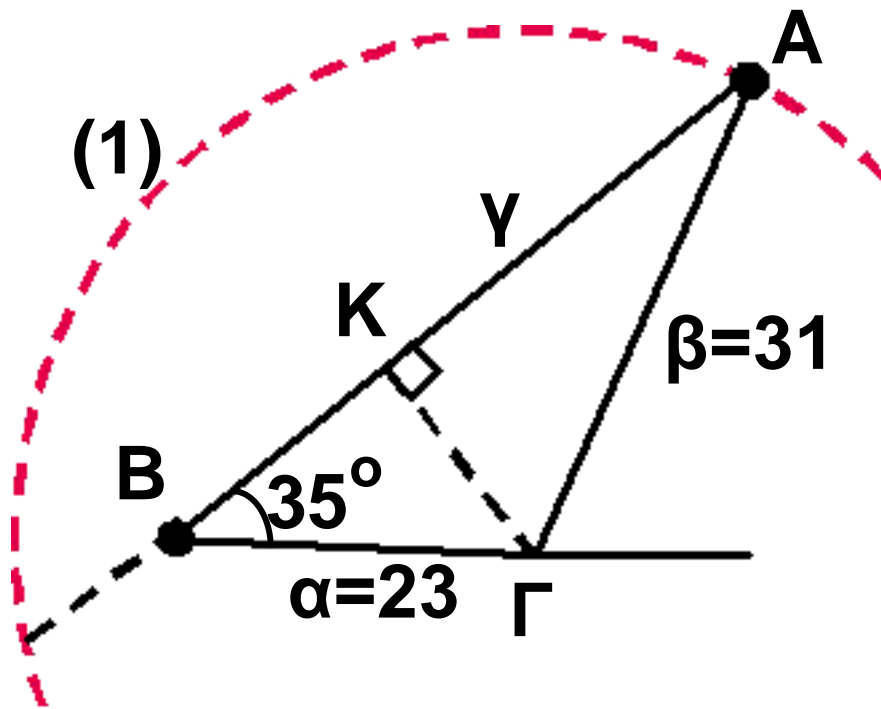
ΛΥΣΗ

Έτσι, σύμφωνα με το νόμο των ημίτονων έχουμε:

$$\frac{23}{\eta\mu A} = \frac{31}{\eta\mu 35^\circ} = \frac{\gamma}{\eta\mu \Gamma}$$

ΟΠΟΤΕ

$$\eta\mu A = \frac{23 \cdot \eta\mu 35^\circ}{31} \approx \frac{23 \cdot 0,5736}{31} \approx 0,4255$$



Άρα

$$A \approx 25^\circ \quad \text{ή} \quad A \approx 155^\circ$$

Επειδή όμως $\alpha < \beta$, θα είναι και $A < B$. Επομένως από τις παραπάνω τιμές της A δεκτή είναι μόνο η $A \approx 25^\circ$.

Έτσι έχουμε

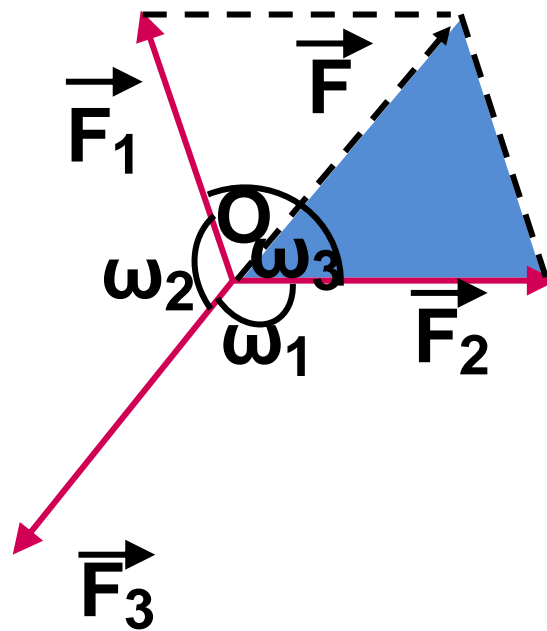
$$\Gamma = 180^\circ - A - B \approx 180^\circ - 25^\circ - 35^\circ = 120^\circ$$

οπότε, λόγω της (1), ισχύει

$$\frac{31}{\eta\mu 35^\circ} = \frac{\gamma}{\eta\mu 120^\circ} \Leftrightarrow \gamma = \frac{31 \cdot \eta\mu 120^\circ}{\eta\mu 35^\circ} \approx$$
$$\approx \frac{31 \cdot 0,8660}{0,5736}$$

3ο Σε ένα υλικό σημείο O εφαρμόζονται τρεις δυνάμεις που έχουν μέτρα F_1 , F_2 και F_3 αντιστοίχως και σχηματίζουν ανά δυο γωνίες (ω_1 , ω_2 και ω_3 , όπως φαίνεται στο παρακάτω σχήμα. Αν το υλικό σημείο ισορροπεί, να αποδειχθεί ότι:

$$\frac{F_1}{\eta\mu\omega_1} = \frac{F_2}{\eta\mu\omega_2} = \frac{F_3}{\eta\mu\omega_3}$$



ΑΠΟΔΕΙΞΗ

Επειδή το σημείο O ισορροπεί, η συνισταμένη \vec{F} των \vec{F}_1 και \vec{F}_2 θα έχει ίδια διεύθυνση, αντίθετη φορά και ίδιο μέτρο με την \vec{F}_3 . Επομένως από το νόμο των ημίτονων στο τρίγωνο $OBΓ$ έχουμε:

$$\frac{(\text{ΒΓ})}{\widehat{\eta\mu\text{ΒΟΓ}}} = \frac{(\text{ΟΒ})}{\widehat{\eta\mu\text{ΒΓΟ}}} = \frac{(\text{ΟΓ})}{\widehat{\eta\mu\text{ΟΒΓ}}}$$

$$\frac{F_1}{\eta\mu\omega_1} = \frac{F_2}{\eta\mu\omega_2} = \frac{F_3}{\eta\mu\omega_3}$$

αφού $\text{ΒΟΓ} = 180^\circ - \omega_1$,

$\widehat{\text{ΒΓΟ}} = 180^\circ - \omega_2$ και $\widehat{\text{ΟΒΓ}} = 180^\circ - \omega_3$.

Νόμος των συνημίτονων

Όταν είναι γνωστές οι τρεις πλευρές ενός τριγώνου ή οι δυο πλευρές και η περιεχόμενη γωνία τους δεν μπορούμε εύκολα με μόνο το νόμο των ημίτονων να υπολογίσουμε τα άλλα στοιχεία του. Στην περίπτωση αυτή χρησιμοποιούμε το παρακάτω θεώρημα που είναι

**γνωστό ως νόμος των
συνημίτονων.**

ΘΕΩΡΗΜΑ Σε κάθε τρίγωνο ΑΒΓ

ισχύει:

$$\alpha^2 = \beta^2 + \gamma^2 - 2\beta\gamma \sin A$$

$$\beta^2 = \gamma^2 + \alpha^2 - 2\gamma\alpha \sin B$$

$$\gamma^2 = \alpha^2 + \beta^2 - 2\alpha\beta \sin \Gamma$$

ΑΠΟΔΕΙΞΗ *

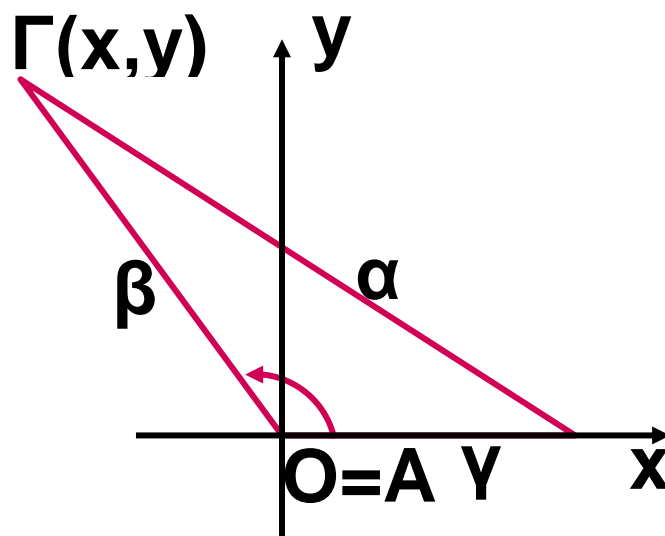
Θα αποδείξουμε μόνο την πρώτη ισότητα. Με όμοιο τρόπο αποδεικνύονται και οι υπόλοιπες ισότητες.

Στο επίπεδο του τριγώνου θεωρούμε ένα σύστημα συντεταγμένων με αρχή το Α και θετικό ημιάξονα των x την ημιευθεία ΑΒ. Έτσι οι συντεταγμένες του Β θα είναι (γ, 0), ενώ για τις συντεταγμένες (x, γ) του Γ θα ισχύει

$$\sigma\upsilon\nu A = \frac{x}{\beta} \text{ και } \eta\mu A = \frac{y}{\beta}$$

ή ισοδύναμα

$$x = \beta \sigma\upsilon\nu A \text{ και } y = \beta \eta\mu A \quad (1)$$



Αν χρησιμοποιήσουμε τώρα τον τύπο της απόστασης για τα σημεία $B(\gamma, 0)$ και $\Gamma(x, y)$, βρίσκουμε ότι:

$$\alpha = (B\Gamma) = \sqrt{(x - \gamma)^2 + (y - 0)^2}$$

οπότε, λόγω της (1), έχουμε:

$$\begin{aligned}
\alpha^2 &= (x-\gamma)^2 + y^2 = \\
&= (\beta\sigma\upsilon\nu A - \gamma)^2 + (\beta\eta\mu A)^2 \\
&= \beta^2\sigma\upsilon\nu^2 A + \gamma^2 - 2\beta\gamma\sigma\upsilon\nu A + \\
&\quad + \beta^2\eta\mu^2 A \\
&= \beta^2(\sigma\upsilon\nu^2 A + \eta\mu^2 A) + \gamma^2 - \\
&\quad - 2\beta\gamma\sigma\upsilon\nu A \\
&= \beta^2 + \gamma^2 - 2\beta\gamma\sigma\upsilon\nu A.
\end{aligned}$$

Σχόλιο. Είναι φανερό ότι με το νόμο των συνημίτονων μπορούμε άμεσα να υπολογίσουμε μια οποιαδήποτε πλευρά ενός τριγώνου, αρκεί να δοθούν οι άλλες δύο και η περιεχόμενη τους γωνία. Με τον ίδιο νόμο μπορούμε επιπλέον να υπολογίσουμε και τις γωνίες ενός τριγώνου, του οποίου είναι γνωστές και οι τρεις πλευρές, αφού οι παραπάνω ισότητες γράφονται:

$$\sigma\upsilon\nu A = \frac{\beta^2 + \gamma^2 - \alpha^2}{2\beta\gamma}$$

$$\sigma\upsilon\nu\text{B} = \frac{\gamma^2 + \alpha^2 - \beta^2}{2\gamma\alpha}$$

$$\sigma\upsilon\nu\text{Γ} = \frac{\alpha^2 + \beta^2 - \gamma^2}{2\alpha\beta}$$

ΠΑΡΑΔΕΙΓΜΑΤΑ – ΕΦΑΡΜΟΓΕΣ

1ο Να επιλυθεί το τρίγωνο ΑΒΓ με $\alpha = 35$, $\beta = 20$ και $\gamma = 42$

ΛΥΣΗ

Από το νόμο των συνημίτονων έχουμε:

$$\bullet 35^2 = 20^2 + 42^2 - 2 \cdot 20 \cdot 42 \sigma\upsilon\nu\text{A},$$

$$\text{ΟΠΟΤΕ } \sigma\upsilon\nu\text{A} = \frac{20^2 + 42^2 - 35^2}{2 \cdot 20 \cdot 42} \simeq$$

$$\simeq 0,5589 \quad \text{Άρα } A \simeq 56^\circ$$

$$\bullet 20^2 = 35^2 + 42^2 - 2 \cdot 35 \cdot 42 \sigma\upsilon\nu\text{B},$$

$$\text{οπότε } \cos B = \frac{35^2 + 42^2 - 20^2}{2 \cdot 35 \cdot 42} \approx$$

$$\approx 0,8806 \quad \text{Άρα } B \approx 28^\circ$$

$$\text{Άρα } \Gamma \approx 96^\circ$$

2ο Να επιλυθεί το τρίγωνο ΑΒΓ με $\beta = 20$, $\gamma = 42$ και $A = 56^\circ$

ΛΥΣΗ

Από το νόμο των συνημίτονων έχουμε

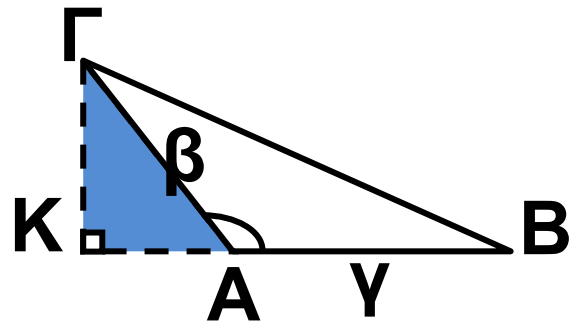
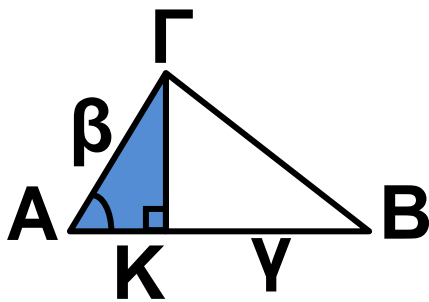
$$a^2 = 20^2 + 42^2 - 2 \cdot 20 \cdot 42 \cos 56^\circ \approx 1225,$$

οπότε $a \approx 35$.

Έτσι γνωρίζουμε και τις τρεις πλευρές του τριγώνου, οπότε αναγώμαστε στο προηγούμενο πρόβλημα.

3ο Να αποδειχθεί ότι το εμβαδό E ενός τριγώνου $ΑΒΓ$ δίνεται από τον τύπο: $E = \frac{1}{2}\beta\gamma\eta\mu A$

ΑΠΟΔΕΙΞΗ



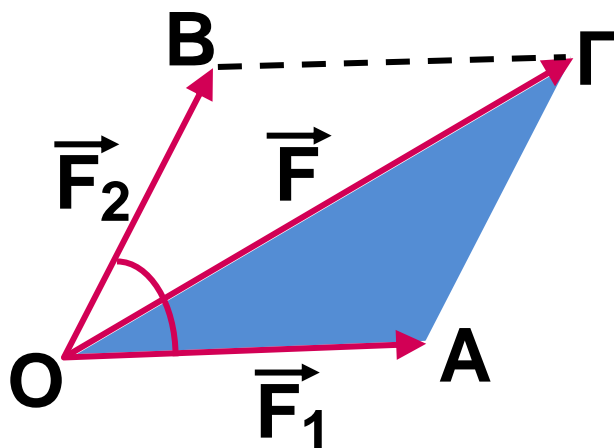
Αν φέρουμε το ύψος $ΓΚ$ του τριγώνου, έχουμε:

$$\begin{aligned} E &= \frac{1}{2} (ΑΒ) \cdot (ΓΚ) = \\ &= \frac{1}{2} (ΑΒ) \cdot (ΑΓ) \cdot \eta\mu A \\ &= \frac{1}{2} \gamma \cdot \beta \cdot \eta\mu A \end{aligned}$$

Ο παραπάνω τύπος ισχύει προφανώς και στην περίπτωση που $A = 90^\circ$.

4ο Σε ένα υλικό σημείο O εφαρμόζονται δυο δυνάμεις που έχουν μέτρα F_1 και F_2 αντίστοιχα και σχηματίζουν γωνία ω . Να αποδειχθεί ότι το μέτρο F της συνισταμένης τους δίνεται από τον τύπο:

$$F^2 = F_1^2 + F_2^2 + 2F_1 F_2 \cos\omega$$



ΑΠΟΔΕΙΞΗ

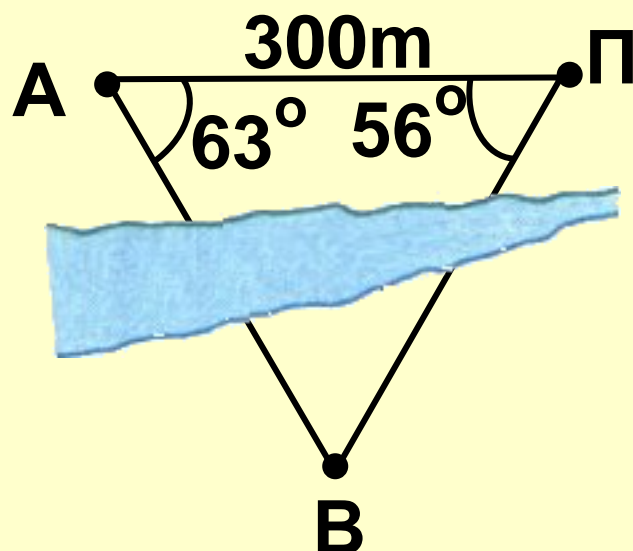
Επειδή $(OA) = F_1$, $(AG) = F_2$ και $(OG) = F$, στο τρίγωνο OAG έχουμε:

$$\begin{aligned} F^2 &= (OG)^2 = \\ &= (OA)^2 + (AG)^2 - 2(OA)(AG)\cos A = \\ &= F_1^2 + F_2^2 - 2F_1 \cdot F_2 \cdot \cos(180^\circ - \omega) = \\ &= F_1^2 + F_2^2 + 2F_1F_2\cos\omega \end{aligned}$$

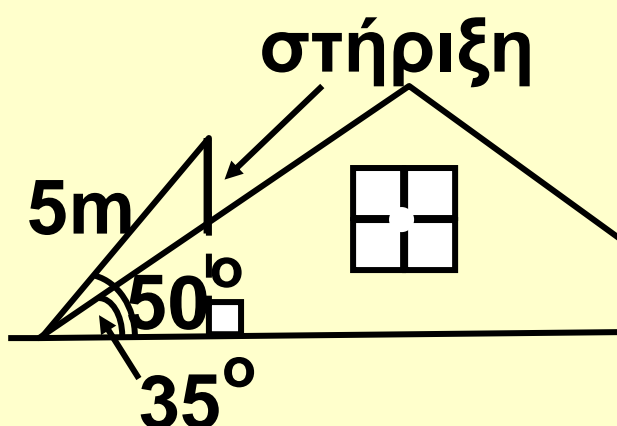
ΑΣΚΗΣΕΙΣ

Α΄ ΟΜΑΔΑΣ

1. Δυο πύργοι A και B βρίσκονται εκατέρωθεν ενός ποταμού. Ένας παρατηρητής Π βρίσκεται προς το ίδιο μέρος του ποταμού με τον πύργο A. Αν στο τρίγωνο ΠΑΒ είναι $PA = 300m$, $A = 63^\circ$ και $\Pi = 56^\circ$, να βρείτε την απόσταση των πύργων A και B.




2. Ένας συλλέκτης ηλιακής ακτινοβολίας μήκους 5 m είναι τοποθετημένος στην οροφή ενός κτιρίου, όπως δείχνει το παρακάτω σχήμα. Να υπολογίσετε το μήκος του βραχίονα με τον οποίο στηρίζεται ο συλλέκτης.



3. Στο παρακάτω σχήμα να αποδείξετε ότι:

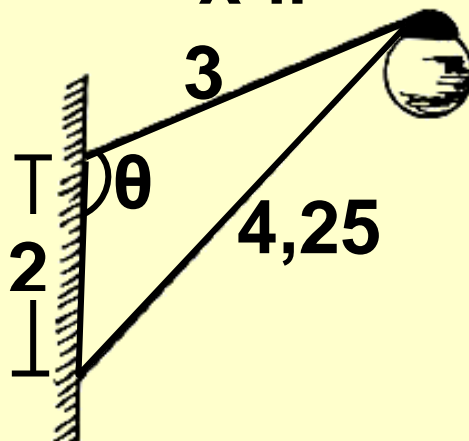
i) $\Gamma\Delta = \frac{d\eta\mu\chi}{\eta\mu(y-x)}$,

ii) $A\Gamma = \frac{d\eta\mu\chi \ \eta\mu\gamma}{\eta\mu(y-x)}$

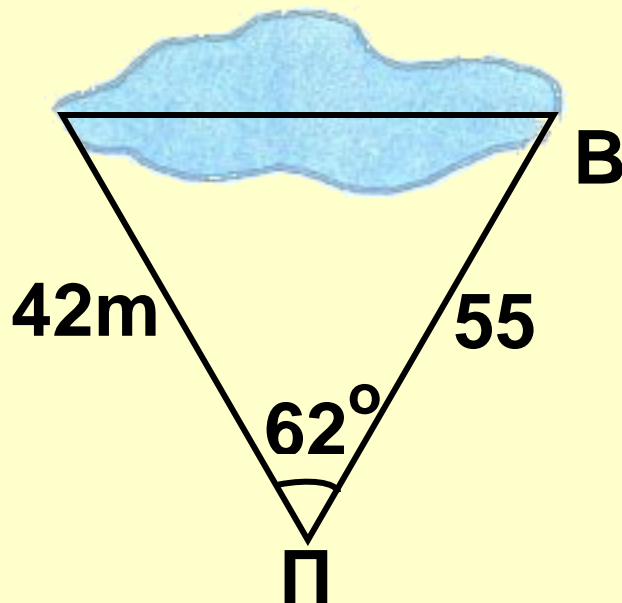


4. Να αποδείξετε ότι δεν υπάρχει τρίγωνο ABΓ με $\alpha = 30$, $\beta = 10$ και $\gamma = 31^\circ$.

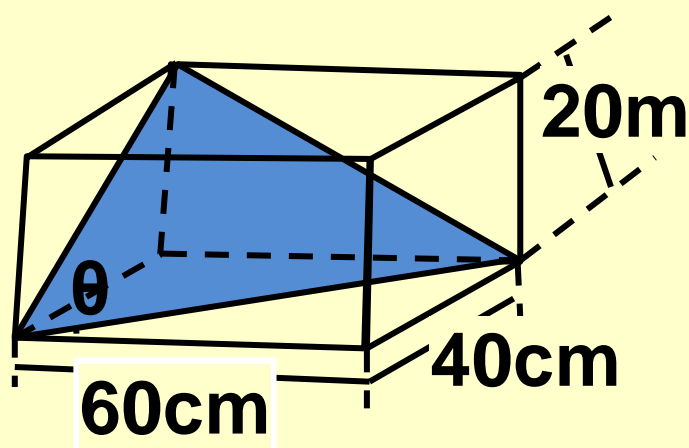
5. Να υπολογίσετε τη γωνία θ του παρακάτω σχήματος.



6. Να υπολογίσετε το μήκος του έλους του παρακάτω σχήματος.



7. Να υπολογίσετε τη γωνία θ του ορθογωνίου κουτιού του παρακάτω σχήματος:



8. Να αποδείξετε ότι σε κάθε τρίγωνο $ΑΒΓ$ ισχύει η ισότητα

$$\frac{\sigma\upsilon\nu\text{A}}{\alpha} + \frac{\sigma\upsilon\nu\text{B}}{\beta} + \frac{\sigma\upsilon\nu\text{Γ}}{\gamma} =$$
$$= \frac{\alpha^2 + \beta^2 + \gamma^2}{2\alpha\beta\gamma}$$

9. Να αποδείξετε ότι σε κάθε τρίγωνο ΑΒΓ ισχύει η ισότητα:
 $\beta\sigma\upsilon\nu\text{Γ} + \gamma\sigma\upsilon\nu\text{B} = \alpha$

10. Αν σε ένα τρίγωνο ΑΒΓ ισχύει η ισότητα $\beta\sigma\upsilon\nu\text{Γ} = \gamma\sigma\upsilon\nu\text{B}$, να αποδείξετε ότι $\beta = \gamma$ και αντιστρόφως.

11. Αν σε ένα τρίγωνο ΑΒΓ ισχύει η ισότητα $\alpha = 2\beta\sigma\upsilon\nu\text{Γ}$, να αποδείξετε ότι $\beta = \gamma$ και αντιστρόφως.

Β΄ ΟΜΑΔΑΣ

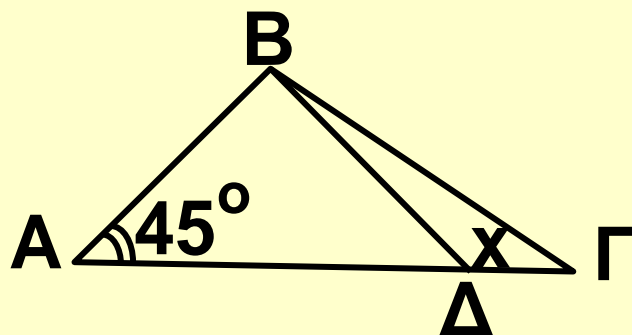
* **1.** Αν σε ένα τρίγωνο ΑΒΓ ισχύει η ισότητα $\text{B} = 2\text{A}$, να αποδείξετε ότι:

i) $\sigma\upsilon\nu\text{A} = \frac{\beta}{2\alpha}$

$$\text{ii) } \beta^2 - \alpha^2 = \alpha\gamma$$

2. Στο παρακάτω σχήμα να αποδείξετε ότι:

$$\Gamma\Delta = \alpha(\sigma\upsilon\nu\chi - \eta\mu\chi)$$



3. Αν σε ένα τρίγωνο ΑΒΓ ισχύει μια από τις ισότητες:

i) $\beta = \alpha\eta\mu\text{B}$,

ii) $\alpha\eta\mu\text{A} = \beta\eta\mu\text{B} + \gamma\eta\mu\text{Γ}$,

να αποδείξετε ότι το τρίγωνο είναι ορθογώνιο

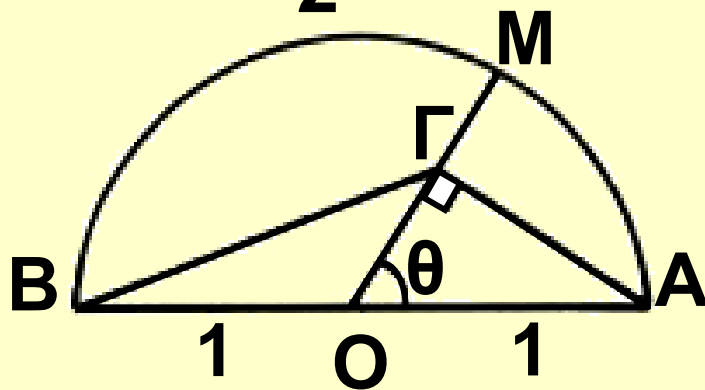
4. Αν σε ένα τρίγωνο ΑΒΓ ισχύει η ισότητα $\alpha\sigma\upsilon\nu\text{A} = \beta\sigma\upsilon\nu\text{B}$, να αποδείξετε ότι το τρίγωνο είναι ορθογώνιο ή ισοσκελές.

5. Να αποδείξετε ότι σε κάθε τρίγωνο ΑΒΓ ισχύει η ισότητα:

$$\frac{\alpha - \beta}{\alpha + \beta} = \varepsilon\varphi\frac{A - B}{2} \cdot \varepsilon\varphi\frac{\Gamma}{2}$$

6. Στο παρακάτω σχήμα να αποδείξετε ότι:

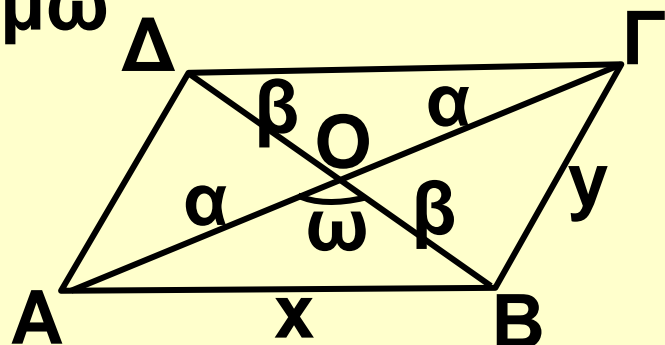
$$(B\Gamma)^2 = \frac{5 + 3\sigma\upsilon\nu 2\theta}{2}$$



6. Να αποδείξετε ότι για το παρακάτω παραλληλόγραμμο ισχύουν οι ισότητες:

i) $x^2 + y^2 = 2\alpha^2 + 2\beta^2$

ii) $(AB\Gamma\Delta) = 2\alpha\beta\eta\mu\omega$



ΓΕΝΙΚΕΣ ΑΣΚΗΣΕΙΣ (Γ' ΟΜΑΔΑΣ)

1. Σε τρίγωνο $AB\Gamma$ το ύψος του $A\Delta$ είναι ίσο με το μισό της πλευράς $B\Gamma$. Να αποδείξετε ότι ισχύει $\varepsilon\varphi B + \varepsilon\varphi\Gamma = 2\varepsilon\varphi B\varepsilon\varphi\Gamma$ και $\sigma\varphi B + \sigma\varphi\Gamma = 2$.

2. Αν για τις γωνίες ενός τριγώνου

$$AB\Gamma \text{ ισχύει } \frac{\varepsilon\varphi B}{\varepsilon\varphi\Gamma} = \frac{\eta\mu^2 B}{\eta\mu^2\Gamma},$$

να αποδείξετε ότι το τρίγωνο αυτό είναι ορθογώνιο ή ισοσκελές.

3. Να αποδείξετε ότι τα σημεία

$M(x, y)$ του επιπέδου με

$x = 1 + 2\sigma\upsilon\nu t, y = 3 + 2\eta\mu t$, βρίσκονται σε κύκλο κέντρου $K(1,3)$ και ακτίνας $\rho = 2$.

4. Να λύσετε τις εξισώσεις:

$$\text{i) } \frac{1 + \eta\mu\chi}{\sigma\upsilon\nu\chi} + \frac{\sigma\upsilon\nu\chi}{1 + \eta\mu\chi} = 4$$

$$\text{ii) } \frac{\sigma\upsilon\nu\chi \cdot \sigma\varphi\chi}{1 - \eta\mu\chi} = 3$$

5. i) Αν $0 < \chi < \frac{\pi}{2}$, να αποδείξετε ότι $\epsilon\varphi\chi + \sigma\varphi\chi \geq 2$

ii) Αν $0 < \alpha < \beta < \frac{\pi}{2}$, να αποδείξετε

ότι $\epsilon\varphi\alpha < \frac{\eta\mu\alpha \cdot \eta\mu\beta}{\sigma\upsilon\nu\alpha \cdot \sigma\upsilon\nu\beta} < \epsilon\varphi\beta$

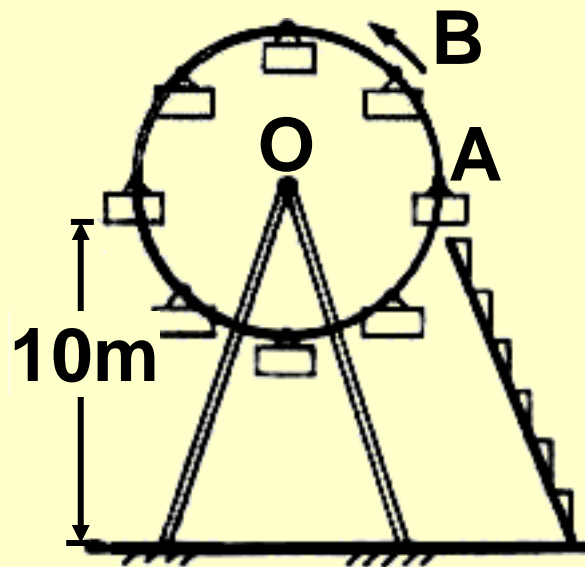
6. Να λύσετε την εξίσωση

$$2\sigma\upsilon\nu\left(\frac{\pi}{3} - 2\chi\right) = 1$$

στο διάστημα $(4\pi, 5\kappa)$.

7. Σε ένα λούνα-παρκ ο περιστρεφόμενος τροχός έχει ακτίνα 4m, το κέντρο του απέχει από το έδαφος

10m και όταν αρχίζει να κινείται εκτελεί μια πλήρη περιστροφή σε 8 δευτερόλεπτα με σταθερή ταχύτητα. Να βρείτε το ύψος του βαγονιού A από το έδαφος ύστερα από χρόνο 1sec, 2sec, 5sec και γενικότερα ύστερα από χρόνο t sec. Να λύσετε το ίδιο πρόβλημα για το βαγόνι B.



8. Να αποδείξετε ότι

i) $\sigma\varphi\chi - \epsilon\varphi\chi = 2\sigma\varphi^2\chi$

ii) $\sigma\varphi\chi - 2\epsilon\varphi^2\chi - 4\epsilon\varphi\chi - 8\epsilon\varphi\chi = \epsilon\varphi\chi$

9. Με τη βοήθεια του τύπου

$\eta\mu^3\alpha = 3\eta\mu\alpha - 4\eta\mu^3\alpha$ να λύσετε

τις εξισώσεις:

$$\text{i) } 8x^3 - 6x + \sqrt{2} = 0$$

$$\text{ii) } 8x^3 - 6x - 1 = 0$$

10. Να αποδείξετε ότι το σύνολο των σημείων $M(x,y)$, με $x = \sin\theta$ και $y = \sin^2\theta$, όπου $\theta \in (0, \pi)$, είναι το τόξο της παραβολής $y = 2x^2$, με $x \in (-1, 1)$.

11. Με τη βοήθεια των τύπων

$$\eta\mu 2\alpha = \frac{2\epsilon\varphi\alpha}{1 + \epsilon\varphi^2\alpha} \quad \sigma\upsilon\nu 2\alpha = \frac{1 - \epsilon\varphi^2\alpha}{1 + \epsilon\varphi^2\alpha}$$

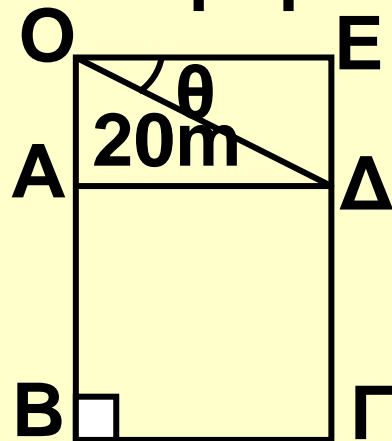
να αποδείξετε ότι η συνάρτηση

$$f(x) = \frac{1 + \eta\mu x}{5 + 4\sigma\upsilon\nu x} \quad x \in (-\pi, \pi)$$

12. Να λύσετε την εξίσωση:

$$\eta\mu x + \sigma\upsilon\nu x - \frac{\eta\mu 2x}{\sqrt{2} + 1} = \sigma\upsilon\nu\left(\frac{\pi}{4} - x\right)$$

13. Ένα γκαράζ σχήματος ορθογώνιου έχει σχεδιασθεί, έτσι ώστε να αποτελείται από ένα τετράγωνο ΑΒΓΔ και ένα ορθογώνιο ΟΑΔΕ με $ΟΔ = 20\text{m}$, όπως περιγράφει το παρακάτω σχήμα. Για ποια τιμή της γωνίας θ rad το εμβαδό S m^2 του γκαράζ γίνεται μέγιστο;



Υπόδειξη

i) Να δείξετε ότι

$$S = 400\sigma\upsilon\nu^2\theta + 400\eta\mu\theta\sigma\upsilon\nu\theta$$

ii) Να εκφράσετε το S στη μορφή

$$S = \rho\eta\mu(20+\varphi) + c$$

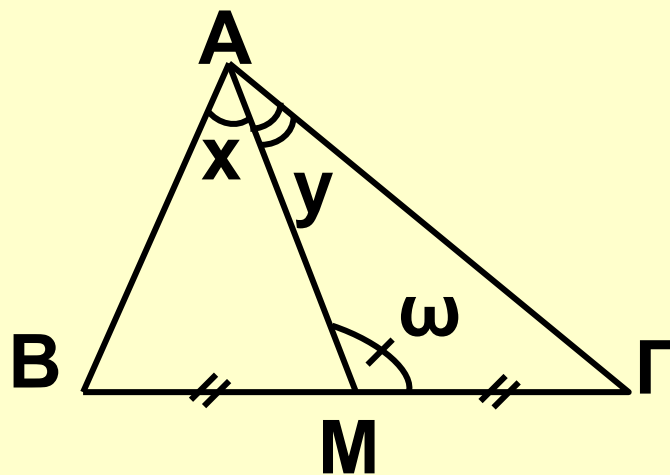
iii) Να βρείτε την τιμή του θ , για την οποία το S παίρνει τη μέγιστη τιμή, την οποία και να προσδιορίσετε.

14. Δίνεται ένα τρίγωνο ΑΒΓ και η

διάμεσός του ΑΜ. Αν $\widehat{ΜΑΒ} = x$,

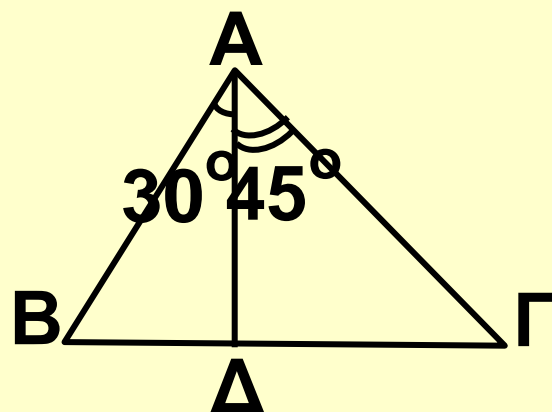
$\widehat{ΜΑΓ} = y$ και $\widehat{ΑΜΓ} = \omega$, να αποδείξετε ότι:

$$2\sigma\phi\omega = \sigma\phi x - \sigma\phi y$$



15. Να υπολογίσετε τις γωνίες Β και Γ του παρακάτω σχήματος, αν

ισχύει $\frac{\Delta\Gamma}{\Delta B} = \sqrt{3}$



ΠΕΡΙΕΧΟΜΕΝΑ 1ου ΤΟΜΟΥ

ΚΕΦΑΛΑΙΟ 1ο: Τριγωνομετρία

1.1 Οι τριγωνομετρικές συναρτήσεις	13
1.2 Βασικές τριγωνομετρικές εξισώσεις	44
1.3 Τριγωνομετρικοί αριθμοί αθροίσματος γωνιών	62
1.4 Τριγωνομετρικοί αριθμοί της γωνίας 2α	86
1.5 Μετασχηματισμοί τριγωνομετρικών παραστάσεων.....	104
1.6 Η συνάρτηση $f(x) = a\eta\mu x + \beta\sigma\upsilon\eta x$	117
1.7 Επίλυση τριγώνου	137

Με απόφαση της Ελληνικής Κυβέρνησης τα διδακτικά βιβλία του Δημοτικού, του Γυμνασίου και του Λυκείου τυπώνονται από τον Οργανισμό Εκδόσεως Διδακτικών Βιβλίων και διανέμονται δωρεάν στα Δημόσια Σχολεία. Τα βιβλία μπορεί να διατίθενται προς πώληση, όταν φέρουν βιβλιόσημο προς απόδειξη της γνησιότητάς τους. Κάθε αντίτυπο που διατίθεται προς πώληση και δε φέρει βιβλιόσημο, θεωρείται κλεψίτυπο και ο παραβάτης διώκεται σύμφωνα με τις διατάξεις του άρθρου 7, του Νόμου 1129 της 15/21 Μαρτίου 1946 (ΦΕΚ 1946, 108, Α΄).



Απαγορεύεται η αναπαραγωγή οποιουδήποτε τμήματος αυτού του βιβλίου, που καλύπτεται από δικαιώματα (copyright), ή η χρήση του σε οποιαδήποτε μορφή, χωρίς τη γραπτή άδεια του Παιδαγωγικού Ινστιτούτου.